

ชื่อ-สกุล _____ ชั้น _____ เลขที่ _____
วันที่ _____ เดือน _____ พ.ศ. _____

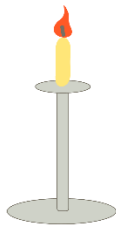


บ. ๒.๑ / พ. ๑.๓ - ๐๒


ใบงาน ๐๒ : แบบฝึกหัด เรื่องการมองเห็นวัตถุต่าง ๆ

ตอบคำถามต่อไปนี้ให้ถูกต้อง


เขียนลูกศรแสดงแนวการเคลื่อนที่ของแสงจากแหล่งกำเนิดแสงที่ทำให้
เด็กผู้หญิงมองเห็นวัตถุ



๑. การมองเห็นเปลวเทียนไข



๒. การมองเห็นต้นไม้



๓. การมองเห็นวัตถุในกล่องทึบ
ทุกด้าน แต่มีรูข้างกล่อง
และมีช่องเล็ก ๆ ที่ใกล้ตา
ของเด็กผู้หญิง