



แบบฝึกหัด 6.21

1) ตอบคำถามและเติมคำตอบลงช่องว่าง

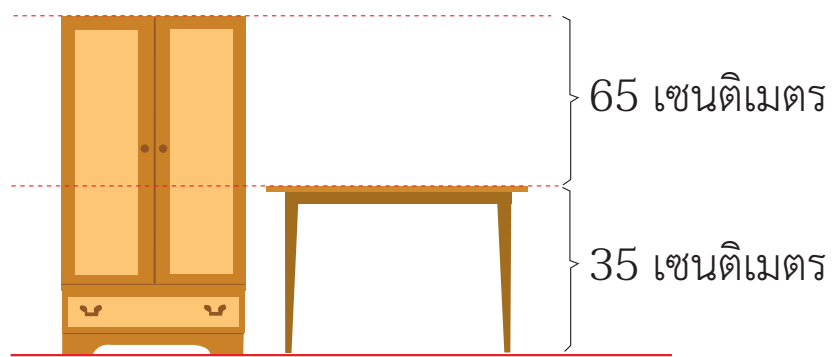
1) โต๊ะสูง 35 เซนติเมตร ตู้สูงกว่าโต๊ะ 65 เซนติเมตร ตู้สูงกี่เซนติเมตร

1) โจทย์ถามอะไร ..... ตู้สูงกี่เซนติเมตร

2) โจทย์บอกอะไร ..... โต๊ะสูง 35 เซนติเมตร ตู้สูงกว่าโต๊ะ 65 เซนติเมตร

3) ตู้ควรสูงมากกว่าหรือน้อยกว่า 35 เซนติเมตร เพราะเหตุใด.....

4) เขียนภาพประกอบได้อย่างไร



5) หาคำตอบได้อย่างไร .....

6) เขียนประโยคสัญลักษณ์ได้อย่างไร .....

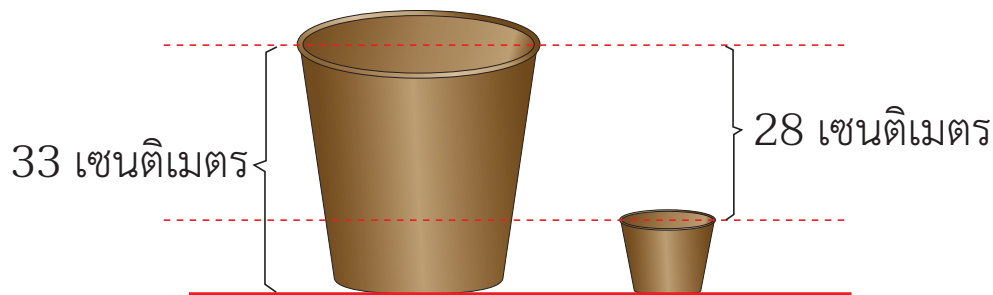
7) หาคำตอบได้เท่าไร .....

ดังนั้น ตู้สูง ..... เซนติเมตร

ตอบ ตู้สูง ..... เซนติเมตร



- ๒) กระจกใบบนใหญ่สูง 33 เซนติเมตร กระจกใบบนเล็กเตี้ยกว่ากระจกใบบนใหญ่ 28 เซนติเมตร กระจกใบบนเล็กจะสูงเท่าไร
- 1) โจทย์ถามอะไร กระจกใบบนเล็กจะสูงเท่าไร .....
  - 2) โจทย์บอกอะไร กระจกใบบนใหญ่สูง 33 เซนติเมตร กระจกใบบนเล็กเตี้ยกว่ากระจกใบบนใหญ่ 28 เซนติเมตร .....
  - 3) กระจกใบบนเล็กควรสูงมากกว่าหรือน้อยกว่า 33 เซนติเมตร เพราะเหตุใด .....
  - 4) เขียนภาพประกอบได้อย่างไร

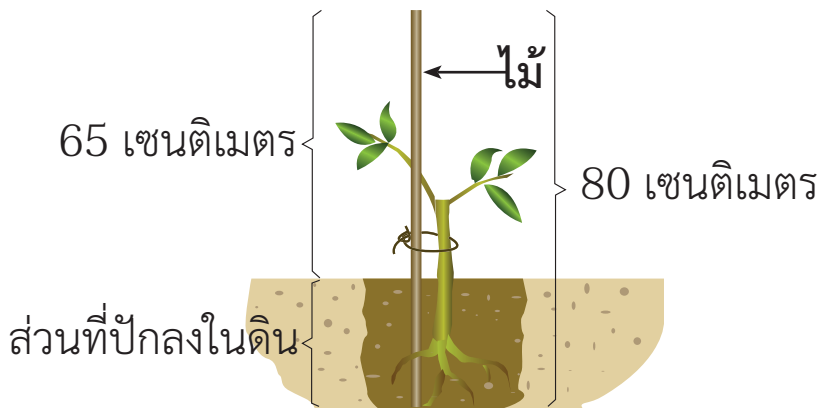


- 5) หาคำตอบได้อย่างไร .....
  - 6) เขียนประโยคสัญลักษณ์ได้อย่างไร .....
  - 7) หาคำตอบได้เท่าไร .....
- ดังนั้น กระจกใบบนเล็กสูง ..... เซนติเมตร
- ตอบ กระจกใบบนเล็กสูง ..... เซนติเมตร





- ๓) ไม้ท่อนหนึ่งยาว 80 เซนติเมตร ปักลงในดินส่วนหนึ่ง และมีส่วนที่พื้นดินยาว 65 เซนติเมตร ส่วนที่ปักลงในดินยาวกี่เซนติเมตร
- 1) โจทย์ถามอะไร ส่วนที่ปักลงในดินยาวกี่เซนติเมตร .....
  - 2) โจทย์บอกอะไร ไม้ท่อนหนึ่งยาว 80 เซนติเมตร  
ปักลงในดินส่วนหนึ่ง และมีส่วนที่พื้นดินยาว 65 เซนติเมตร
  - 3) ส่วนที่ปักลงในดินควรยาวมากกว่าหรือน้อยกว่า 80 เซนติเมตร  
เพราะเหตุใด .....
  - 4) เขียนภาพประกอบได้อย่างไร

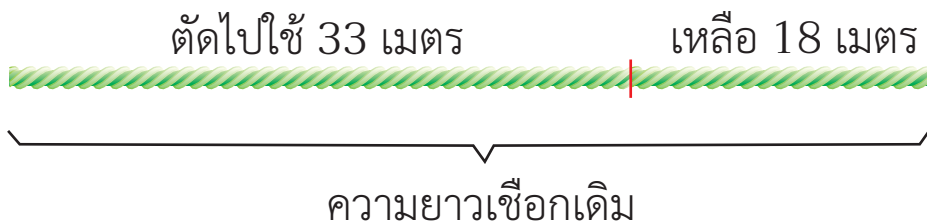


- 5) หาคำตอบได้อย่างไร .....
  - 6) เขียนประโยคสัญลักษณ์ได้อย่างไร .....
  - 7) หาคำตอบได้เท่าไร .....
- ดังนั้น ส่วนที่ปักลงในดินยาว ..... เซนติเมตร
- ตอบ ส่วนที่ปักลงในดินยาว ..... เซนติเมตร



๔ มีเชือกเส้นหนึ่งตัดไปใช้ 33 เมตร เหลือเชือก 18 เมตร  
 เดิมเชือกเส้นนี้ยาวเท่าไร

- 1) โจทย์ถามอะไร .....
- 2) โจทย์บอกอะไร .....
- 3) เดิมเชือกเส้นนี้ควรยาวมากกว่าหรือน้อยกว่า 33 เซนติเมตร  
 เพราะเหตุใด .....
- 4) เขียนภาพประกอบได้อย่างไร



- 5) หาคำตอบได้อย่างไร .....
- 6) เขียนประโยคสัญลักษณ์ได้อย่างไร .....
- 7) หาคำตอบได้เท่าไร .....

ดังนั้น เชือกเส้นนี้ยาว ..... เมตร

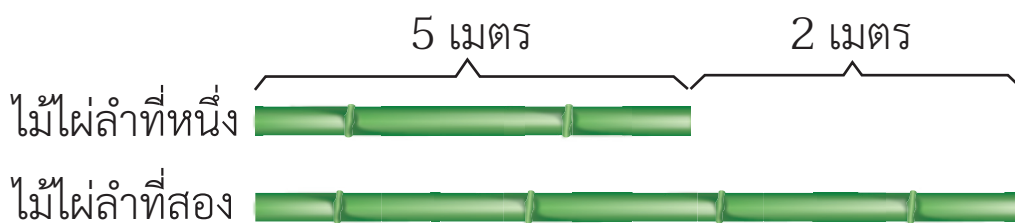
ตอบ เชือกเส้นนี้ยาว ..... เมตร





๕) ไม้ไผ่ลำที่หนึ่งยาว 5 เมตร และยาวน้อยกว่าไม้ไผ่ลำที่สอง 2 เมตร  
ไม้ไผ่ลำที่สองยาวกี่เมตร

- 1) โจทย์ถามอะไร .....
- 2) โจทย์บอกอะไร .....
- 3) ไม้ไผ่ลำที่สองควรยาวมากกว่าหรือน้อยกว่าลำที่หนึ่ง เพราะเหตุใด .....
- 4) เขียนภาพประกอบได้อย่างไร



- 5) หาคำตอบได้อย่างไร .....
  - 6) เขียนประโยคสัญลักษณ์ได้อย่างไร .....
  - 7) หาคำตอบได้เท่าไร .....
- ดังนั้น ไม้ไผ่ลำที่สองยาว ..... เมตร
- ตอบ ไม้ไผ่ลำที่สองยาว ..... เมตร

