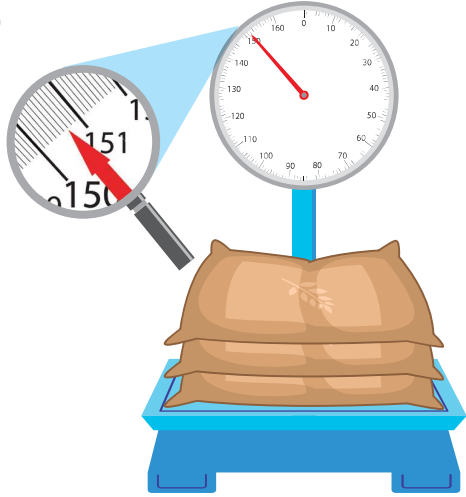


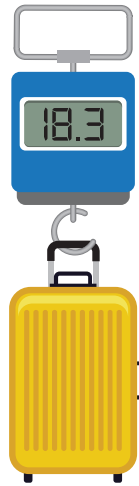
แบบฝึกหัด 8.18




1 เขียนคำตอบลงในช่องว่าง

1) 


ข้าวสารหนัก กิโลกรัม ซีต
หรือ กิโลกรัม กรัม

2) 

กระเป๋าหนัก กิโลกรัม ซีต
หรือ กิโลกรัม กรัม

3) 

รถบรรทุกหนัก กิโลกรัม ซีต
หรือ กิโลกรัม กรัม

4) 

เหล็กเส้นหนัก กิโลกรัม ซีต
หรือ กิโลกรัม กรัม

2 เขียนคำตอบลงในช่องว่าง

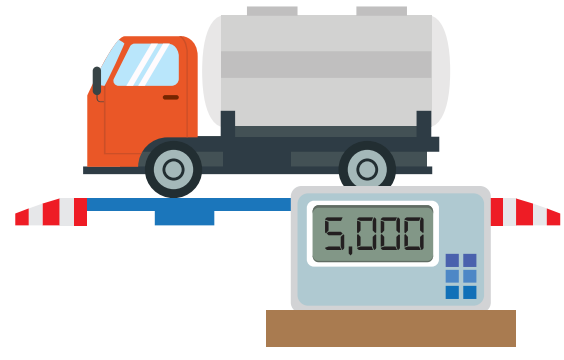


รูปภาพ	อ่านน้ำหนัก	บอกน้ำหนัก
1) 	 	กระเทียมหนัก กิโลกรัม กรัม
2) 	 	ส้มหนัก กิโลกรัม กรัม
3) 	 	พริกแห้งหนัก กิโลกรัม กรัม

3 เขียนคำตอบลงในช่องว่าง



1)




รถบรรทุกหนัก กิโลกรัม
รถบรรทุกหนัก ตัน

2)



รถยนต์ขนาดเล็กหนัก กิโลกรัม
รถยนต์ขนาดเล็กหนัก ตัน

3)



ป้ายห้ามรถทุกชนิดที่มีน้ำหนักรวมมากกว่า 10 ตัน ใช้สะพานนี้
สะพานนี้จำกัดน้ำหนัก กิโลกรัม