

# รายวิชาสังคมศึกษา

รหัสวิชา ส๑๖๑๐๑

ชั้นประถมศึกษาปีที่ ๖

## ลักษณะภูมิประเทศภาคตะวันตก

ครูผู้สอน ครูอาทิตย์ ศรีรุ่ง  
ครูภากร อุปการแก้ว



# ลักษณะภูมิประเทศ ภาคตะวันตก



# จุดประสงค์

๑. นักเรียนอธิบายลักษณะภูมิประเทศภาคตะวันตกของไทยได้ถูกต้อง



# จุดประสงค์

๒. นักเรียนวิเคราะห์ลักษณะ  
ภูมิประเทศที่ส่งผลต่อ  
วิถีชีวิตของประชากรใน  
ภาคตะวันตกได้ถูกต้อง



# จุดประสงค์

๓. นักเรียนอภิปรายถึง

ความสำคัญของการศึกษา เรื่อง

ลักษณะภูมิประเทศภาคตะวันตก

ของไทยได้อย่างมีเหตุผล





มูลนิธิสืบนาคะเสถียร

เขตรักษาพันธุ์สัตว์ป่าทุ่งใหญ่นเรศวร - ห้วยขาแข้ง

BHUMIBOL DAM

เขื่อนภูมิพล



เขาวัง



A night festival scene with people leading decorated oxen in a dirt arena under string lights. The scene is illuminated by numerous strings of warm white lights and some blue and green neon lights. In the foreground, a man in a dark green shirt leads a brown and white spotted ox, while another man in an orange t-shirt leads a dark brown ox. The background shows a large crowd of people and other oxen, with a bright green light display in the distance.

## การละเล่นวัวลาน

จาก <https://www.youtube.com/watch?v=1aea4-o6zw4>

A magnifying glass is positioned over a world map, focusing on the Southeast Asian region. The map shows various countries including Indonesia, the Philippines, and Papua New Guinea. A central white circle contains the Thai text 'จังหวัดในภาคตะวันตก' (Provinces in the West Region). Surrounding this circle are four decorative icons: a lightbulb in an orange circle (top right), a thumbs-up in a yellow circle (bottom left), a green circle (middle right), and a blue circle (bottom right).

# จังหวัด ในภาคตะวันตก






# จังหวัดในภาคตะวันตก

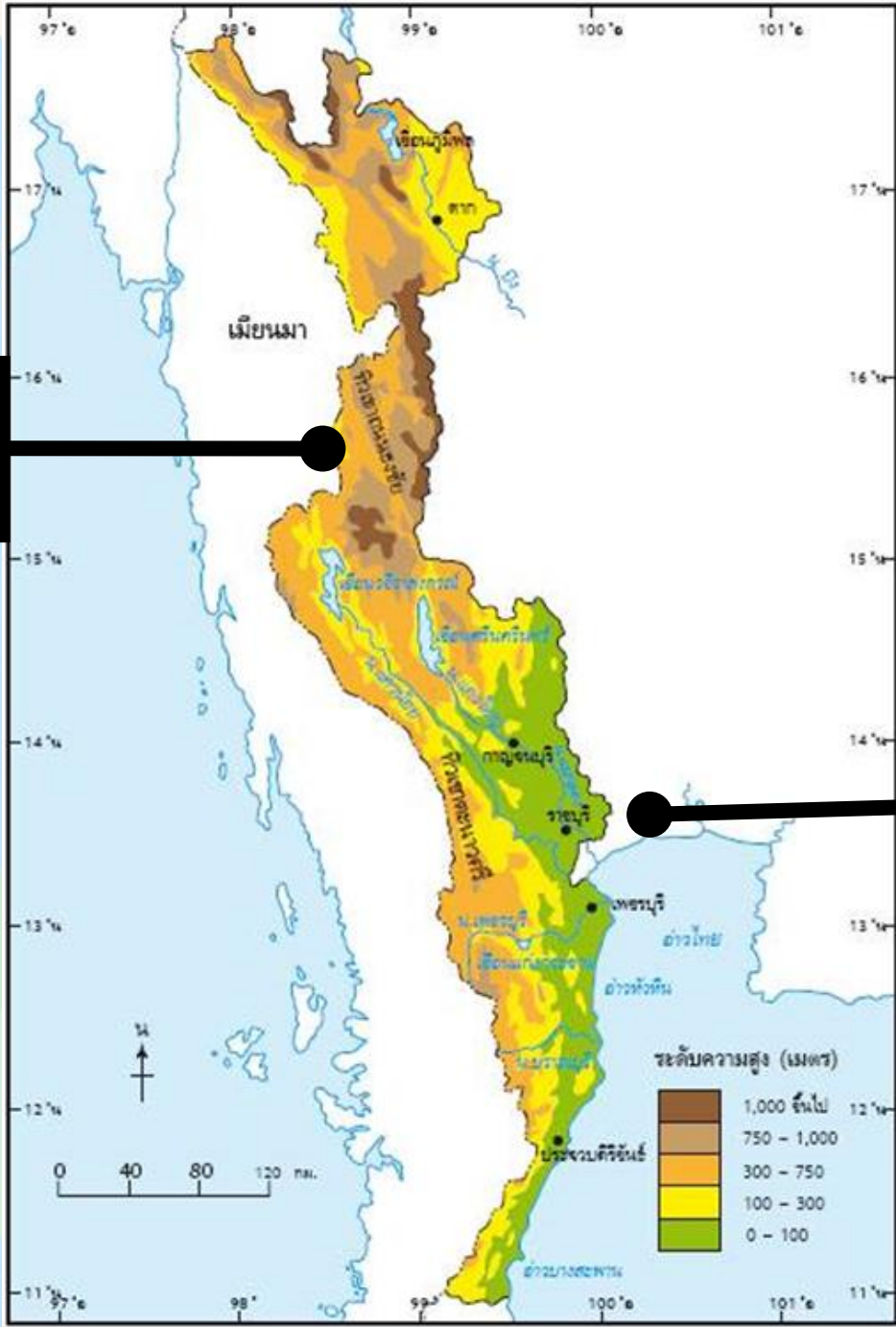


๕ จังหวัด


A magnifying glass is positioned over a world map, focusing on Southeast Asia. The map shows various countries including Indonesia, the Philippines, and Papua New Guinea. A lightbulb icon in an orange circle is in the top right, and a thumbs up icon in a yellow circle is in the bottom left. A white circular frame surrounds the central text.

# ทิวเขา ในภาคตะวันตก

ทิวเขาถนนธงชัย



ทิวเขาตะนาวศรี



กลุ่มป่าแก่งกระจาน



# แม่น้ำ ในภาคตะวันตก

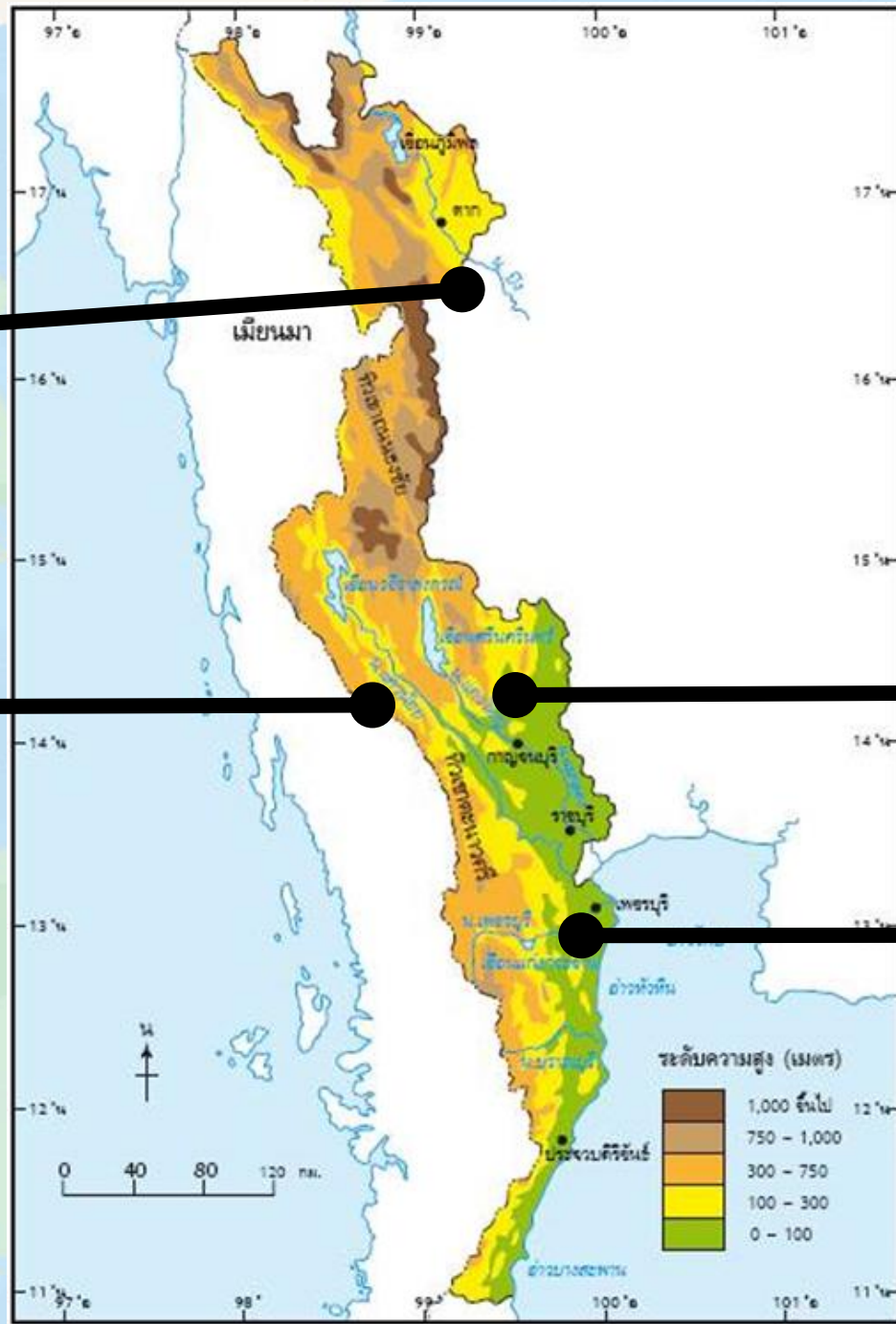


แม่น้ำปิง


แม่น้ำแควน้อย

แม่น้ำแควใหญ่

แม่น้ำเพชรบุรี







# แม่ น้ำเพชรบุรี

จาก <https://www.bangkokbiznews.com/social/1024>

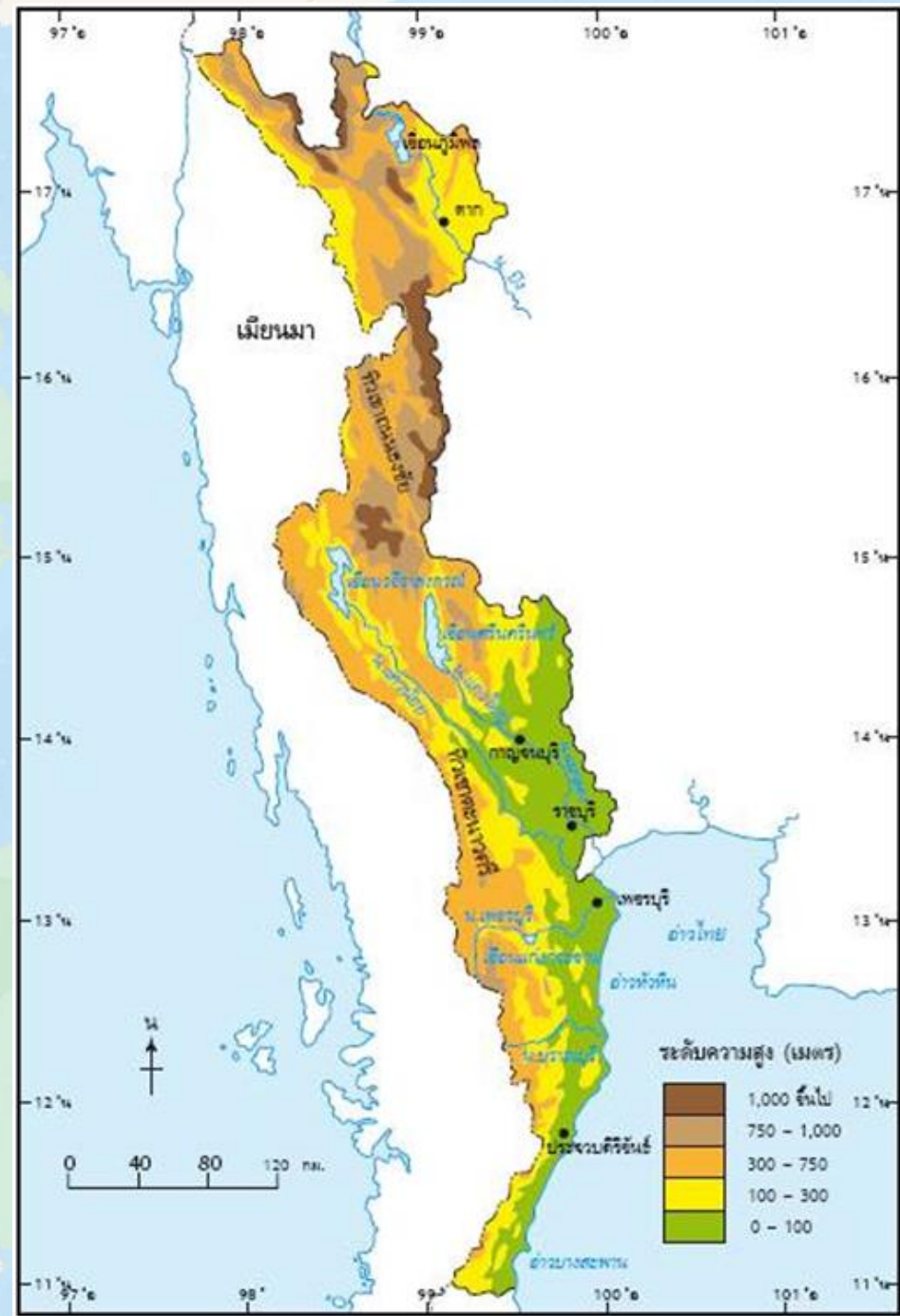


แม่น้ำปิง




# ที่ราบ ในภาคตะวันออกเฉียง






ภาพแผนที่ จาก สนพ วพ



ที่ราบในจังหวัดเพชรบุรี



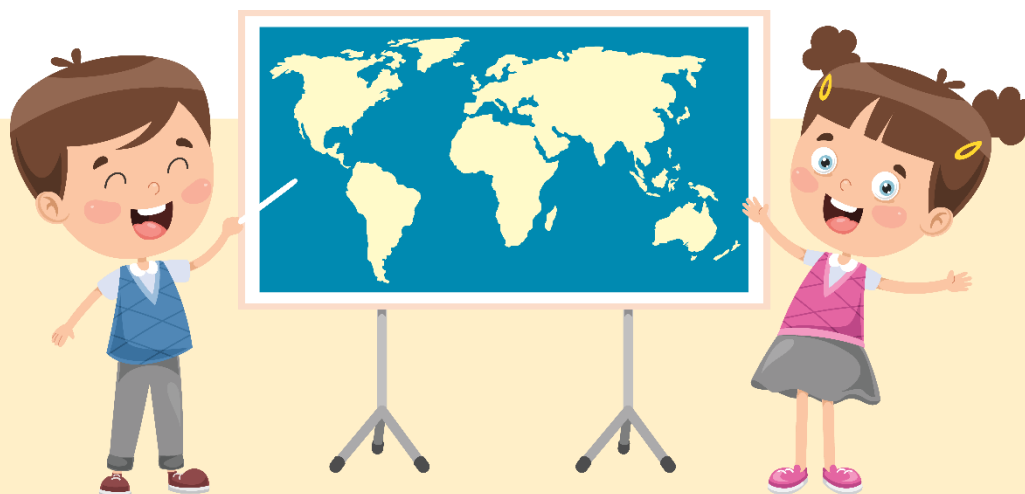
ชายฝั่งทะเล หัวหิน



ที่ราบในจังหวัดประจวบคีรีขันธ์

# “แฟนพันธุ์แท้ภาคตะวันตก”


ครูนำเสนอภาพลักษณะภูมิประเทศ และวิถีชีวิตอื่น ๆ ของ  
ผู้คนในภาคตะวันตก จำนวน ๑๐ ภาพ และให้นักเรียนยกมือตอบ  
คำถามว่าภาพดังกล่าวอยู่ในบริเวณจังหวัดใดของภาคตะวันตก









อุทยานประวัติศาสตร์พระนครคีรี




ราชบุรี




ตาก




เพชรบุรี




กาญจนบุรี




# เขื่อนภูมิพล




ราชบุรี



ตาก




เพชรบุรี




กาญจนบุรี




สะพานข้ามแม่น้ำแคว




ราชบุรี



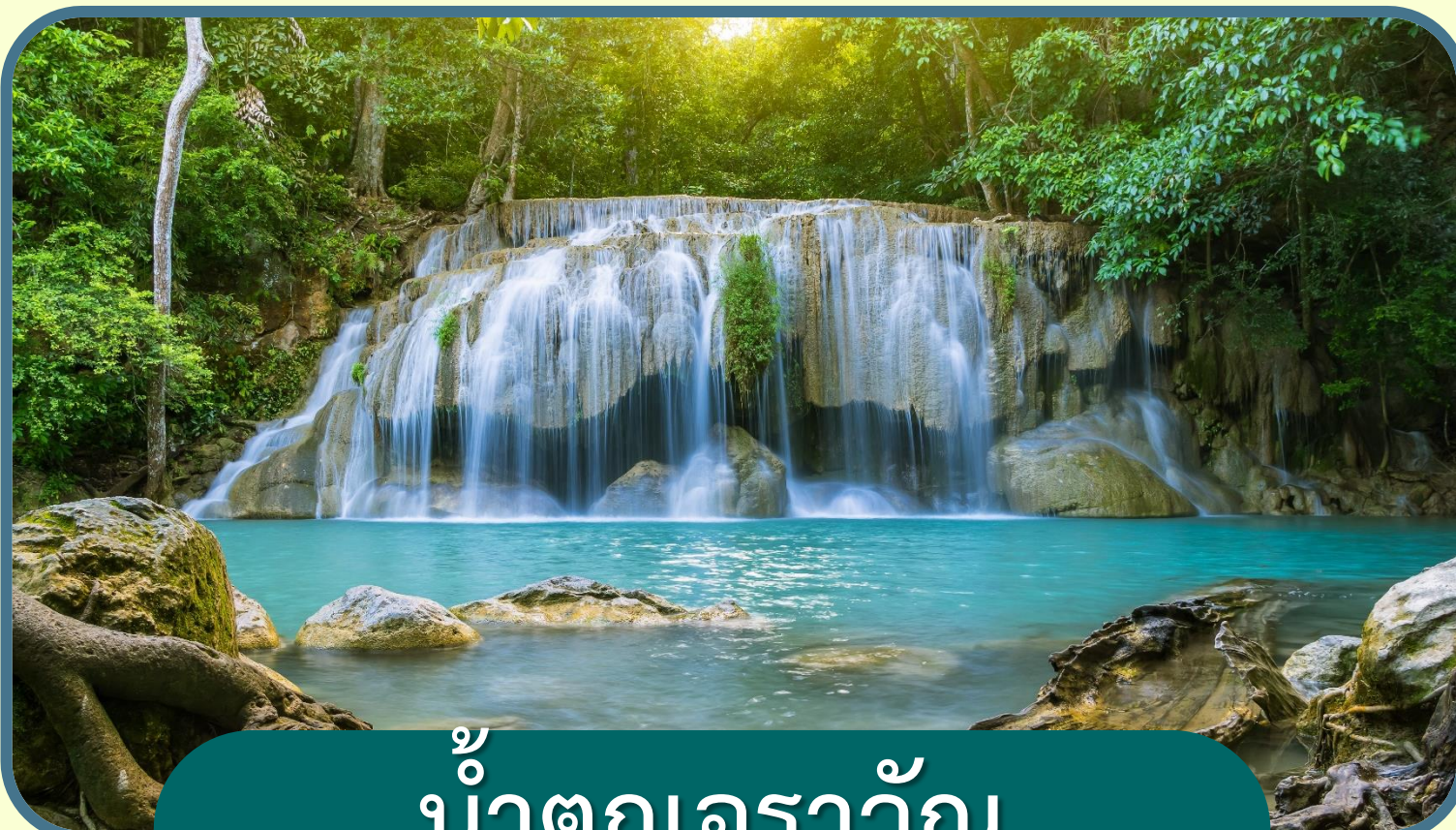
ตาก




เพชรบุรี




กาญจนบุรี




น้ำตกเอราวัณ




ราชบุรี



ประจวบคีรีขันธ์




เพชรบุรี




กาญจนบุรี




## ตลาดน้ำดำเนินสะดวก




ราชบุรี



ประจวบคีรีขันธ์



เพชรบุรี



กาญจนบุรี




## ประเพณีลอยกระทงสาย


- ตาก
- ประจวบคีรีขันธ์
- เพชรบุรี
- กาญจนบุรี




## ชาติพันธุ์ไทยทรงดำ เขาย้อย




ตาก



ประจวบคีรีขันธ์




เพชรบุรี




กาญจนบุรี




เกาะจาน




ตาก



ประจวบคีรีขันธ์



เพชรบุรี




กาญจนบุรี







## อุทยานแห่งชาติกุยบุรี




ตาก



ประจวบคีรีขันธ์




เพชรบุรี




กาญจนบุรี




## เขื่อนศรีนครินทร์




ตาก



ประจวบคีรีขันธ์



เพชรบุรี



กาญจนบุรี

คำถามชวนคิด



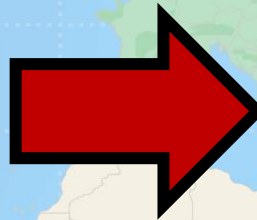
ลักษณะทางกายภาพของภาคตะวันตก  
มีอิทธิพลต่อวิถีชีวิตของ  
ผู้คนที่อาศัยอยู่อย่างไรบ้าง







จาก <https://travel.trueid.net/detail/Xl0x2Jeyveal>

แม่น้ำปิง



จาก <https://www.noomsaotours.co.th>

ลอยกระทงสาย



ครูให้นักเรียนทำใบงานที่ ๒  
เรื่อง ลักษณะภูมิประเทศ

ภาคตะวันตก



## คำชี้แจงในการทำ กิจกรรมนักเรียน

ให้นักเรียนระบุตำแหน่งของ  
จังหวัด แม่น้ำ และเทือกเขาใน  
ภาคตะวันตกของไทยลงในแผนที่  
ด้านล่าง พร้อมตอบคำถาม  
ที่กำหนดให้สมบูรณ์



## คำชี้แจงบทบาท ครูปลายทาง

๑. ครูให้นักเรียนทำใบงานที่ ๒ เรื่อง  
ลักษณะภูมิประเทศภาคตะวันตก
๒. ครูให้นักเรียนลงมือทำใบงานได้
๓. ครูให้ความช่วยเหลือนักเรียนตาม  
ความเหมาะสม



# ใบงานที่ ๖ เรื่อง ลักษณะภูมิประเทศภาคตะวันตก



๑. ภาคตะวันตกมีกี่จังหวัด อะไรบ้าง

.....  
.....

๒. เทือกเขาที่สำคัญในภาคตะวันตก มีเทือกเขาอะไรบ้าง

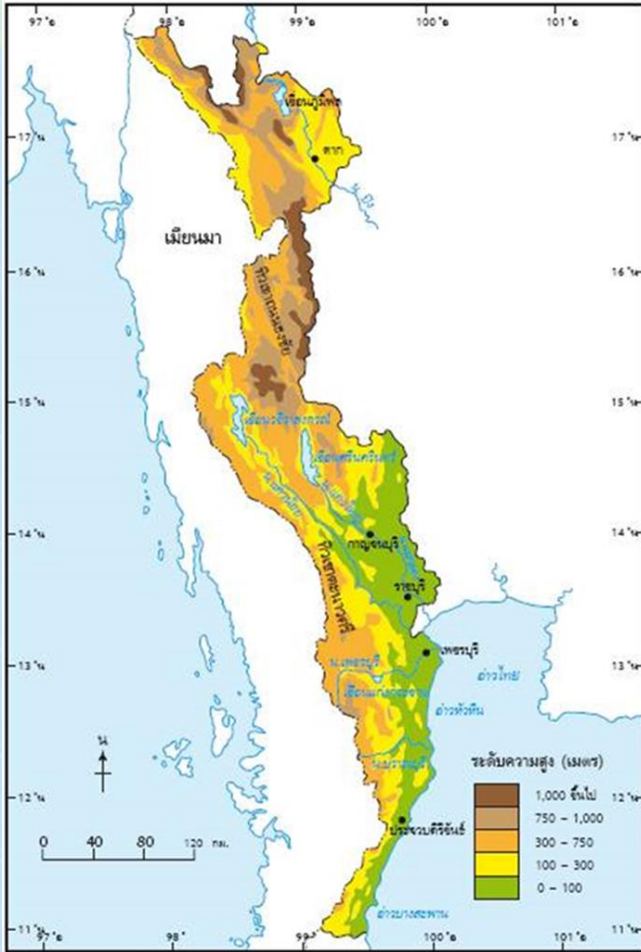
.....  
.....

๓. แม่น้ำที่สำคัญในภาคตะวันตก มีแม่น้ำอะไรบ้าง

.....  
.....



# สรุป



## ๑. ภาคตะวันตกมีกี่จังหวัด อะไรบ้าง

ภาคตะวันตกมี ๕ จังหวัด ได้แก่ จังหวัดกาญจนบุรี จังหวัดตาก จังหวัดประจวบคีรีขันธ์ จังหวัดเพชรบุรี จังหวัดราชบุรี

## ๒. เทือกเขาที่สำคัญในภาคตะวันตก มีเทือกเขาอะไรบ้าง

เทือกเขาตะนาวศรี เทือกเขาถนนธงชัย

## ๓. แม่น้ำที่สำคัญในภาคตะวันตก มีแม่น้ำอะไรบ้าง

แม่น้ำเพชรบุรี แม่น้ำปิง แม่น้ำแควใหญ่ แม่น้ำแควน้อย



บทเรียนครั้งต่อไป



# ลักษณะภูมิประเทศ ภาคใต้

สามารถดาวน์โหลดได้ที่ [www.dltv.ac.th](http://www.dltv.ac.th)

