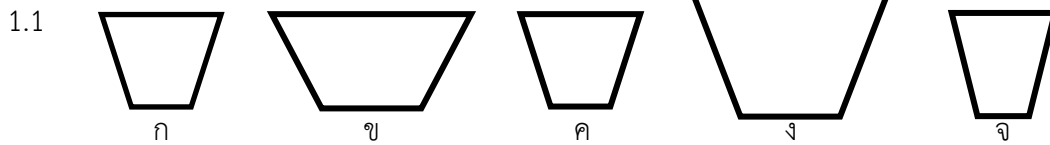


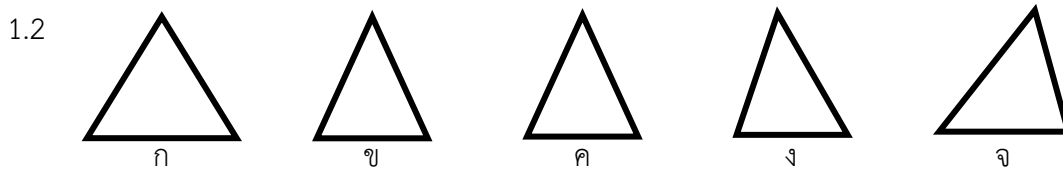
ใบงานที่ 1 เรื่อง ความเท่ากันทุกประการของรูปเรขาคณิต (1)  
หน่วยการเรียนรู้ที่ 2 แผนการจัดการเรียนรู้ที่ 1 เรื่อง ความเท่ากันทุกประการของรูปเรขาคณิต (1)  
รายวิชา คณิตศาสตร์ 4 รหัสวิชา ค22102 ภาคเรียนที่ 2 ชั้นมัธยมศึกษาปีที่ 2

จุดประสงค์ บอกได้ว่ารูปเรขาคณิตสองรูปเท่ากันทุกประการ

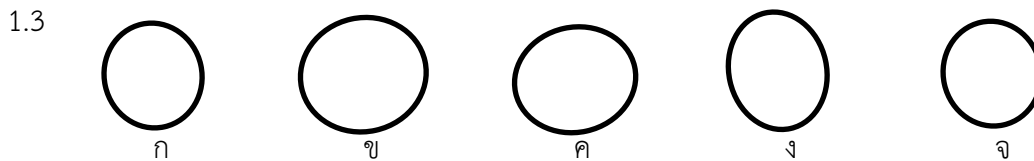
1. จงหารูปเรขาคณิตใดบ้างที่เท่ากันทุกประการ (ใช้กระดาษลอกสลายลอกรูปแล้วนำไปวางซ้อนกัน)



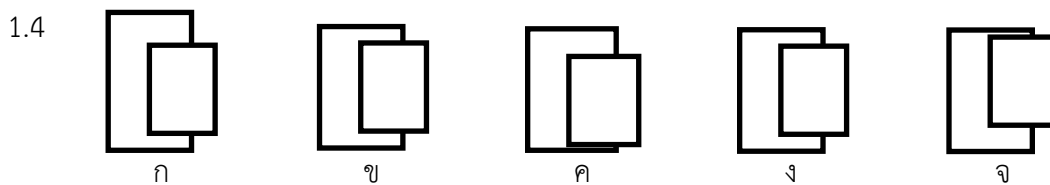
ตอบ .....



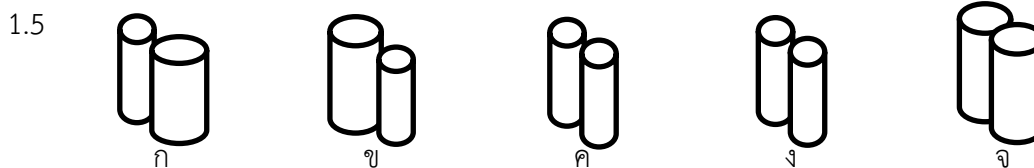
ตอบ .....



ตอบ .....



ตอบ .....



ตอบ .....