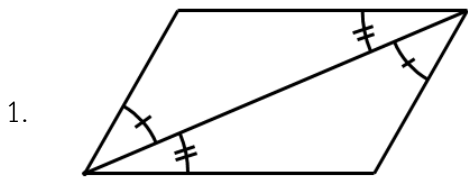
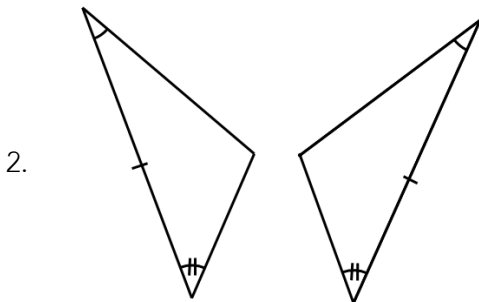


ใบงานที่ 6.2 เรื่อง รูปสามเหลี่ยมสองรูปที่สัมพันธ์กันแบบ มุม-ด้าน-มุม (2)
 หน่วยการเรียนรู้ที่ 2 แผนการจัดการเรียนรู้ที่ 6 เรื่อง ความเท่ากันทุกประการ
 รายวิชา คณิตศาสตร์ 4 รหัสวิชา ค22102 ภาคเรียนที่ 2 ชั้นมัธยมศึกษาปีที่ 2

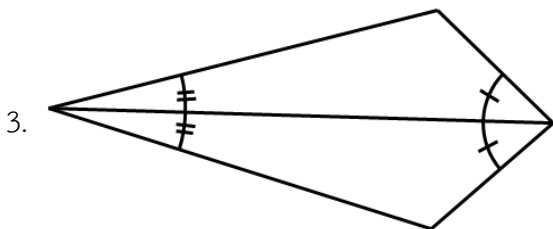
จุดประสงค์ ระบุได้ว่ารูปสามเหลี่ยมสองรูปที่สัมพันธ์กันแบบ มุม-ด้าน-มุม เท่ากันทุกประการ
โจทย์ ให้นักเรียนพิจารณา ว่ารูปสามเหลี่ยมสองรูปในข้อใดที่สัมพันธ์กันแบบ มุม-ด้าน-มุม



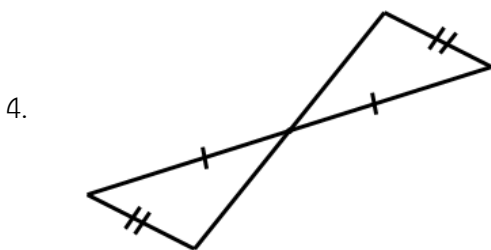
ตอบ




ตอบ



ตอบ



ตอบ



ตอบ