


ชื่อ-สกุล _____ ชั้น _____ เลขที่ _____
 วันที่ _____ เดือน _____ พ.ศ. _____




ใบงาน ๐๑ : หุ่นยนต์ทำตามคำสั่ง

๑. ใช้ดินสอลากเส้นทางลงในรูปที่ ๑ ที่จะให้หุ่นยนต์เดินไป ระบายสีในช่องที่ ๑-๔ ตามลำดับ โดยหุ่นยนต์จะยืนอยู่ในตำแหน่งเริ่มต้นดังรูปที่ ๑ และได้ผลลัพธ์ดังรูปที่ ๒

๑ 			
		๓	
	๒		
			๔

รูปที่ ๑ ตำแหน่งเริ่มต้นของหุ่นยนต์

๑			
		๓	
	๒		
			๔ 






รูปที่ ๒ ผลลัพธ์ที่ต้องการ

ชื่อ-สกุล ชั้น เลขที่
 วันที่ เดือน พ.ศ.



บ. ๖.๔ / พ. ๔.๒-๐๑

๒. ใช้บัตรคำสั่ง A-E เพื่อสั่งให้หุ่นยนต์เดินไประบายสีในช่อง ๑-๔ ตามเส้นทางที่เขียนไว้ในรูปที่ ๑ เพื่อให้ได้ผลลัพธ์ ดังรูปที่ ๒ จากนั้นโดยนำบัตรคำสั่ง A-E มาใส่ในตารางคำตอบ

<p>บัตรคำสั่ง</p>	<p>A</p>  <p>เดินขึ้นบน ๑ ช่อง</p>	<p>B</p>  <p>เดินลงล่าง ๑ ช่อง</p>
<p>C</p>  <p>เดินไปด้านซ้าย ๑ ช่อง</p>	<p>D</p>  <p>เดินไปด้านขวา ๑ ช่อง</p>	<p>E</p>  <p>ระบายสีลงในช่องที่หุ่นยนต์ยืนอยู่</p>

ตารางคำตอบ

๑) E	๒)	๓)	๔)
๕)	๖)	๗)	๘)
๙)	๑๐)	๑๑)	๑๒)
๑๓)	๑๔)	๑๕)	๑๖)
๑๗)	๑๘)	๑๙)	๒๐)