

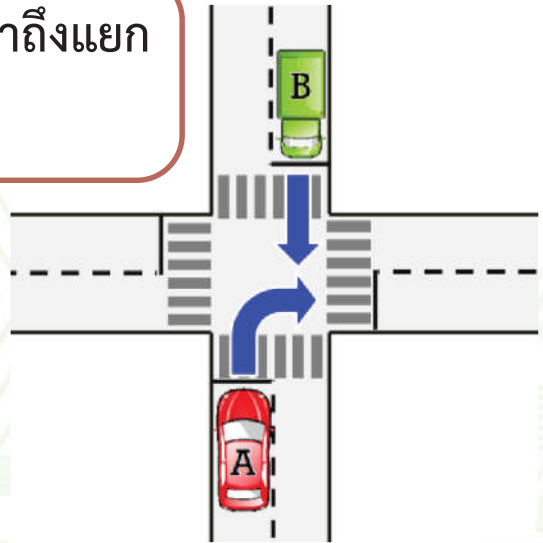
ใบงาน ๐๗ : กฎจราจรน่ารู้

๑. ให้นักเรียนชมคลิปวิดีโอที่กำหนดให้แล้วตอบคำถาม

๑.๑ กฎหมายจราจร : ถ้ารถ ๒ คันมาถึงแยก
พร้อมกัน ให้รถที่วิ่งทางตรงไปก่อน

รถคันไหนหยุดรอ

รถคันไหนไปก่อน



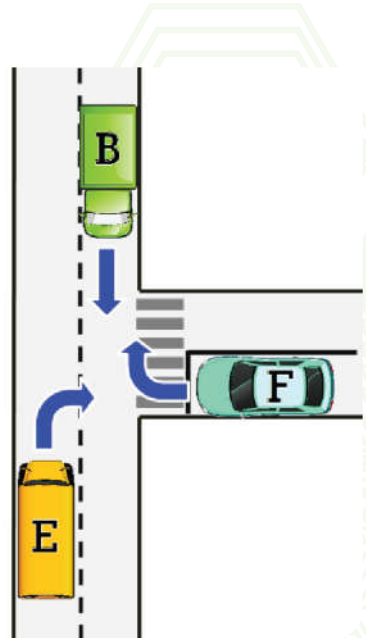
๑.๒ กฎหมายจราจร : ถ้ารถ ๒ คันมาถึงทางแยก
พร้อมกัน ให้รถที่วิ่งทางย่อย หลุดชะลอให้รถ
ทางหลักไปก่อน

รถคันไหนหยุดรอ

รถคันไหนไปก่อน



๑.๓ กฎหมายจราจร : ถ้ารถทุกคันมาถึงทางแยกพร้อมกัน ให้รถที่วิ่งมาทางด้านซ้ายไปก่อนเสมอ



รถคันไหนได้ไปเป็นคันที่ ๑ _____



รถคันไหนได้ไปเป็นคันที่ ๒ _____

รถคันไหนได้ไปเป็นคันที่ ๓ _____


๒. ณ ลานจอดรถแห่งหนึ่ง เมื่อถ่ายภาพลานจอดรถในวันเสาร์และวันอาทิตย์ จะได้ดังรูป

วันเสาร์

วันอาทิตย์



ชื่อ-สกุล ชั้น เลขที่
วันที่ เดือน พ.ศ.



๒.๑ รถที่จอดเฉพาะวันเสาร์ คือ

.....
.....
.....
.....

๒.๒ รถที่จอดเฉพาะวันอาทิตย์ คือ

.....
.....
.....
.....

๒.๓ รถที่จอดทั้งวันเสาร์และวันอาทิตย์ คือ

.....
.....
.....
.....

๒.๔ ถ้ามีรถที่จอดค้างคืนวันเสาร์ นักเรียนคิดว่าจะเป็นรถคันใด
เพราะเหตุใด

.....
.....
.....
.....