

รายวิชา คณิตศาสตร์

รหัสวิชา ค11101

ชั้นประถมศึกษาปีที่ 1

ผู้สอน ครูรัชนิพร พิณฑอง


เรื่อง รูปสามเหลี่ยม รูปสี่เหลี่ยม รูปวงกลม และวงรี

รูปร่างเหลี่ยม รูปร่างสี่เหลี่ยม

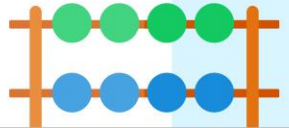
รูปร่างกลม และวงรี



เพลงคนเก่งคณิตศาสตร์




เกมอะไรเอ่ย

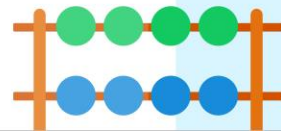


รูปที่มีด้าน 3 ด้าน

มุม 3 มุม



รูปสามเหลี่ยม

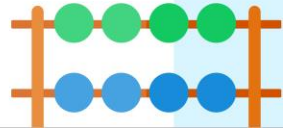


รูปที่มีด้าน 4 ด้าน

มุม 4 มุม



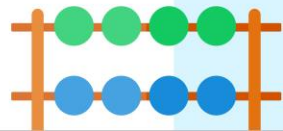
รูปสี่เหลี่ยม

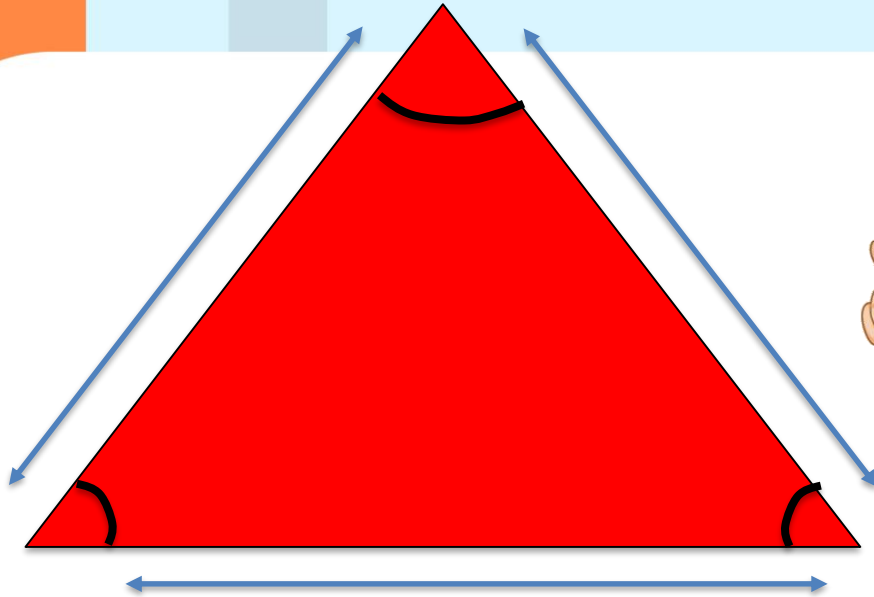



รูปที่ไม่มีด้าน ไม่มีมุม
ขอบมีลักษณะโค้ง
ยาวรีกว่าวงกลม


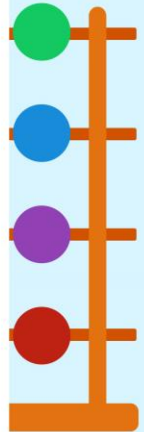



รูปวงรี



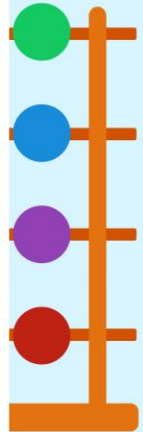





รูปสามเหลี่ยม มีด้าน 3 ด้าน มีมุม 3 มุม
โดยที่ด้านแต่ละด้านมีลักษณะตรงกัน



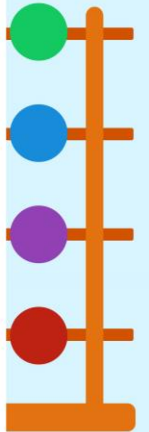


รูปสี่เหลี่ยม มีด้าน 4 ด้าน มีมุม 4 มุม
รูปสี่เหลี่ยมอาจมีลักษณะแตกต่างกัน
แต่จะมีด้าน 4 ด้าน มุม 4 มุม เหมือนกัน

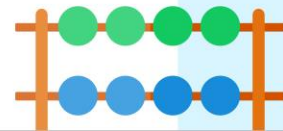





รูปวงกลม วงรี ไม่มีด้าน ไม่มีมุม
ขอบรูปมีลักษณะโค้ง



ให้นักเรียนสังเกตภาพ
แล้วตอบว่าคล้ายรูป
เรขาคณิตชนิดใด






ภาพต้นไม้คล้ายรูป
เรขาคณิตชนิดใด



รูปสามเหลี่ยม








ภาพดอกทานตะวันคล้าย
รูปเรขาคณิตชนิดใด



รูปวงกลม






ภาพรถยนต์คล้ายรูป
เรขาคณิตชนิดใด



รูปสี่เหลี่ยมซ้อนกัน 2 รูป








ภาพแตงโมคล้ายรูป
เรขาคณิตชนิดใด



รูปวงรี






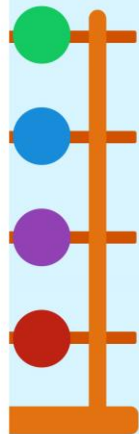
ภาพหน้าคนคล้ายรูป
เรขาคณิตชนิดใด




รูปวงรี



ให้นักเรียนประดิษฐ์ภาพจาก สามเหลี่ยม
สี่เหลี่ยม วงกลม และวงรี ตามจินตนาการ





สิ่งต่างๆ ที่อยู่รอบตัวนั้น
เมื่อมองจากขอบนอกแล้ว
อาจมีลักษณะคล้ายรูปสามเหลี่ยม
รูปสี่เหลี่ยม วงกลม หรือวงรี
หรือรูปหลายรูปประกอบกัน

