

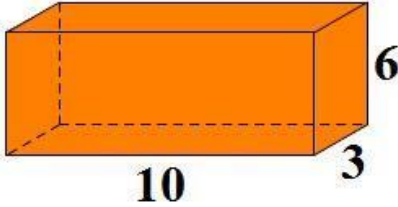
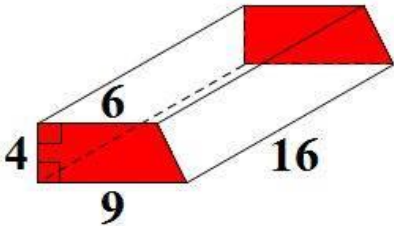
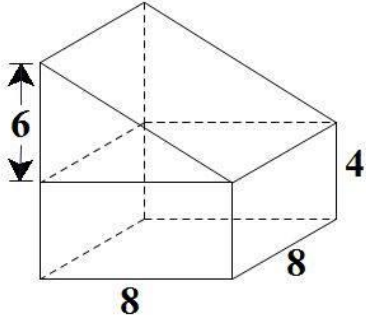
ใบงานที่ 5 เรื่อง พื้นที่ผิวของปริซึม



**จุดประสงค์** หาพื้นที่ผิวของปริซึมได้

**คำชี้แจง** จากรูปที่กำหนดให้ต่อไปนี้ จงหาพื้นที่ของฐานทั้งสอง พื้นที่ของด้านข้าง และพื้นที่ผิวของปริซึม แล้วเติมลงในช่องว่างให้ถูกต้อง

ข้อ	รูปปริซึม	พื้นที่ของฐานทั้งสอง (ตารางหน่วย)	พื้นที่ของด้านข้าง (ตารางหน่วย)	พื้นที่ผิว ของปริซึม (ตารางหน่วย)
	<p>ตัวอย่าง</p>	96	1,280	1,376
1		162		
2			96	

ข้อ	รูปปริซึม	พื้นที่ของฐาน ทั้งสอง (ตารางหน่วย)	พื้นที่ของด้านข้าง (ตารางหน่วย)	พื้นที่ผิว ของปริซึม (ตารางหน่วย)
3				216
4		60		
5			256	

การประเมินตนเองด้านความซื่อสัตย์ ตั้งมั่นในความถูกต้องดีงาม ทำใ้งานด้วยตนเอง

คำชี้แจง ให้นักเรียนขีดเครื่องหมาย ✓ ให้ตรงตามพฤติกรรมที่ตนปฏิบัติ

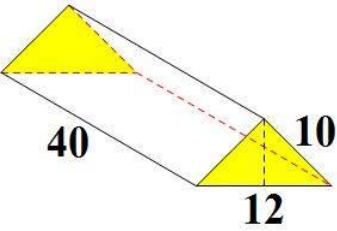
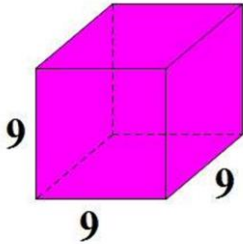
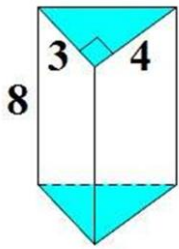
ในการทำกิจกรรมตามใ้งานนี้ นักเรียนมีคุณภาพในระดับใด

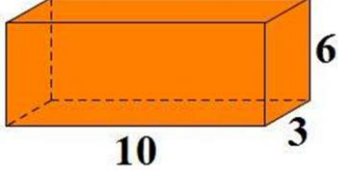
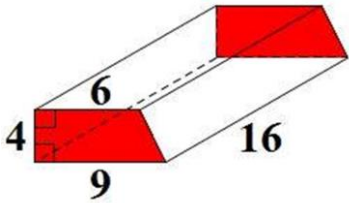
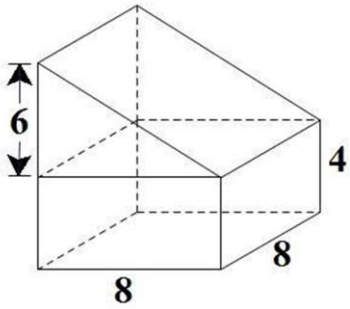
- |                                                                   |                                                                     |
|-------------------------------------------------------------------|---------------------------------------------------------------------|
| <input type="checkbox"/> ระดับ 1 (ปรับปรุง)ไม่ได้ทำใ้งานด้วยตนเอง | <input type="checkbox"/> ระดับ 2 (พอใช้)ทำใ้งานด้วยตนเองเป็นบางส่วน |
| <input type="checkbox"/> ระดับ 3 (ดี)ทำใ้งานด้วยตนเองเป็นส่วนใหญ่ | <input type="checkbox"/> ระดับ 4 (ดีมาก)ทำใ้งานด้วยตนเองทั้งหมด     |

เฉลยใบงานที่ 5 เรื่อง พื้นที่ผิวของปริซึม  
 หน่วยที่ 3 แผนการจัดการเรียนรู้ที่ 6 เรื่อง พื้นที่ผิวของปริซึม (1)  
 รายวิชา คณิตศาสตร์ 3 รหัสวิชา ค22101 ภาคเรียนที่ 1 ชั้นมัธยมศึกษาปีที่ 2

จุดประสงค์ หาพื้นที่ผิวของปริซึมได้

คำชี้แจง จากรูปที่กำหนดให้ต่อไปนี้ จงหาพื้นที่ของฐานทั้งสอง พื้นที่ของด้านข้าง และพื้นที่ผิวของปริซึม แล้วเติมลงในช่องว่างให้ถูกต้อง

ข้อ	รูปปริซึม	พื้นที่ของฐานทั้งสอง (ตารางหน่วย)	พื้นที่ของด้านข้าง (ตารางหน่วย)	พื้นที่ผิวของปริซึม (ตารางหน่วย)
	ตัวอย่าง 	96	1,280	1,376
1		162	324	486
2		12	96	108

ข้อ	รูปปริซึม	พื้นที่ของฐาน ทั้งสอง (ตารางหน่วย)	พื้นที่ของ ด้านข้าง (ตารางหน่วย)	พื้นที่ผิว ของปริซึม (ตารางหน่วย)
3		36	180	216
4		60	384	444
5		112	256	368

การประเมินตนเองด้านความซื่อสัตย์ ตั้งมั่นในความถูกต้องดีงาม ทำใ้งานด้วยตนเอง

คำชี้แจง ให้นักเรียนขีดเครื่องหมาย ✓ ให้ตรงตามพฤติกรรมที่ตนปฏิบัติ

ในการทำกิจกรรมตามใ้งานนี้ นักเรียนมีคุณภาพในระดับใด

- |                                                                   |                                                                     |
|-------------------------------------------------------------------|---------------------------------------------------------------------|
| <input type="checkbox"/> ระดับ 1 (ปรับปรุง)ไม่ได้ทำใ้งานด้วยตนเอง | <input type="checkbox"/> ระดับ 2 (พอใช้)ทำใ้งานด้วยตนเองเป็นบางส่วน |
| <input type="checkbox"/> ระดับ 3 (ดี)ทำใ้งานด้วยตนเองเป็นส่วนใหญ่ | <input type="checkbox"/> ระดับ 4 (ดีมาก)ทำใ้งานด้วยตนเองทั้งหมด     |