

กิจกรรมที่ 1 | ต่อดวงจรไฟฟ้าอย่างง่ายได้อย่างไร

จุดประสงค์ของกิจกรรม

ทำกิจกรรมนี้เพื่อ

.....



.....








บันทึกผลการทำกิจกรรม

ผลการสังเกต

ตาราง 1 การทำงานของหลอดไฟฟ้าเมื่อต่ออุปกรณ์ไฟฟ้าแต่ละลักษณะ

รูปที่	ลักษณะการต่อ	ผลการสังเกต
1	
2	

ตาราง 1 การทำงานของหลอดไฟฟ้าเมื่อต่ออุปกรณ์ไฟฟ้าแต่ละลักษณะ (ต่อ)

รูปที่	ลักษณะการต่อ	ผลการสังเกต
3	
4	
5	
6	
7	

ผลการสืบค้นข้อมูลและผลการอภิปราย

ตาราง 2 หน้าที่ของส่วนประกอบของวงจรไฟฟ้าอย่างง่าย

ส่วนประกอบ	หน้าที่
.....
.....
.....

ลักษณะของวงจรปิด

.....

.....

.....

ลักษณะของวงจรเปิด

.....

.....

.....