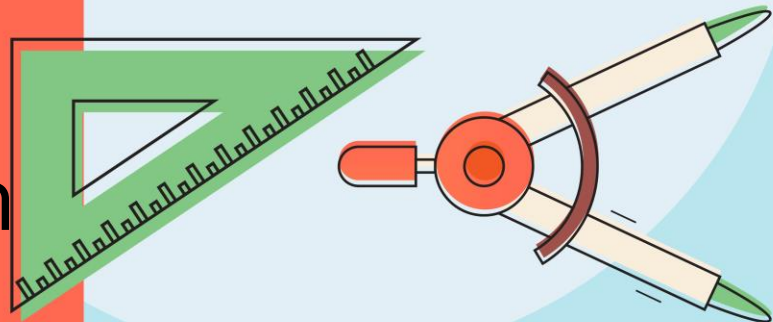
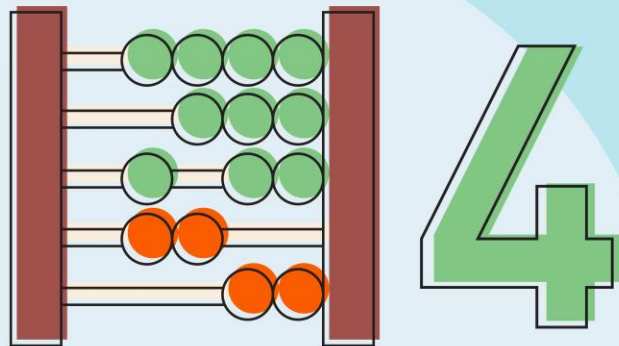


# รายวิชา คณิตศาสตร์

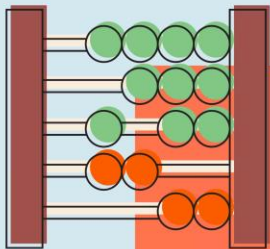
รหัสวิชา ค14101

ชั้นประถมศึกษาปีที่ 4

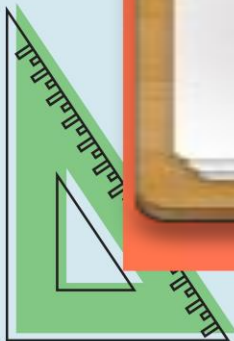
ผู้สอน ครูสุภาวรรณ ปานกิจเจริญ

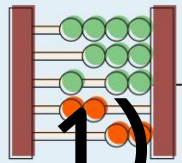


เรื่อง การบวกจำนวนที่มีหลายหลัก

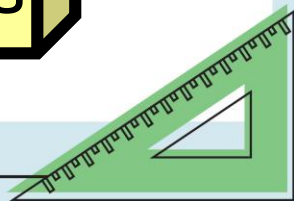
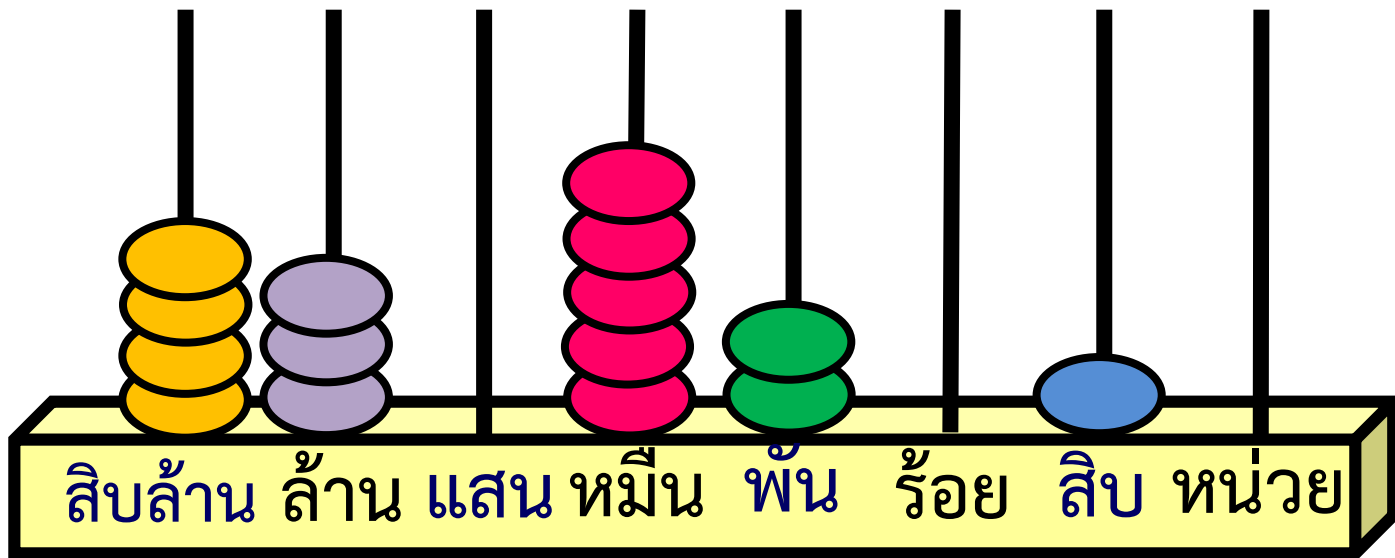


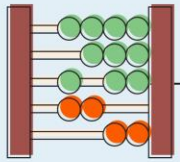
# ประเมินผล หน่วยย่อยที่ 1.1





# 1) จากหลักลูกคิด แสดงจำนวนใด





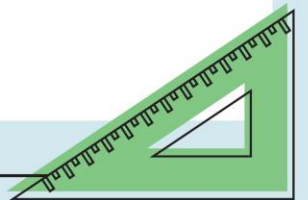
ก. 4,352,100

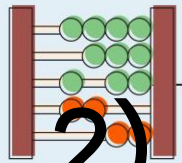
ข. 4,305,210



43,052,010

ง. 43,502,010





2) 24,500,500 ตรงกับข้อใด

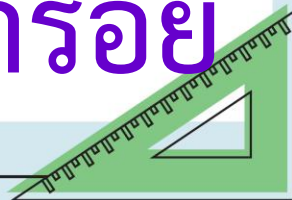
ก. สองสิบล้านห้าร้อยห้าร้อย

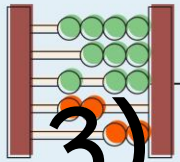
ข. ยี่สิบล้านสี่ล้านห้าแสนห้าร้อย



ยี่สิบล้านห้าแสนห้าร้อย

ง. ยี่สิบล้านสี่แสนห้าหมื่นห้าร้อย





3)  $6,000,000 + 60,000 + 600 + 6$

ตรงกับข้อใด

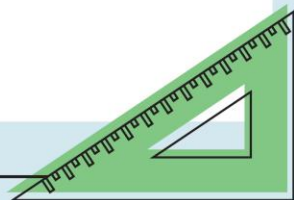


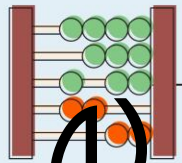
6,060,606

ข. 6,600,606

ค. 6,660,006

ง. 60,060,006

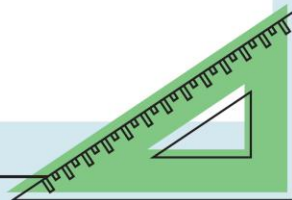


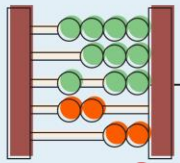


4) ข้อใดเรียงลำดับจำนวนจาก  
มากไปน้อย

ก. 3,340,200      4,430,200

5,200,655      6,655,300



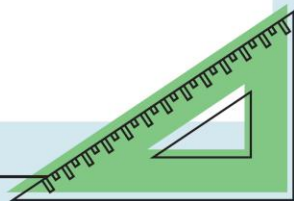


ข. 789,000      2,540,000

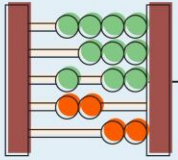
990,990      4,721,000

ค. 3,480,000      1,920,000

1,029,000      1,290,000





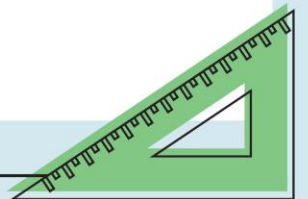


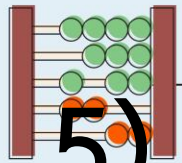
2,950,000

2,000,950

2,000,590

2,000,059





5) ค่าประมาณเป็นจำนวนเต็มสิบ

ของ 233 คือจำนวนใด

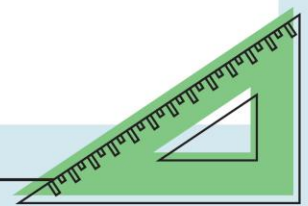
ก. 200

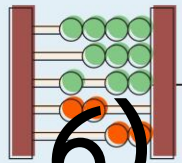


230

ค. 240

ง. 300





6) ค่าประมาณเป็นจำนวนเต็มร้อย

ของ 4,160 คือจำนวนใด

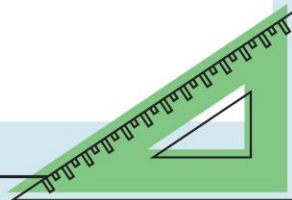
ก. 4,300

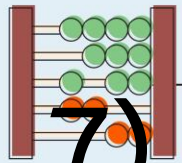


4,200

ค. 4,100

ง. 4,000





7) ค่าประมาณเป็นจำนวนเต็มพัน

ของ 35,750 คือจำนวนใด

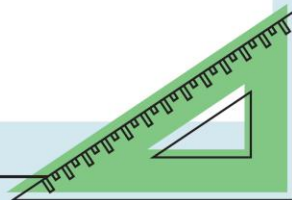


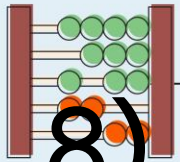
36,000

ข. 35,800

ค. 35,000

ง. 34,000





8) ค่าประมาณเป็นจำนวนเต็มหมื่น

ของ 99,999 คือจำนวนใด

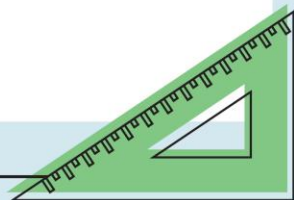
ก. 90,000

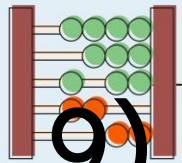
ข. 99,000



100,000

ง. 110,000





9) ค่าประมาณเป็นจำนวนเต็มแสน

ของ 1,456,666 คือจำนวนใด

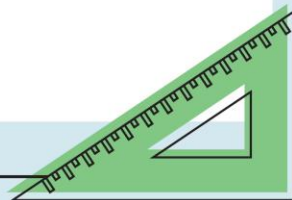
ก. 1,300,000

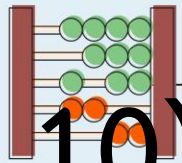
ข. 1,400,000

ค. 1,450,000



1,500,000





10) ค่าประมาณเป็นจำนวนเต็มล้าน

ของ 22,222,000 คือจำนวนใด

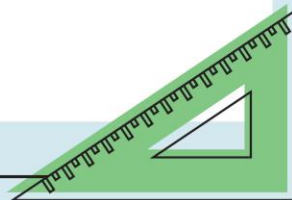
ก. 23,000,000



ข. 22,000,000

ค. 21,000,000

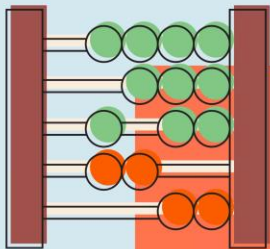
ง. 20,000,000



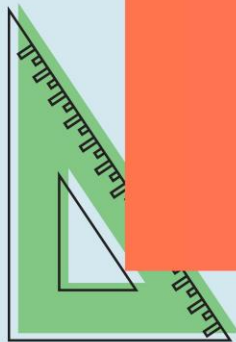


การบวกจำนวนที่มีหลายหลัก

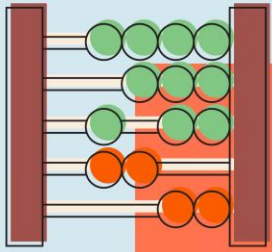





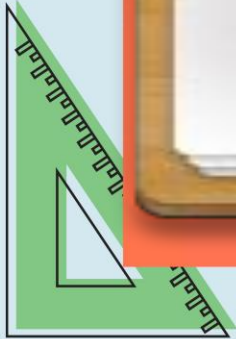
จงหาผลบวก

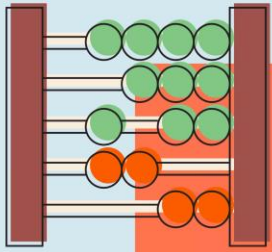


4


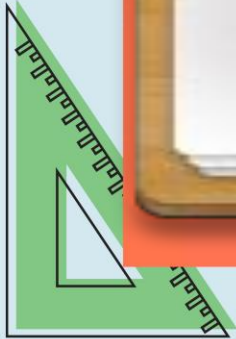


$$1) 592,385 + 386,547$$





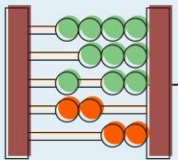
$$2) 413,456 + 239,272$$





# การบ้าน

แบบฝึกหัด 1.11



หน่วยที่

จำนวนนับและการบวก การลบ การคูณ การหาร

☆☆☆ ฝ.๑.๑๑/ฝ.๑๑

## แบบฝึกหัด 1.11

### 1. เติมผลลัพธ์

1)

$$\begin{array}{r} 871,796 \\ + \\ \hline 29,254 \\ \hline \end{array}$$

2)

$$\begin{array}{r} 2,456,437 \\ + \\ \hline 1,243,563 \\ \hline \end{array}$$

3)

$$\begin{array}{r} 934,001 \\ + \\ \hline 851,912 \\ \hline \end{array}$$

4)

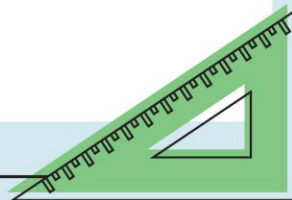
$$\begin{array}{r} 2,514,826 \\ + \\ \hline 2,226,927 \\ \hline \end{array}$$

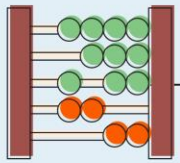
5)

$$\begin{array}{r} 9,042,369 \\ + \\ \hline 982,976 \\ \hline \end{array}$$

6)

$$\begin{array}{r} 8,090,876 \\ + \\ \hline 4,589,697 \\ \hline \end{array}$$





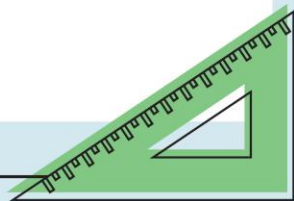
1)

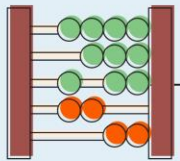
<sup>1 1 1 1 1</sup>  
871,796

+

29,254

901,050

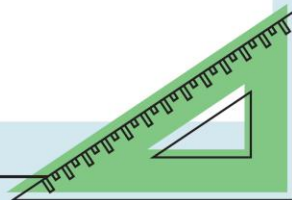


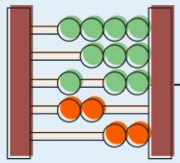


$$2) \quad 2,456,437$$

+

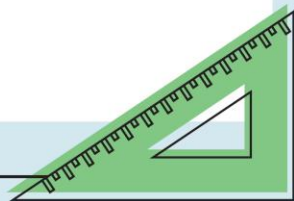
$$\underline{1,243,563}$$



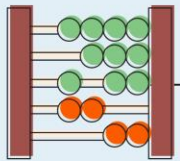


$$3) \quad 934,001 +$$

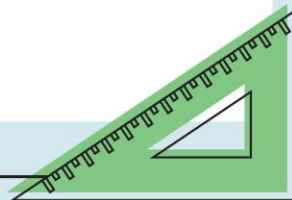
$$\underline{851,912}$$

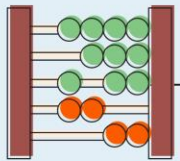




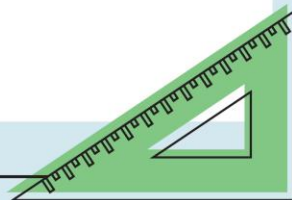


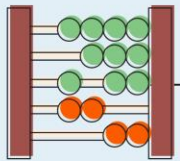
$$\begin{array}{r} 4) \quad 2,514,826 \\ \quad 2,226,927 \\ \hline \\ \hline \end{array}$$



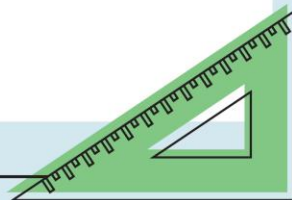


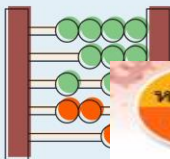
$$\begin{array}{r} 5) \quad 9,042,369 \\ \quad 982,976 \\ \hline \\ \hline \end{array} +$$





$$\begin{array}{r} 6) \quad 8,090,876 \\ \quad 4,589,697 \\ \hline \\ \hline \end{array}$$





หน่วยที่



จำนวนนับและการบวก การลบ การคูณ การหาร



ผ.๑.๑๑/ผ.๑๑

2. แสดงวิธีทำ

1)  $121,755 + 1,370,317 = \square$

วิธีทำ .....

ตอบ .....

2)  $4,981,194 + 2,238,908 = \square$

วิธีทำ .....

ตอบ .....

3)  $632,745 + 8,186,500 = \square$

วิธีทำ .....

ตอบ .....

4)  $403,650 + 474,588 = \square$

วิธีทำ .....

ตอบ .....

