


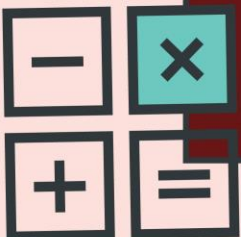

รายวิชา คณิตศาสตร์

รหัสวิชา ค13101

ชั้นประถมศึกษาปีที่ 3

ผู้สอน ครูณภาพรรณ เกิดพันธ์

เรื่อง การอ่านบันทึกรายรับ รายจ่าย





จุดประสงค์การเรียนรู้

เพื่อให้นักเรียนสามารถอ่านบันทึกรายรับรายจ่ายได้
เมื่อกำหนดรายรับรายจ่ายให้





การใช้จ่ายเงินในชีวิตประจำวัน





จำนวนเงินที่นักเรียนได้รับมา เรียกว่า “รายรับ”


จำนวนเงินที่นักเรียนจ่ายไป เรียกว่า “รายจ่าย”



บันทึกรายรับรายจ่ายของเด็กหญิงแสนดี ชัยนเก่ง
ตั้งแต่วันที่ 8 - 10 สิงหาคม พ.ศ. 2561

วัน เดือน ปี	รายการ	รายรับ		รายจ่าย		คงเหลือ	
		บาท	สตางค์	บาท	สตางค์	บาท	สตางค์
8 ส.ค. 61	แม่ให้เงิน	120	00	-	-	120	00
	พ่อให้เงิน	50	00	-	-	170	00
9 ส.ค. 61	ซื้อพจนานุกรม	-	-	78	00	92	00
	พี่ให้เงิน	40	00	-	-	132	00
10 ส.ค. 61	ซื้ออาหารกลางวัน	-	-	46	50	85	50
	ซื้อขนมฝากพี่	-	-	17	00	68	50

แบบฝึกหัด 6.8



บันทึกรายรับรายจ่ายของเด็กชายมีชัย โชคดี
ตั้งแต่วันที่ 12 - 14 สิงหาคม พ.ศ. 2561



วัน เดือน ปี	รายการ	รายรับ		รายจ่าย		คงเหลือ	
		บาท	สตางค์	บาท	สตางค์	บาท	สตางค์
12 ส.ค. 61	พ่อให้เงิน	100	00	-	-	100	00
	พี่สาวให้เงิน	50	00	-	-	150	00
13 ส.ค. 61	ซื้อขนม	-	-	48	50	101	50
	แม่ให้เงิน	70	00	-	-	171	50
14 ส.ค. 61	ซื้อสมุด	-	-	35	00	136	50
	ซื้ออาหารกลางวัน	-	-	40	00	96	50



แบบฝึกหัด 6.8

1 ตอบคำถามต่อไปนี้

บันทึกรายรับรายจ่ายของ นายทิว เก่งงาน ตั้งแต่วันที่ 6 - 9 กันยายน พ.ศ. 2561

วัน เดือน ปี	รายการ	รายรับ		รายจ่าย		คงเหลือ	
		บาท	สตางค์	บาท	สตางค์	บาท	สตางค์
6 ก.ย. 61	รับค่าจ้างตัดหญ้า	370	00	-	-	370	00
	ค่าอาหารและค่ารถ	-	-	64	00	306	00
7 ก.ย. 61	ค่าอาหารและค่ารถ	-	-	76	00	230	00
	ค่ายา	-	-	82	00	148	00
8 ก.ย. 61	ค่าอาหารและค่ารถ	-	-	69	00	79	00
	ซื้อถุงมือ	-	-	35	00	44	00
9 ก.ย. 61	รับค่าจ้างตักแต่งสวน	450	00	-	-	494	00
	ค่าไฟฟ้า	-	-	128	75	365	25





1) ตารางนี้แสดงอะไร

.....

.....

.....

2) มีรายรับทั้งหมดกี่รายการ เป็นเงินทั้งหมดเท่าใด

.....

.....





3) มีรายจ่ายทั้งหมดก็รายการ เป็นเงินทั้งหมดเท่าใด

.....

.....

4) นายทิวจ่ายค่าอาหารและค่ารถไปทั้งหมดเท่าใด

.....

.....

5) เมื่อรวมรายรับและรายจ่ายทั้งหมดแล้ว นายทิวยังเหลือเงินเท่าใด

.....

.....



บันทึกกรายรับรายจ่ายของ เด็กหญิงปราณี มั่นทรัพย์
ตั้งแต่วันที่ 10 - 15 สิงหาคม พ.ศ. 2561

วัน เดือน ปี	รายการ	รายรับ		รายจ่าย		คงเหลือ	
		บาท	สตางค์	บาท	สตางค์	บาท	สตางค์
10 ส.ค. 61	พ่อให้เงิน	100	00	-	-	100	00
	พี่ชายให้เงิน	50	00	-	-	150	00
	พี่สาวให้เงิน	50	00	-	-	200	00
11 ส.ค. 61	ซื้อของขวัญให้แม่	-	-	60	00	140	00
	แม่ให้เงิน	80	00	-	-	220	00
12 ส.ค. 61	ซื้อขนม	-	-	10	25	209	75
	ซื้อสมุด	-	-	20	50	189	25
13 ส.ค. 61	ซื้ออาหารกลางวัน	-	-	25	00	164	25





1) ตารางนี้แสดงอะไร

.....

.....

.....

2) มีรายรับทั้งหมดกี่รายการ เป็นเงินทั้งหมดเท่าใด

.....

.....





3) มีรายจ่ายทั้งหมดก็รายการ เป็นเงินทั้งหมดเท่าใด

4) รายรับรายการได้น้อยที่สุด รายจ่ายรายการใดมากที่สุด

5) ในวันที่ 10 ส.ค. 61 มีรายรับรวมทั้งหมดเท่าใด

6) เมื่อรวมรายรับและรายจ่ายทั้งหมดแล้ว ยังมีเงินคงเหลือเท่าใด





สรุป

1. การบันทึกรายรับรายจ่ายลงในตารางให้เป็นหมวดหมู่ จะช่วยให้อ่านรายรับ รายจ่ายได้สะดวก และชัดเจนขึ้น
2. เงินคงเหลือเท่ากับรายรับลบด้วยรายจ่าย