
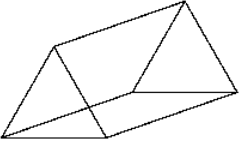
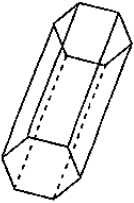
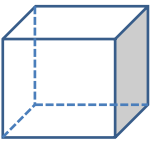
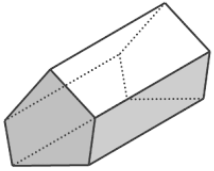
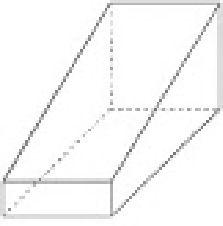


**ใบงานที่ 1 เรื่อง ลักษณะของปริซึม**  
**หน่วยที่ 1 แผนการจัดการเรียนรู้ที่ 1 เรื่อง ปริซึมและทรงกระบอก**  
**รายวิชา คณิตศาสตร์ ภาคเรียนที่ 1 ชั้นมัธยมศึกษาปีที่ 3**

**จุดประสงค์การเรียนรู้**

อธิบายลักษณะของปริซึมและทรงกระบอกได้

**คำชี้แจง :** ให้นักเรียนเขียนเติมคำตอบลงในช่องว่างให้ถูกต้อง พร้อมทั้งระบายสีส่วนที่เป็นฐานของปริซึม

ข้อ	รูปเรขาคณิต	ลักษณะ
1		หน้าตัดหรือฐานเป็นรูป.....มี.....ด้าน ด้านข้างแต่ละด้านเป็นรูป..... มีด้านข้างทั้งหมด.....ด้าน รูปเรขาคณิต เรียกว่า.....
2		หน้าตัดหรือฐานเป็นรูป.....มี.....ด้าน ด้านข้างแต่ละด้านเป็นรูป..... มีด้านข้างทั้งหมด.....ด้าน รูปเรขาคณิต เรียกว่า.....
3		หน้าตัดหรือฐานเป็นรูป.....มี.....ด้าน ด้านข้างแต่ละด้านเป็นรูป..... มีด้านข้างทั้งหมด.....ด้าน รูปเรขาคณิต เรียกว่า.....
4		หน้าตัดหรือฐานเป็นรูป.....มี.....ด้าน ด้านข้างแต่ละด้านเป็นรูป..... มีด้านข้างทั้งหมด.....ด้าน รูปเรขาคณิต เรียกว่า.....
5		หน้าตัดหรือฐานเป็นรูป.....มี.....ด้าน ด้านข้างแต่ละด้านเป็นรูป..... มีด้านข้างทั้งหมด.....ด้าน รูปเรขาคณิต เรียกว่า.....
6		หน้าตัดหรือฐานเป็นรูป.....มี.....ด้าน ด้านข้างแต่ละด้านเป็นรูป..... มีด้านข้างทั้งหมด.....ด้าน รูปเรขาคณิต เรียกว่า.....