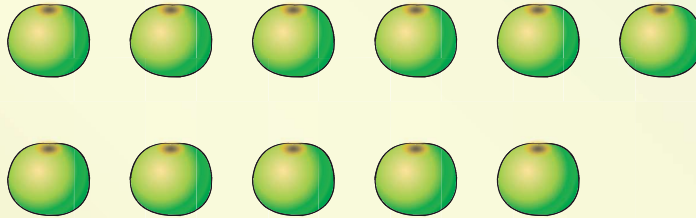




แบบฝึกหัด 1.16

1) นับจำนวนผลไม้ในแต่ละข้อ เติมคำตอบ

1)




นับจำนวนแอปเปิลเขียวได้ ผล

2)



นับจำนวนมะละกอได้ ผล ถ้าเพิ่มอีก 1 ผลจะเป็น ผล

3)




นับจำนวนสับปะรดได้ ผล ถ้าเพิ่มอีก 1 ผลจะเป็น ผล



๒ ระบายสีในรูปตามจำนวนที่กำหนด


1)

ภาพ



2)

ภาพ






3)

ภาพ


จำนวน



4)

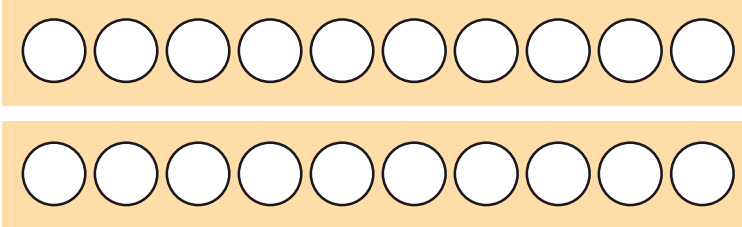
ภาพ

จำนวน

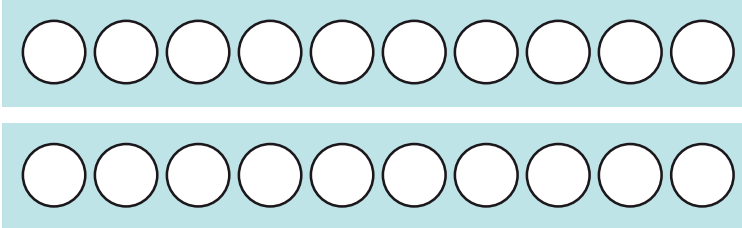


๓ เขียน X บน ○ แสดงจำนวนที่กำหนด

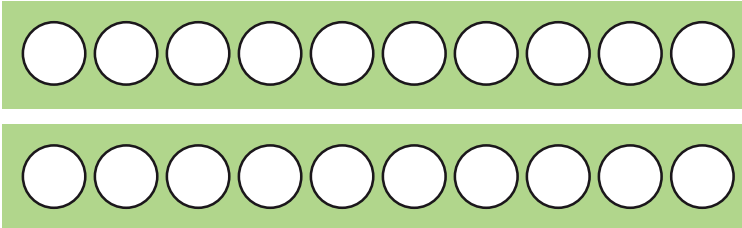
1) **๑๖**



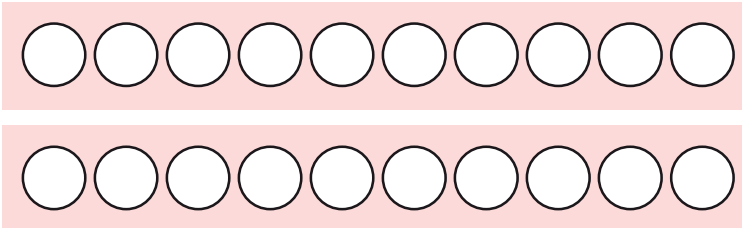
2) **๑๓**



3) **๑๗**

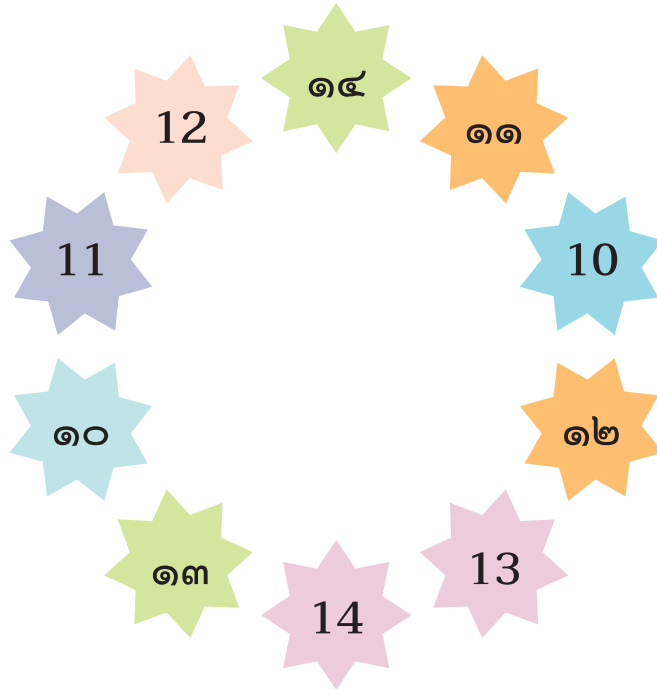


4) **๒๐**





๔ โยงเส้นจับคู่ระหว่างตัวเลขที่แสดงจำนวนเดียวกัน



๕ เติมตัวเลขแสดงจำนวนใน จากการนับทีละ 1

1)	<input type="text"/>	<input type="text"/>	<input type="text"/>	12
2)	<input type="text"/>	15	<input type="text"/>	<input type="text"/>
3)	<input type="text"/>	<input type="text"/>	19	<input type="text"/>