



หน่วยที่ ๑ จำนวน

★ ผ. ๑.๗ / ผ.๗

แบบฝึกหัด 1.7

1 เขียน ✓ ลงใน □ ได้รูปที่มีจำนวน เท่ากัน

ตัวอย่าง

<p style="text-align: center;">□</p>	<p style="text-align: center;">□</p>
<p style="text-align: center;">□</p>	<p style="text-align: center;">□</p>

ชุดกิจกรรมการเรียนรู้ (สำหรับนักเรียน) กลุ่มสาระการเรียนรู้คณิตศาสตร์ ภาคเรียนที่ ๑ ชั้นประถมศึกษาปีที่ ๑ (ฉบับปรับปรุง)




๒ เขียน X ลงใน □ ได้รูปที่มีจำนวน ไม่เท่ากัน


ตัวอย่าง

 □	 □
 □	 □


3 เลือกรูปที่มีจำนวน มากกว่า รูปทางซ้าย แล้วเขียน ✕ ทับ ก ข ค หรือ ง



ก



ข



ค



ง



ก



ข



ค



ง



ก



ข



ค



ง

4 เขียน ✕ ทับจำนวนที่ มากกว่า จำนวนทางซ้าย





5 เลือกรูปที่มีจำนวน น้อยกว่า รูปทางซ้าย แล้วเขียน X ทับ ก ข ค หรือ ง




ก



ข




ค



ง



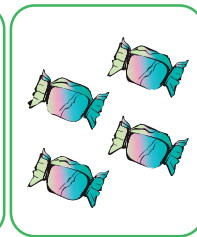
ก



ข



ค



ง



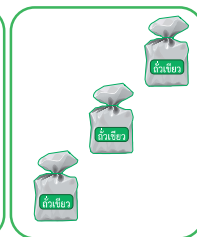
ก



ข



ค



ง

6 เขียน X ทับจำนวนที่ น้อยกว่า จำนวนทางซ้าย

