



แบบฝึกหัด 1.2

๑ นับและระบายสี ○ ให้เท่ากับจำนวนของสิ่งต่างๆ



○ ○ ○ ○ ○



○ ○ ○ ○ ○



○ ○ ○ ○ ○



○ ○ ○ ○ ○




○ ○ ○ ○ ○

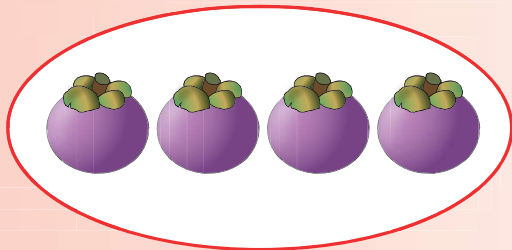


○ ○ ○ ○ ○

๒ นับและระบายสี ○ ให้เท่ากับจำนวนของสิ่งต่างๆ




○ ○ ○ ○ ○




○ ○ ○ ○ ○



○ ○ ○ ○ ○



○ ○ ○ ○ ○



○ ○ ○ ○ ○




หน่วยที่ ๑ จำนวน

★ ฝ. ๑.๒ / ฝ.๒

หน่วยที่ ๑ จำนวน

3 นับและระบายสี ○ ให้เท่ากับจำนวนของสิ่งต่างๆ




○ ○ ○ ○ ○



○ ○ ○ ○ ○



○ ○ ○ ○ ○



○ ○ ○ ○ ○



○ ○ ○ ○ ○



○ ○ ○ ○ ○

ชุดกิจกรรมการเรียนรู้ (สำหรับนักเรียน) กลุ่มสาระการเรียนรู้คณิตศาสตร์ ภาคเรียนที่ ๑ ชั้นประถมศึกษาปีที่ ๑ (ฉบับปรับปรุง)



8 เขียนรูปที่แสดงจำนวน หนึ่ง แล้วระบายสีหรือแรเงา

9 เขียนรูปที่แสดงจำนวน สอง แล้วระบายสีหรือแรเงา

10 เขียนรูปที่แสดงจำนวน สาม แล้วระบายสีหรือแรเงา