









หน่วยที่ ๑ จำนวน

★ ฝ. ๑.๑ / ฝ.๑

แบบฝึกหัด 1.1

1 นับและเขียนวงล้อมรอบรูปที่แสดงจำนวน หนึ่ง




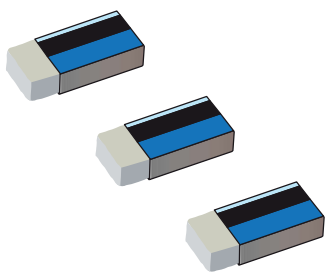


| | |
|---|---|
|  |  |
|  |  |
|  |  |

หน่วยที่ ๑ จำนวน

ชุดกิจกรรมการเรียนรู้ (สำหรับนักเรียน) กลุ่มสาระการเรียนรู้คณิตศาสตร์ ภาคเรียนที่ ๑ ชั้นประถมศึกษาปีที่ ๑ (ฉบับปรับปรุง)



๒ นับและเขียนวงล้อมรอบรูปที่แสดงจำนวน สอง

| | |
|---|--|
|  |  |
|  |  |
|  |  |



หน่วยที่ ๑ จำนวน



★ ผ. ๑.๑ / ผ.๑

หน่วยที่ ๑ จำนวน

๓ นับและเขียนวงล้อมรอบรูปที่แสดงจำนวน สาม



ชุดกิจกรรมการเรียนรู้ (สำหรับนักเรียน) กลุ่มสาระการเรียนรู้คณิตศาสตร์ ภาคเรียนที่ ๑ ชั้นประถมศึกษาปีที่ ๑ (ฉบับปรับปรุง)









หน่วยที่ ๑ จำนวน



★ ฝ. ๑.๑ / ฝ.๑

๔ นับและเขียนวงล้อมรอบรูปที่แสดงจำนวน สี่

| | |
|---|--|
|  |  |
|  |  |
|  |  |

ชุดกิจกรรมการเรียนรู้ (สำหรับนักเรียน) กลุ่มสาระการเรียนรู้คณิตศาสตร์ ภาคเรียนที่ ๑ ชั้นประถมศึกษาปีที่ ๑ (ฉบับปรับปรุง)



5 นับและเขียนวงล้อมรอบรูปที่แสดงจำนวน ห้า

| | |
|--|--|
| | |
| | |
| | |





หน่วยที่ ๑ จำนวน

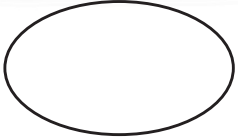
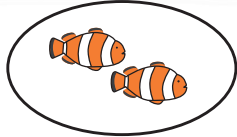
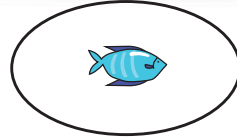

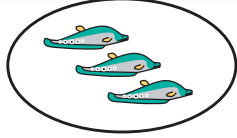
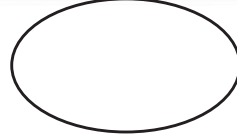

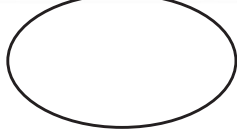
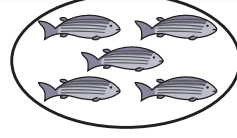
★ ผ. ๑.๑ / ผ.๑



๖ เขียน ✓ ลงในช่องที่แสดงจำนวน ศูนย์

| | |
|---|--|
|  | |
| |  |

๗ เลือกรูปที่แสดงจำนวน ศูนย์ แล้วเขียน ✗ ทับ ก ข หรือ ค

| | | |
|---|---|---|
|  |  |  |
| ก | ข | ค |
|  |  |  |
| ก | ข | ค |
|  |  |  |
| ก | ข | ค |

ชุดกิจกรรมการเรียนรู้ (สำหรับนักเรียน) กลุ่มสาระการเรียนรู้คณิตศาสตร์ ภาคเรียนที่ ๑ ชั้นประถมศึกษาปีที่ ๑ (ฉบับปรับปรุง)