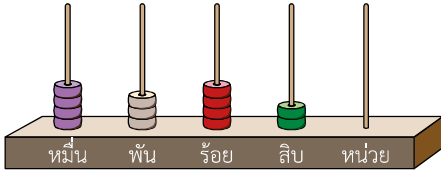


แบบฝึกหัด 1.3

๑ เขียนตัวเลขแสดงจำนวน หมื่น พัน ร้อย สิบล และหน่วย แล้วเขียนเป็นตัวเลขฮินดูอารบิกแสดงจำนวน

1)



..... หมื่น

กับ พัน

กับ ร้อย

กับ สิบล

กับ หน่วย

2)

..... หมื่น

กับ พัน

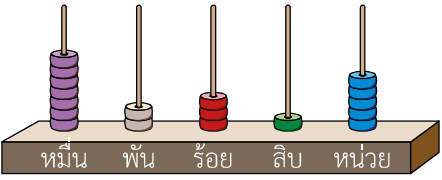
กับ ร้อย

กับ สิบล

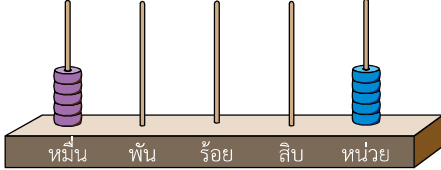
กับ หน่วย

.....

.....



3)



..... หมื่น

กับ พัน

กับ ร้อย

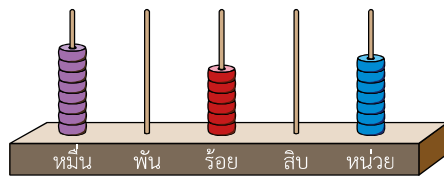
กับ สิบล

กับ หน่วย

.....

.....

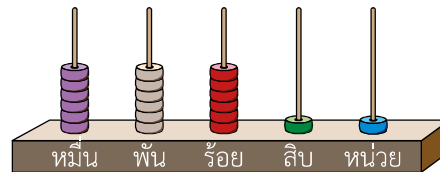
4)



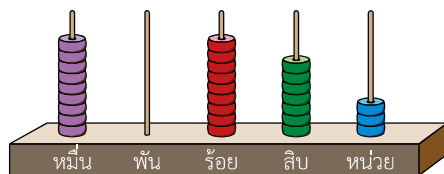
..... หมื่น
 กีบ พัน
 กีบ ร้อย
 กีบ สิบ
 กีบ หน่วย

5)

..... หมื่น
 กีบ พัน
 กีบ ร้อย
 กีบ สิบ
 กีบ หน่วย

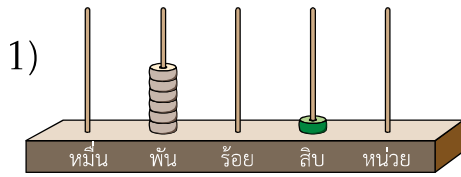


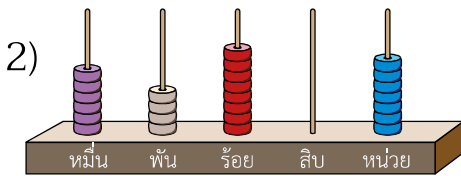
6)

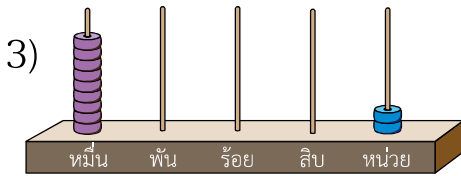


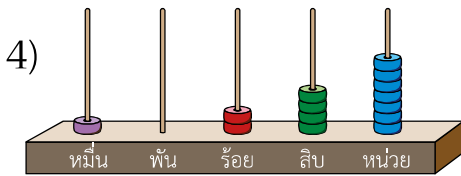
..... หมื่น
 กีบ พัน
 กีบ ร้อย
 กีบ สิบ
 กีบ หน่วย

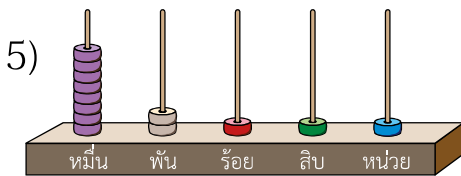
๒ เขียนเป็นตัวเลขฮินดูอารบิก

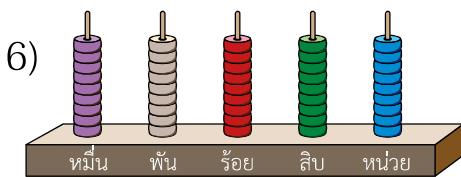






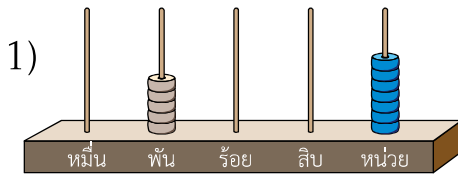




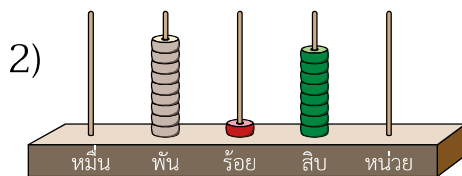


ชุดกิจกรรมการเรียนรู้ (สำหรับนักเรียน) กลุ่มสาระการเรียนรู้คณิตศาสตร์ ภาคเรียนที่ ๑ ชั้นประถมศึกษาปีที่ ๓ (ฉบับปรับปรุง)

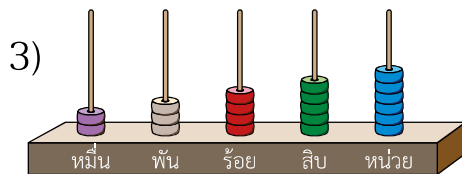
๓ เขียนเป็นตัวเลขไทย



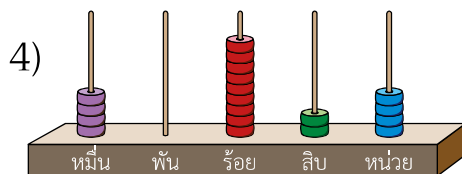
.....
.....



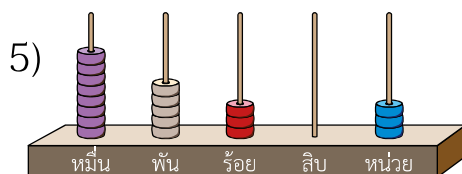
.....
.....



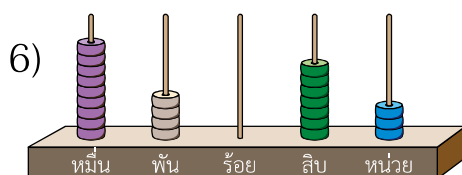
.....
.....



.....
.....



.....
.....



.....
.....