

รายวิชา คณิตศาสตร์

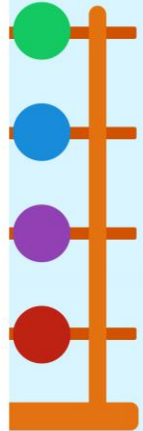
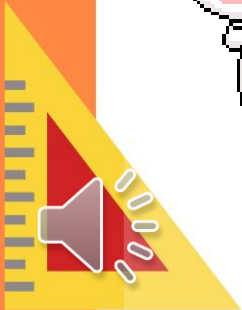

รหัสวิชา ค11101


ชั้นประถมศึกษาปีที่ 1

ผู้สอน ครูรัชนีพร พิณฑอง

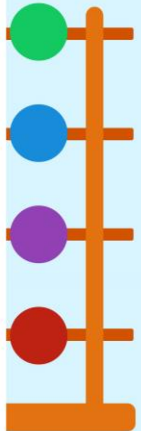
- เรื่อง การบวกและการเขียนประโยคสัญลักษณ์การบวก


คนเก่งคณิตศาสตร์





การบวกและ
การเขียนประโยค
สัญลักษณ์การบวก





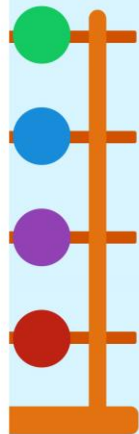
มีหมวกสีเขียวกี่ใบ





มีหมวกสีแดงกี่ใบ



รวมหมวกทั้งหมดกี่ใบ



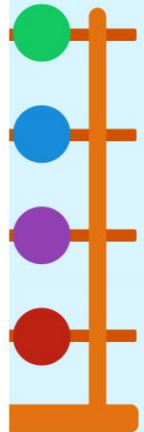


หาผลบวกได้อย่างไร

นับต่อจาก 4 เป็น 5 6 7

4 รวมกับ 3 เป็น 7

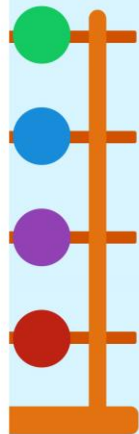

จำนวนใดคือ ผลบวก.....7




ในกล่องมีโดนัท 5 ชิ้น

แม่หยิบโดนัทใส่เพิ่มอีก 1 ชิ้น

ในกล่องมีโดนัททั้งหมดกี่ชิ้น






ในกล่องมีโดนัท 5 ชิ้น แม่หยิบโดนัทใส่เพิ่ม
อีก 1 ชิ้น ในกล่องมีโดนัททั้งหมดกี่ชิ้น



เติมในกล่องมีโดนัทกี่ชิ้น

5 ชิ้น






ในกล่องมีโดนัท 5 ชิ้น แม่หยิบโดนัทใส่เพิ่ม
อีก 1 ชิ้น ในกล่องมีโดนัททั้งหมดกี่ชิ้น



แม่หยิบเพิ่มอีกกี่ชิ้น

1 ชิ้น





ในกล่องมีโดนัท 5 ชิ้น แม่หยิบโดนัทใส่เพิ่ม
อีก 1 ชิ้น ในกล่องมีโดนัททั้งหมดกี่ชิ้น



ในกล่องมีโดนัทมากขึ้นหรือน้อยลง

มากขึ้น



ในกล่องมีโดนัท 5 ชิ้น แม่หยิบโดนัทใส่เพิ่ม
อีก 1 ชิ้น ในกล่องมีโดนัททั้งหมดกี่ชิ้น



หาจำนวนโดนัททั้งหมดโดยวิธีใด

นับ



5 นับต่อไปอีก 1 เป็น 6



ในกล่องมีโดนัท 5 ชิ้น

แม่หยิบโดนัทใส่เพิ่มอีก 1 ชิ้น

ในกล่องมีโดนัททั้งหมดกี่ชิ้น

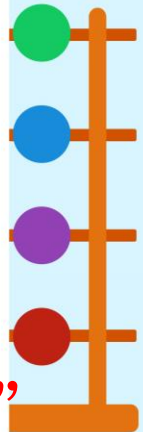

5 รวมกับ 1 เป็น 6


เขียนประโยคสัญลักษณ์การบวกได้

$$5 + 1 = 6$$

+ เป็นสัญลักษณ์การรวมกัน อ่านว่า “บวก”

= เป็นสัญลักษณ์แสดงการเท่ากัน อ่านว่า “เท่ากับ”

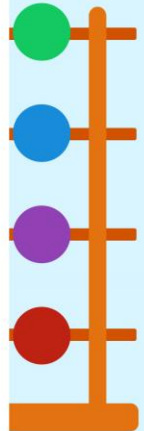





ในกล่องมีโดนัท 6 ชิ้น

แม่หยิบโดนัทใส่เพิ่มอีก 2 ชิ้น

ในกล่องมีโดนัททั้งหมดกี่ชิ้น






ในกล่องมีโดนัท 6 ชิ้น แม่หยิบโดนัทใส่เพิ่ม
อีก 2 ชิ้น ในกล่องมีโดนัททั้งหมดกี่ชิ้น



เดิมในกล่องมีโดนัทกี่ชิ้น

6 ชิ้น






ในกล่องมีโดนัท 6 ชิ้น แม่หยิบโดนัทใส่เพิ่ม
อีก 2 ชิ้น ในกล่องมีโดนัททั้งหมดกี่ชิ้น



แม่หยิบเพิ่มอีกกี่ชิ้น

2 ชิ้น






ในกล่องมีโดนัท 6 ชิ้น แม่หยิบโดนัทใส่เพิ่ม
อีก 2 ชิ้น ในกล่องมีโดนัททั้งหมดกี่ชิ้น



ในกล่องมีโดนัทมากขึ้นหรือน้อยลง

มากขึ้น





ในกล่องมีโดนัท 6 ชิ้น แม่หยิบโดนัทใส่เพิ่ม
อีก 2 ชิ้น ในกล่องมีโดนัททั้งหมดกี่ชิ้น




หาจำนวนโดนัททั้งหมดโดยวิธีใด

นับ



6 นับต่อไปเป็น 7 8





ในกล่องมีโดนัท 6 ชิ้น

แม่หยิบโดนัทใส่เพิ่มอีก 2 ชิ้น

ในกล่องมีโดนัททั้งหมดกี่ชิ้น

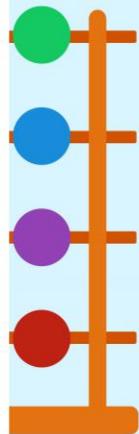
6 รวมกับ 2 เป็น 8


เขียนประโยคสัญลักษณ์การบวกได้

$$6 + 2 = 8$$

จำนวนใดคือผลบวก

8





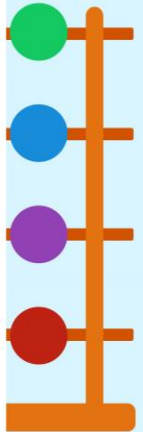
มีตุ๊กตาหมีกี่ตัว


5 ตัว



มีตุ๊กตาสุนัขกี่ตัว

2 ตัว





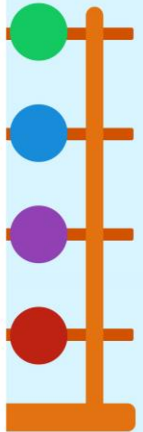
รวมมีตุ๊กตาก็ตัว


7 ตัว



เขียนเป็นประโยคสัญลักษณ์การบวกได้อย่างไร

$$5 + 2 = 7$$



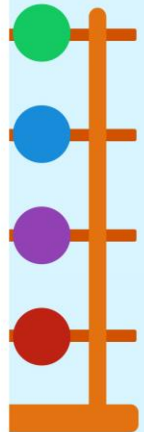



เขียนเป็นประโยคสัญลักษณ์การบวกได้อย่างไร

$$5 + 2 = 7$$

อ่านว่าอย่างไร

ห้าบวกสองเท่ากับเจ็ด





$$5 + 2 = 7$$


5 แสดงอะไร


ตุ๊กตาหมี



2 แสดงอะไร

ตุ๊กตาสุนัข





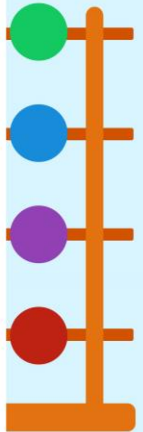
$$5 + 2 = 7$$



7 แสดงอะไร

มีหน่วยเป็นอะไร

จำนวนตุ๊กตาทั้งหมด

ตัว






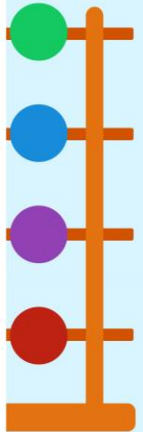
มีรถสีแดงกี่คัน

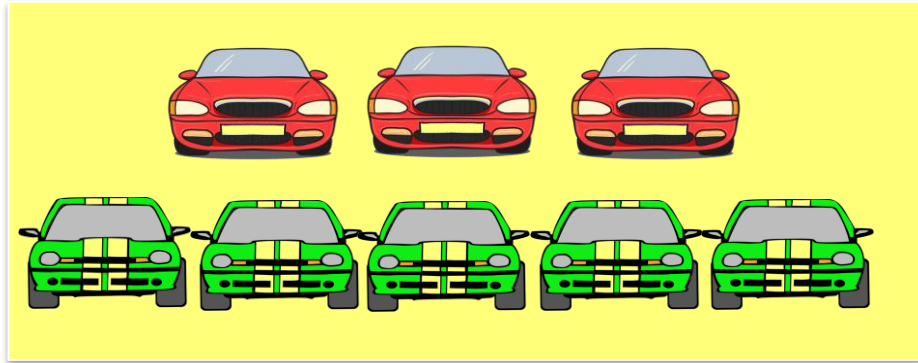

3 คัน



มีรถสีเขียวกี่คัน

5 คัน





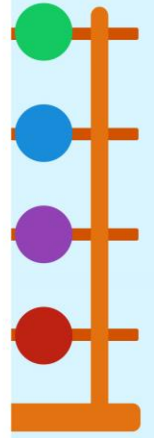
รวมมีรถกี่คัน

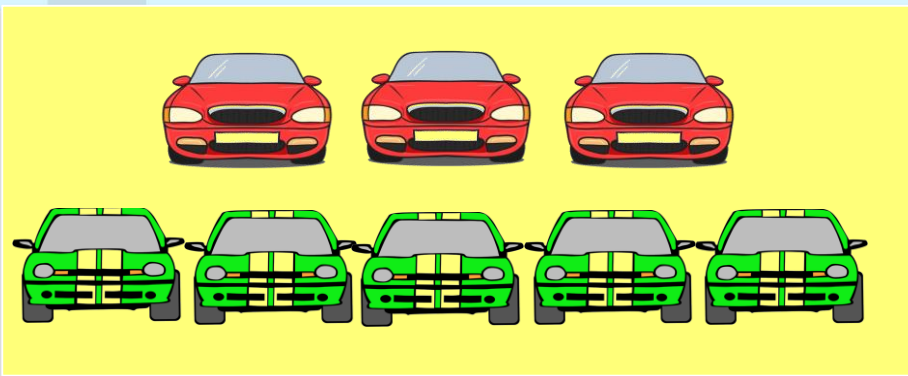

8 คัน



เขียนเป็นประโยคสัญลักษณ์การบวกได้อย่างไร

$$3 + 5 = 8$$





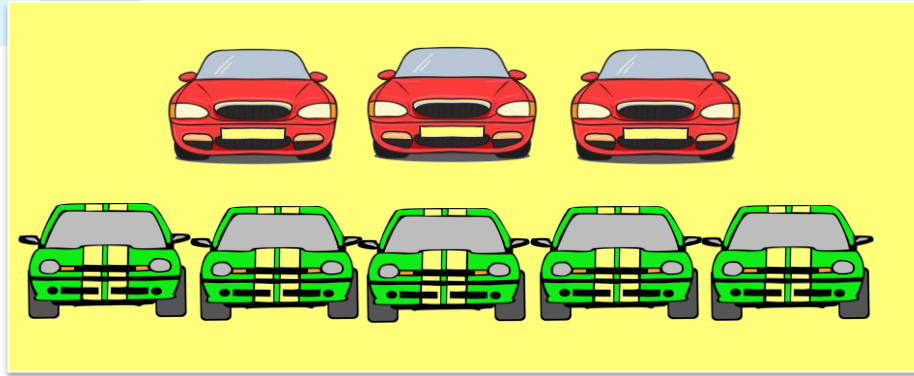

เขียนเป็นประโยคสัญลักษณ์การบวกได้อย่างไร

$$3 + 5 = 8$$

อ่านว่าอย่างไร

สามบวกห้าเท่ากับแปด





$$3 + 5 = 8$$

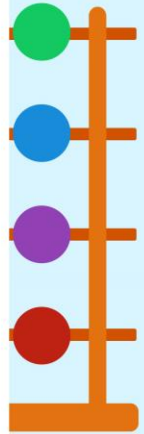
3 แสดงอะไร

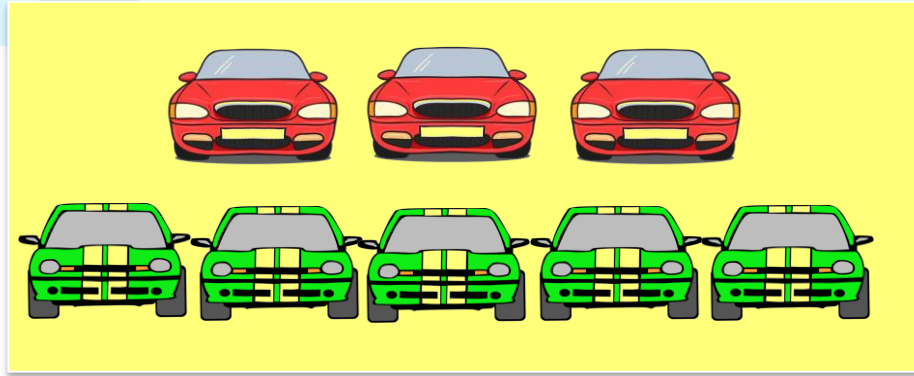

รถสีแดง



5 แสดงอะไร

รถสีเขียว





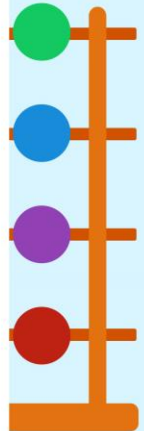
$$3 + 5 = 8$$



8 แสดงอะไร

จำนวนรถทั้งหมด

มีหน่วยเป็นอะไร

คัน





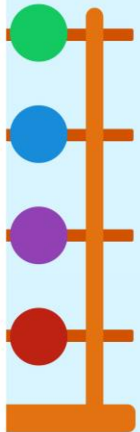
มีไก่ตัวผู้กี่ตัว



3 ตัว



มีไก่ตัวเมียกี่ตัว

3 ตัว






รวมมีไก่ก๊ตัว



6 ตัว



เขียนเป็นประโยคสัญลักษณ์การบวกได้อย่างไร

$$3 + 3 = 6$$



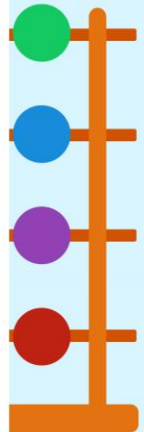




เขียนเป็นประโยคสัญลักษณ์การบวกได้อย่างไร

$$3 + 3 = 6$$

อ่านว่าอย่างไร

สามบวกสามเท่ากับหก





$$3 + 3 = 6$$

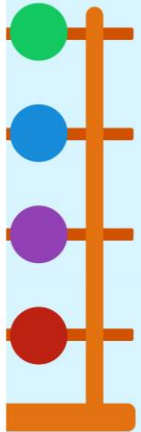
3 แสดงอะไร



ไก่ตัวผู้



3 แสดงอะไร

ไก่ตัวเมีย






$$3 + 3 = 6$$



6 แสดงอะไร

จำนวนไก่ทั้งหมด

มีหน่วยเป็นอะไร

ตัว





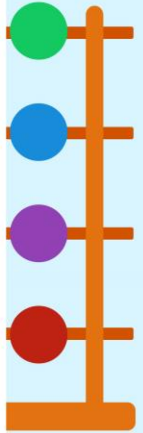
มีกางเกงขายาวกี่ตัว



3 ตัว



มีกางเกงขาสั้นกี่ตัว

2 ตัว





รวมมีกางเกงก็ตัว



5 ตัว



เขียนเป็นประโยคสัญลักษณ์การบวกได้อย่างไร

$$3 + 2 = 5$$



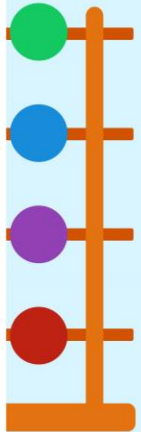




เขียนเป็นประโยคสัญลักษณ์การบวกได้อย่างไร

$$3 + 2 = 5$$

อ่านว่าอย่างไร

สามบวกสองเท่ากับห้า





$$3 + 2 = 5$$

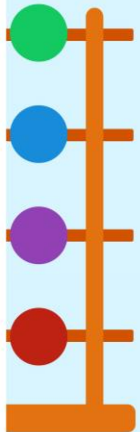
3 แสดงอะไร



กางเกงขายาว



2 แสดงอะไร

กางเกงขาสั้น





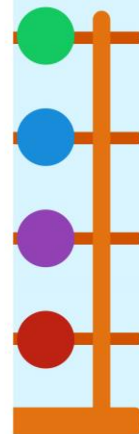
$$3 + 2 = 5$$


5 แสดงอะไร

จำนวนกางเกงทั้งหมด


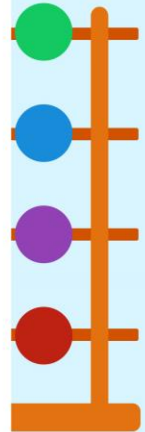
มีหน่วยเป็นอะไร



ตัว





ทำแบบฝึกหัดที่ 2.2





การรวมกันของจำนวนสอง
จำนวน สามารถเขียนเป็น
ประโยคสัญลักษณ์การบวก
ได้ เช่น $5 + 2 = 7$

