

แบบฝึกหัด 2.42

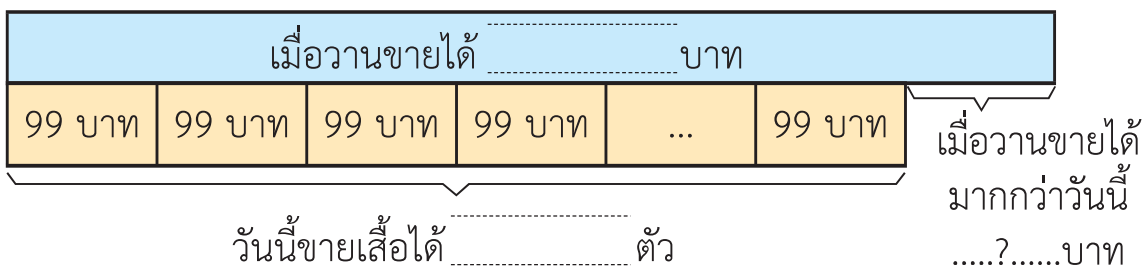
วิเคราะห์โจทย์ปัญหาแล้วเขียนแผนภาพแสดงแนวคิด ประโยคสัญลักษณ์

และแสดงวิธีหาคำตอบ

1. เมื่อวานนี้จินดาขายเสื้อได้เงิน 1,980 บาท วันนี้จินดาขายเสื้อได้ 18 ตัว ราคาตัวละ 99 บาท เมื่อวานนี้จินดาขายเสื้อได้มากกว่าวันนี้กี่บาท



แผนภาพแสดงแนวคิด



ประโยคสัญลักษณ์

วิธีทำ

วันนี้จินดาขายเสื้อได้

เสื้อราคาตัวละ

วันนี้จินดาขายเสื้อได้เงิน

เมื่อวานนี้จินดาขายเสื้อได้เงิน

เมื่อวานนี้จินดาขายเสื้อได้มากกว่าวันนี้

ตอบ เมื่อวานนี้จินดาขายเสื้อได้มากกว่าวันนี้

2. โรงเรียนแห่งหนึ่งมีนักเรียนชั้น ป.3 จำนวน 603 คน มีนักเรียนชั้น ป.2 น้อยกว่านักเรียนชั้น ป.3 จำนวน 37 คน โรงเรียนแห่งนี้ มีนักเรียนชั้น ป.2 และ ป.3 กี่คน



แผนภาพแสดงแนวคิด



ประโยคสัญลักษณ์

วิธีทำ

นักเรียนชั้น ป.3 จำนวน

นักเรียนชั้น ป.2 น้อยกว่าชั้น ป.3 จำนวน

นักเรียนชั้น ป.2 จำนวน

นักเรียนชั้น ป.2 และ ป.3 จำนวน

ตอบ โรงเรียนแห่งนี้มีนักเรียนชั้น ป.2 และ ป.3 จำนวน



3. โรงเรียนแห่งหนึ่งมีนักเรียนชั้น ป.3 ทั้งหมด 7 ห้อง โดยห้อง ป.3/1 ถึง ป.3/6 มีนักเรียนห้องละ 35 คน ห้อง ป.3/7 มีนักเรียน 38 คน
โรงเรียนแห่งนี้มีนักเรียนชั้น ป.3 ทั้งหมดกี่คน



แผนภาพแสดงแนวคิด

ป.3/1	ป.3/2	ป.3/3	ป.3/4	ป.3/5	ป.3/6	ป.3/7

ประโยคสัญลักษณ์

วิธีทำ

ห้อง ป.3/1 ถึง ป.3/6 จำนวน


ห้อง ป.3/1 ถึง ป.3/6 มีนักเรียนห้องละ

ห้อง ป.3/1 ถึง ป.3/6 มีนักเรียน

ห้อง ป.3/7 มีนักเรียน

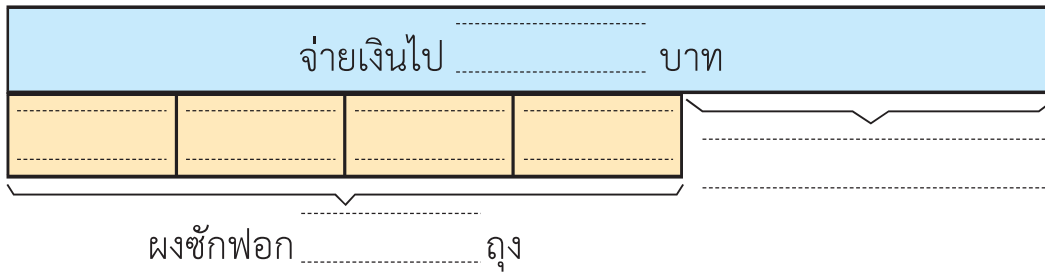
นักเรียนชั้น ป.3 ทั้งหมด

ตอบ นักเรียนชั้น ป.3 ทั้งหมด



4. ต่อมซื้อผงซักฟอก 4 ถุง ราคาถุงละ 134 บาท จ่ายเงินด้วยธนบัตรชนิดราคา 1,000 บาท ต่อมจะได้รับเงินทอนกี่บาท

แผนภาพแสดงแนวคิด



ประโยคสัญลักษณ์

วิธีทำ

ต่อมซื้อผงซักฟอก

ผงซักฟอกราคาถุงละ

ต่อมซื้อผงซักฟอกเป็นเงิน

ต่อมจ่ายเงิน

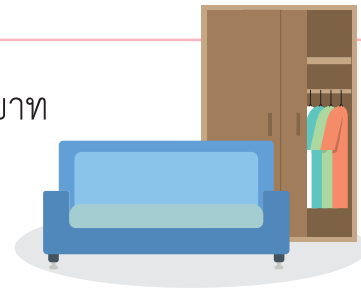
ต่อมจะได้รับเงินทอน

ตอบ ต่อมจะได้รับเงินทอน



5. ลุงโชคนำเงิน 15,000 บาท ไปซื้อโซฟาราคา 8,450 บาท และตู้เสื้อผ้าราคา 4,750 บาท ลุงโชคเหลือเงินกี่บาท

แผนภาพแสดงแนวคิด



โซฟาราคา บาท	ตู้เสื้อผ้าราคา บาท	เหลือเงิน บาท
--------------------	---------------------------	---------------------

ประโยคสัญลักษณ์

วิธีทำ

ตอบ ลุงโชคเหลือเงิน



6. โดมออมเงินเดือนตุลาคมวันละ 25 บาท เมื่อถึงสิ้นเดือน คุณพ่อให้อีก 550 บาท สิ้นเดือนตุลาคม โดมมีเงินทั้งหมดกี่บาท
- แผนภาพแสดงแนวคิด



..... บาท บาท บาท บาท	พ่อให้อีก บาท
--------------	--------------	-----	--------------	--------------	-----------------	--------------

.....
วัน

ประโยคสัญลักษณ์

วิธีทำ

.....

.....

.....

.....

.....

.....

.....

.....

.....

.....

ตอบ สิ้นเดือนตุลาคม โดมมีเงินทั้งหมด

