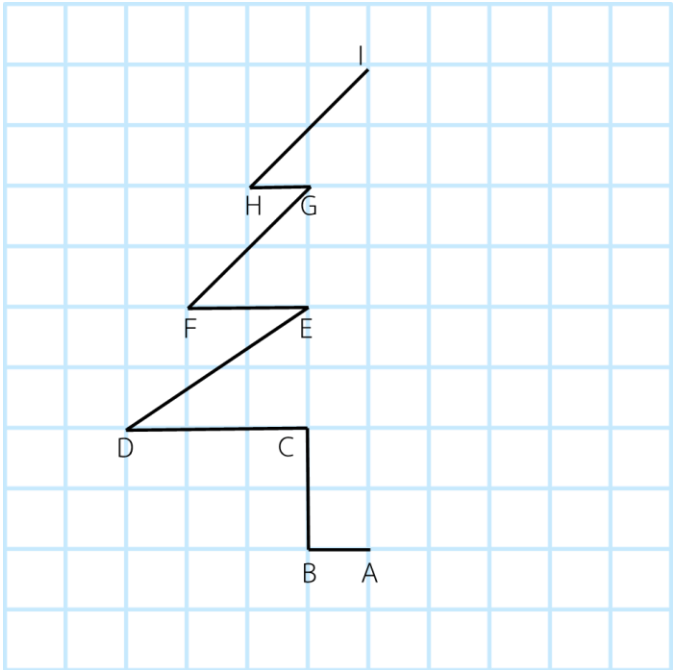


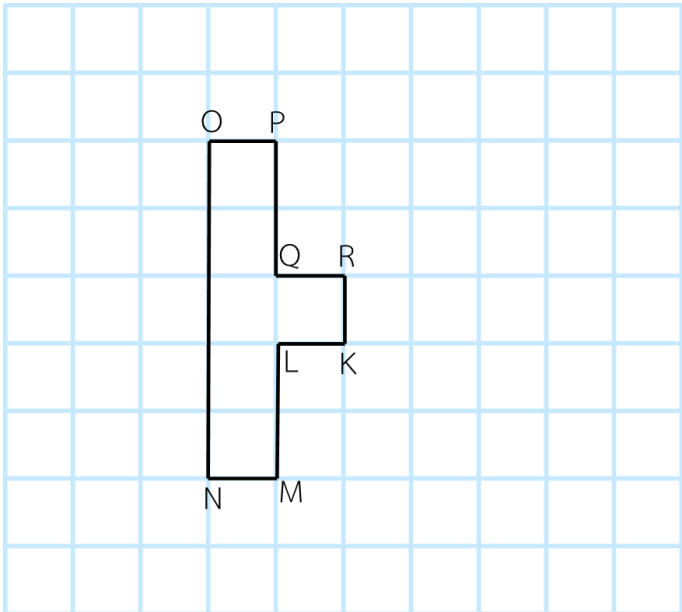
แบบฝึกหัด 6 เรื่อง การสะท้อน  
หน่วยการเรียนรู้ที่ 4 เรื่อง การแปลงทางเรขาคณิต  
แผนการจัดการเรียนรู้ที่ 6 เรื่อง การสะท้อน  
รายวิชา คณิตศาสตร์ รหัสวิชา ค22101 ภาคเรียนที่ 1 ชั้นมัธยมศึกษาปีที่ 2

ตอนที่ 1 ให้นักเรียนเขียนภาพหรือข้อความที่ได้จากการสะท้อนในแต่ละข้อต่อไปนี้

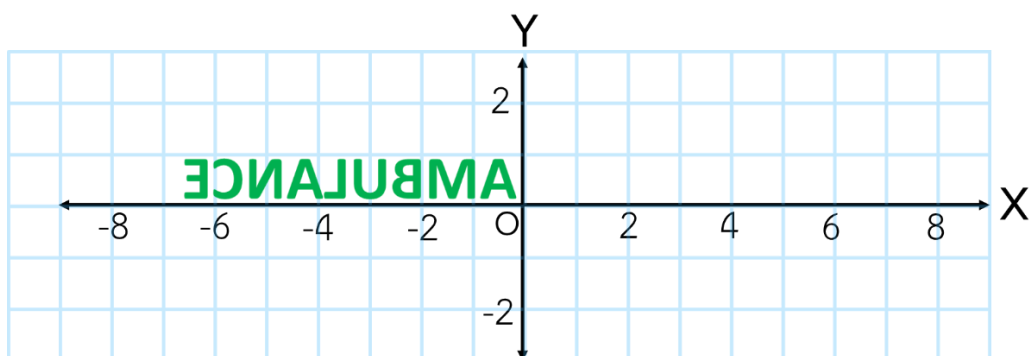
1. กำหนดให้  $\vec{AI}$  เป็นเส้นสะท้อน



2. กำหนดให้  $\vec{KR}$  เป็นเส้นสะท้อน




3. กำหนดให้ Y เป็นเส้นสะท้อน



ตอนที่ 2 ให้นักเรียนหาเส้นสะท้อนในแต่ละข้อต่อไปนี้

1)



2)

