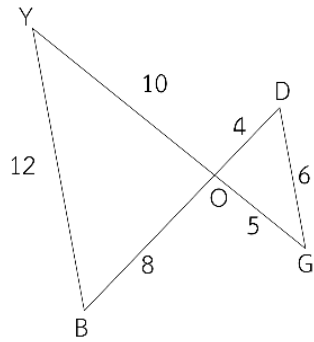


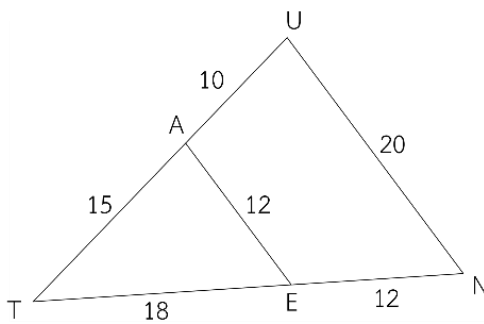
แบบฝึกหัด 6 : รูปสามเหลี่ยมที่คล้ายกัน (4)
หน่วยการเรียนรู้ที่ 4 เรื่อง ความคล้าย
รายวิชา คณิตศาสตร์ รหัสวิชา ค23101 ภาคเรียนที่ 1 ชั้นมัธยมศึกษาปีที่ 3

1. รูปสามเหลี่ยมสองรูปในแต่ละข้อต่อไปนี้ เป็นรูปสามเหลี่ยมที่คล้ายกันหรือไม่ เพราะเหตุใด

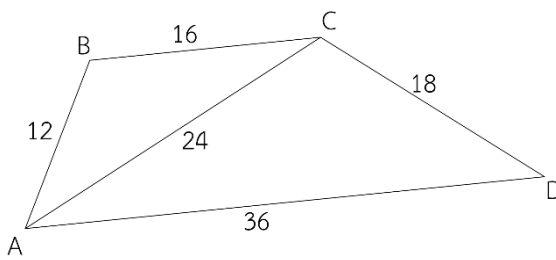
1)



2)



3)



4)

