

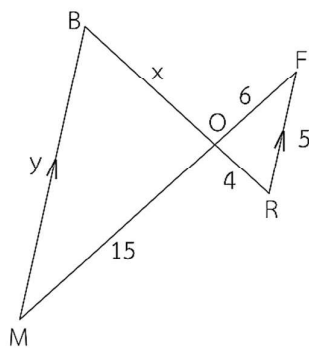
แบบฝึกหัด 4 : รูปสามเหลี่ยมที่คล้ายกัน (2)

หน่วยการเรียนรู้ที่ 4 เรื่อง ความคล้าย

รายวิชา คณิตศาสตร์ รหัสวิชา ค23101 ภาคเรียนที่ 1 ชั้นมัธยมศึกษาปีที่ 3

1. จากรูป จงหาค่า  $x$  และ  $y$

1)



---

---

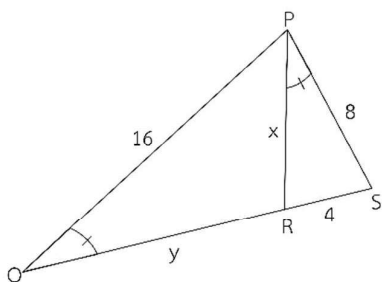
---

---

---

---

2)



---

---

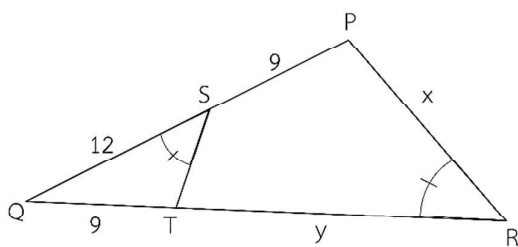
---

---

---

---

3)



---

---

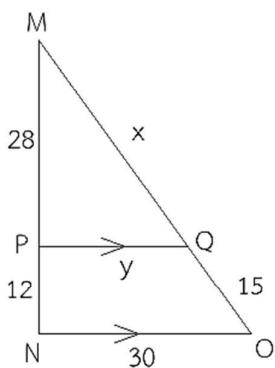
---

---

---

---

4)



---

---

---

---

---

---



