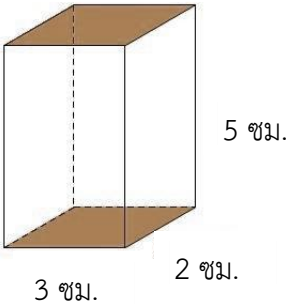
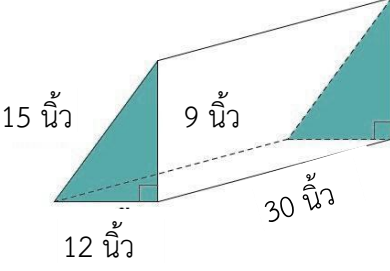
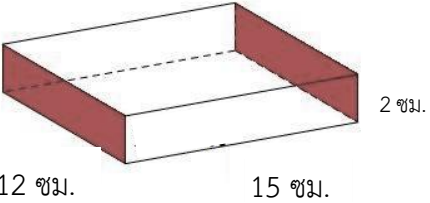
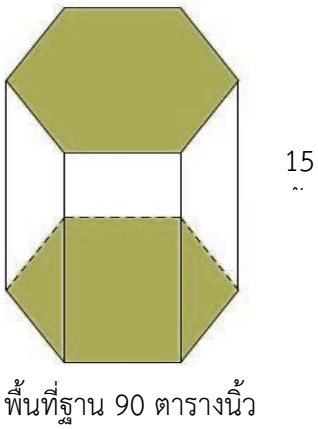
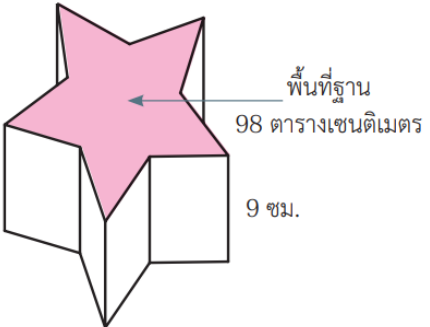


ใบกิจกรรม 4 : ปริมาตรของปริซึม
หน่วยการเรียนรู้ที่ 3 เรื่อง ปริซึมและทรงกระบอก
แผนการจัดการเรียนรู้ที่ 4 เรื่อง ปริมาตรของปริซึม (1)
รายวิชา คณิตศาสตร์ รหัสวิชา ค22101 ภาคเรียนที่ 1 ชั้นมัธยมศึกษาปีที่ 2

คำชี้แจง ให้นักเรียนหาพื้นที่ฐาน ความสูงและปริมาตรของปริซึม ซึ่งกำหนดรูปไว้ในแต่ละข้อต่อไปนี้ แล้วเติมคำตอบลงในช่องว่างให้สมบูรณ์

ปริซึม	ส่วนประกอบของปริซึม		ปริมาตรของปริซึม
	พื้นที่ฐาน	ความสูง	
1) 			
2) 			
3) 			

ปริซึม	ส่วนประกอบของปริซึม		ปริมาตรของปริซึม
	พื้นที่ฐาน	ความสูง	
<p>4)</p>  <p>พื้นที่ฐาน 90 ตารางนิ้ว</p>			
<p>5)</p>  <p>พื้นที่ฐาน 98 ตารางเซนติเมตร</p> <p>9 ซม.</p>			