

ใบกิจกรรม 2 : MATH กริ่ง
หน่วยการเรียนรู้ที่ 1 เรื่อง จำนวนเต็ม
แผนการจัดการเรียนรู้ที่ 13 เรื่อง การนำความรู้เกี่ยวกับจำนวนเต็มไปใช้ในชีวิตจริง
รายวิชา คณิตศาสตร์ รหัสวิชา ค21101 ภาคเรียนที่ 1 ชั้นมัธยมศึกษาปีที่ 1

1.

กอไผ่ เมื่อวานเราพาคุณยายอุไรไปตลาด แม่ค้าคิดราคาขายส้มไว้
กิโลกรัมละ 40 บาท คุณยายเลือกซื้อส้มจำนวนหนึ่งซึ่งน้ำหนักได้
3 กิโลกรัม กับ 8 ซีด แม่ค้าคิดเงินค่าส้มรวดเร็วมากเลย
นี่ขนาดไม่มีเครื่องคิดเลขนะ




แล้วแม่ค้าคิดยังไงกันนะ ถึงได้รวดเร็ว
กอบัวได้ถามวิธีคิดจากแม่ค้ามาไหม
อยากทราบจ้ะเลยว่ามีวิธีคิดราคาส้ม
อย่างไร และคิดค่าส้มเป็นเงินเท่าไร



วิธีคิดราคาส้มของแม่ค้า

Handwriting practice area with 12 horizontal dotted lines.



2.

แฉกมีริบบิ้นยาว 44 เซนติเมตร ตัดออกเป็น 4 ชั้น ชั้นละ 10 เซนติเมตร โดยแฉกวัดริบบิ้นยาว 10 เซนติเมตร แล้วตัดทีละชั้น ซึ่งแฉกจะต้องตัดทั้งหมด 4 ครั้ง ให้นักเรียนช่วยแฉกหาวิธีการตัดริบบิ้นที่ใช้จำนวนครั้งในการตัดน้อยกว่า 4 ครั้ง

.....

.....

.....

.....

.....

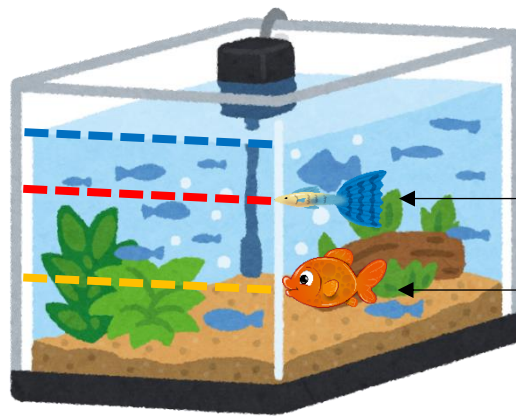
.....

.....

.....

3.

ตู้ปลาแสนสวย



ปลาหางนกยูง

ปลาทอง

ปัญหาชวนคิด

จากรูป จะได้

ปลาหางนกยูงอยู่ที่ระดับ.....เซนติเมตร จากระดับผิวน้ำในตู้ปลา

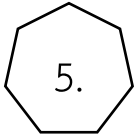
ปลาทองอยู่ที่ระดับ.....เซนติเมตร จากระดับของปลาหางนกยูง

ปลาทองอยู่ที่ระดับ.....เซนติเมตร จากระดับผิวน้ำในตู้ปลา

จากมาตราส่วน 1 เซนติเมตร : 10 เซนติเมตร จะได้

ปลาหางนกยูงอยู่ที่ระดับ.....เซนติเมตร จากระดับผิวน้ำในตู้ปลา

ปลาทองอยู่ที่ระดับ.....เซนติเมตร จากระดับผิวน้ำในตู้ปลา



5.

ให้นักเรียนแสดงวิธีหาผลคูณ 999×32 โดยใช้สมบัติของการบวกและการคูณ
จำนวนเต็ม

.....

.....

.....

.....

.....

.....

.....

.....