





แบบฝึกหัด 6.5

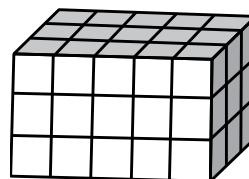


1. หาปริมาตร เมื่อกำหนดให้  มีปริมาตร 1 ลูกบาศก์หน่วย

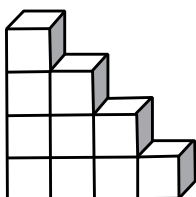
1)



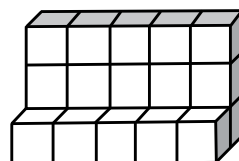
2)



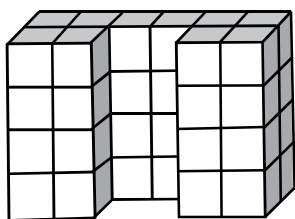
3)



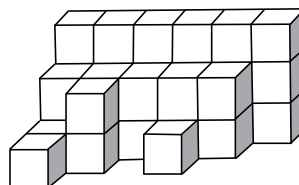
4)



5)



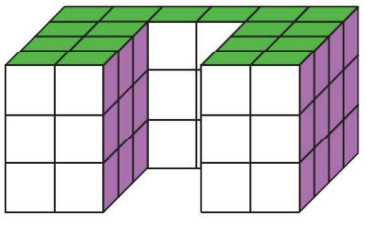
6)





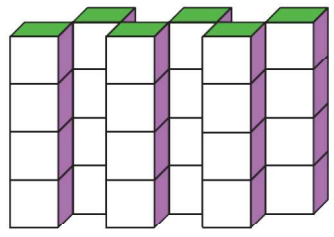
2. หาปริมาตร เมื่อกำหนดให้  มีปริมาตร 1 ลูกบาศก์เซนติเมตร

1)



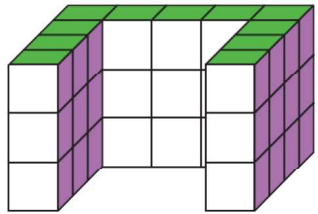
.....

2)



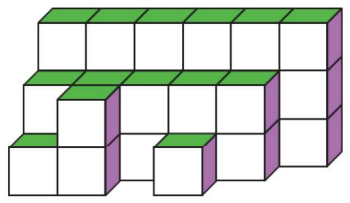
.....

3)



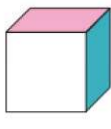
.....

4)

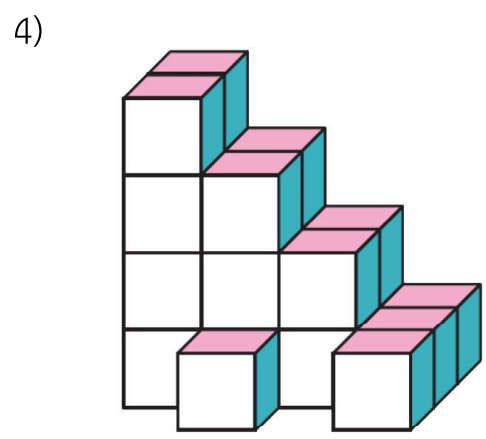
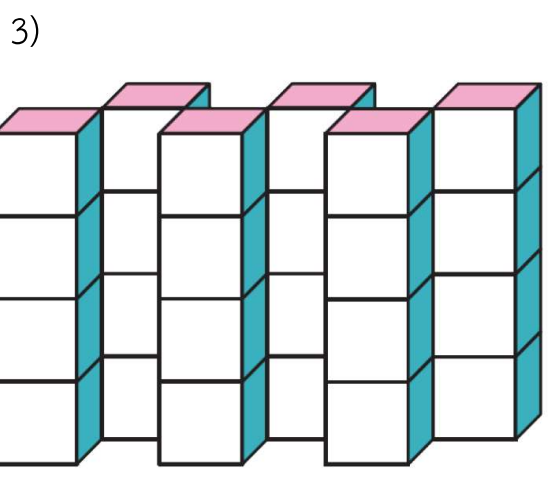
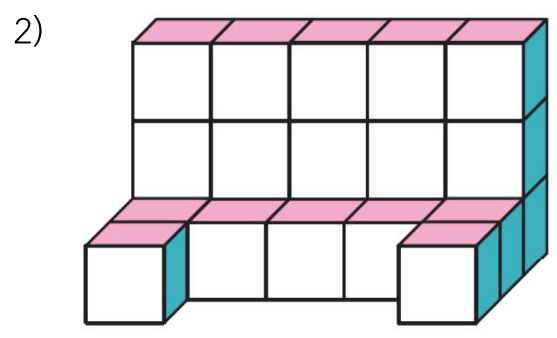
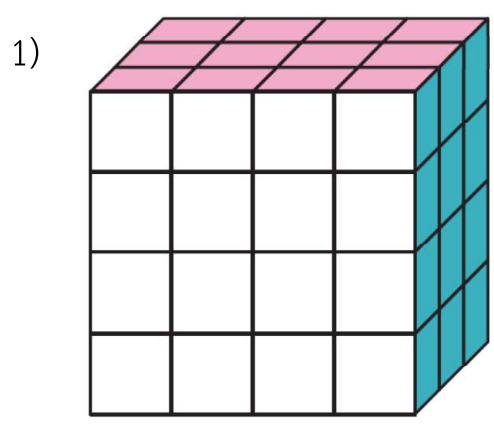


.....



3. หาปริมาตร เมื่อกำหนดให้ 

มีปริมาตร 1 ลูกบาศก์เมตร





4. วาดรูปแสดงทรงสี่เหลี่ยมมุมฉากที่มีปริมาตร 18 ลูกบาศก์หน่วย ให้ได้รูปร่างที่แตกต่างกันมากที่สุด