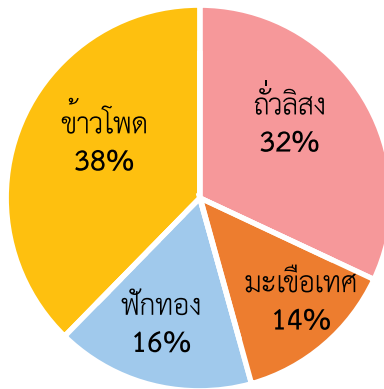




## แบบฝึกหัด 8.6

คำชี้แจง พิจารณาแผนภูมิรูปร่างกลม และหาคำตอบในแต่ละข้อต่อไปนี้

1. จำนวนเปอร์เซ็นต์ของน้ำหนักเมล็ดพืชที่ลุงอำนาจปลูกในสวน



- 1) ถ้าลุงอำนาจต้องการปลูก มะเขือเทศ ฟักทอง ข้าวโพด และถั่วลิสง โดยซื้อเมล็ดมะเขือเทศ มาปลูก 210 กรัม ดังแผนภูมิรูปร่างกลม ลุงอำนาจจะปลูกพืชชนิด อื่น ๆ โดยใช้เมล็ดอย่างละกี่กรัม

---

---

---

---

---

---

---

---

---

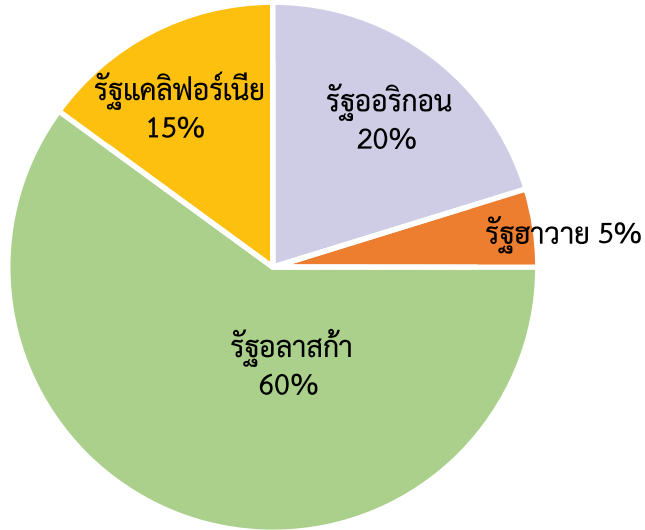
---

- 2) ลุงอำนาจปลูกฟักทองน้อยกว่าถั่วลิสงกี่กรัม

---

---

2. จำนวนภูเขาไฟที่ดับสนิทในประเทศสหรัฐอเมริกา



1) ถ้ารัฐอลาสก้ามีภูเขาไฟที่ดับสนิท 120 ลูก แต่ละรัฐจะมีภูเขาไฟที่ดับสนิทเท่าไร

.....

.....

.....

.....

.....

2) รัฐอลาสก้ามีภูเขาไฟที่ดับสนิทมากกว่ารัฐฮาวายกี่ลูก

.....

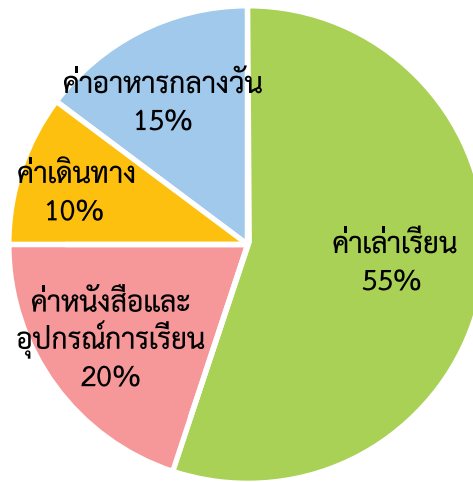
.....

3) รัฐออริกอนและรัฐแคลิฟอร์เนีย มีภูเขาไฟที่ดับสนิทจำนวนเท่าไร

.....

.....

## 3. ค่าใช้จ่ายของนายนนท์ ในเดือนมิถุนายน พ.ศ. 2565



ในเดือนมิถุนายน พ.ศ. 2565 นายนนท์จ่ายค่าเดินทาง 6,000 บาท จ่ายค่าเล่าเรียน ค่าหนังสือ และอุปกรณ์การเรียน ค่าอาหารกลางวัน อย่างละกึ่งบาท และนายนนท์มีค่าใช้จ่ายในเดือนนี้ทั้งหมดเท่าใด

---

---

---

---

---

---

---

---

---

---

---

---

---

---

---

---

---

---