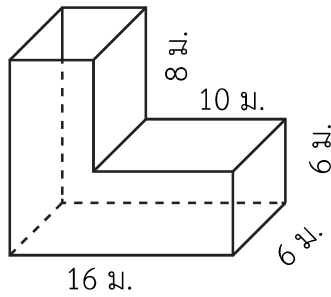




คำชี้แจง แสดงวิธีหาคำตอบ

1. หาคความจุของภาชนะฝาเปิดรูปเรขาคณิตสามมิติที่ประกอบด้วยทรงสี่เหลี่ยมมุมฉาก โดยความยาวของด้านที่กำหนดให้เป็นความยาวภายในของด้าน



.....

.....

.....

.....

.....

.....

.....

.....

.....

.....

.....

.....

.....

.....

.....

.....

.....

.....

.....

.....

.....



หน่วยที่ ๗ รูปเรขาคณิตสามมิติและปริมาตรของทรงสี่เหลี่ยมมุมฉาก

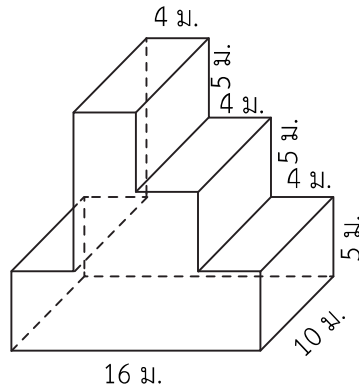
★★★★★  
★★★★★  
ฝ.๗.๙/ ผ.๙

Handwriting practice area with 20 horizontal dashed lines.



หน่วยที่ ๗ รูปเรขาคณิตสามมิติและปริมาตรของทรงสี่เหลี่ยมมุมฉาก

2. หาปริมาตรของรูปเรขาคณิตสามมิติที่ประกอบด้วยทรงสี่เหลี่ยมมุมฉาก



.....

.....

.....

.....

.....

.....

.....

.....

.....

.....

.....

.....

.....

.....

.....

.....

.....

.....

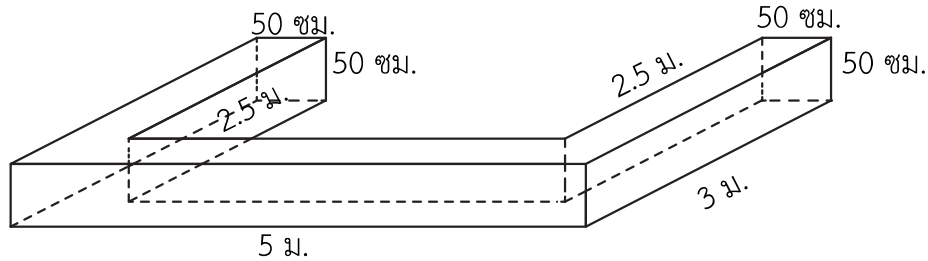
.....

.....

.....

.....

3. หาคำมจุของภาชนะฝาเปิดรูปเรขาคณิตสามมิติที่ประกอบด้วยทรงสี่เหลี่ยมมุมฉากต่อไปนี้ โดยความยาวของด้านที่กำหนดให้เป็นความยาวภายในของด้าน



.....

.....

.....

.....

.....

.....

.....

.....

.....

.....

.....

.....

.....

.....

.....

.....

.....

.....

.....

.....

.....

.....

.....