

รายวิชา สังคมศึกษา

รหัสวิชา สด๖๑๐๑

ชั้นประถมศึกษาปีที่ ๖

ภูมิประเทศภาคใต้

ครูผู้สอน ครูวรรษุญา แองสาย



ภูมิประเทศภาคใต้



จุดประสงค์

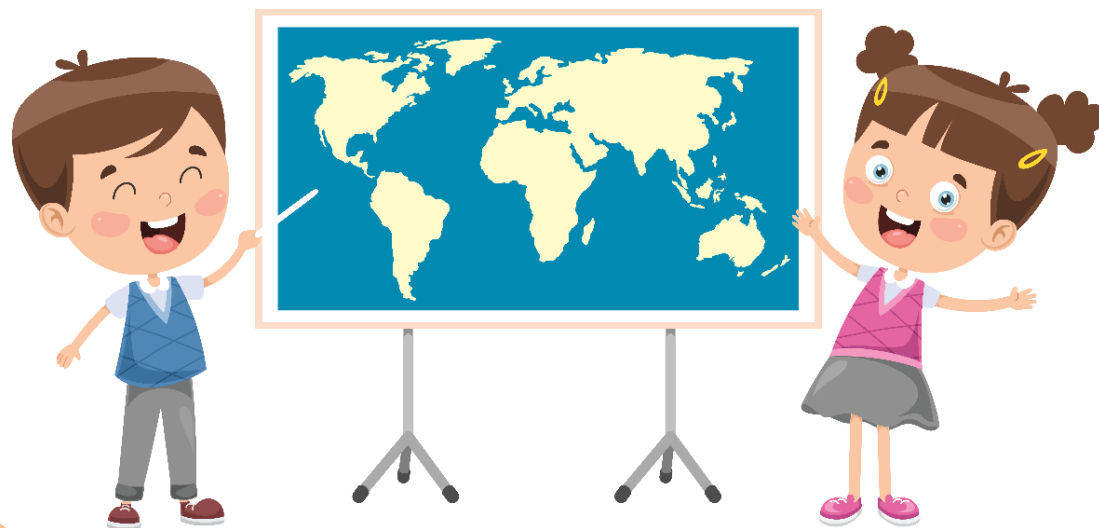
๑. อธิบายลักษณะภูมิประเทศในภาคใต้ได้
๒. ใช้เครื่องมือทางภูมิศาสตร์ระบุลักษณะภูมิประเทศของภาคใต้ได้
๓. แสดงความคิดเห็นถึงประโยชน์ของการศึกษาภูมิศาสตร์ภาคใต้





กิจกรรม

“ทนายลี จังหวัดหน่อเย่”





กิจกรรม

“ทายลิ จังหวัดไชนเอ่ย”

“นกน้ำเพลินตา สมิหลาเพลินใจ เมืองใหญ่สองทะเล
เสน่ห์สะพานป่า ศูนย์การค้าแดนใต้”

เฉลย จังหวัดสงขลา



กิจกรรม

“ ทายลิ จังหวัดไหนดอ่ย ”

“ประตุสู่ภาคใต้ ไหว้เสด็จในกรม ชมไร่กาแฟ
แลหาดทรายรี ดึกกล้วย เล็บมือ ขึ้นชื่อรังนก”

เฉลย จังหวัดชุมพร



กิจกรรม

“ทายลิ จังหวัดไหนดอ่ย”

“เมืองร่อยเกาะ เงาะอร่อย หอยใหญ่
ไข่แดง แหล่งธรรมะ”

เฉลย จังหวัดสุราษฎร์ธานี

จังหวัด ในภาคใต้





จังหวัดในภาคใต้



๑๔ จังหวัด

ภาพแผนที่ จาก <http://skp.ac.th/ONet/๓๐๔/northeast/www/index.html>

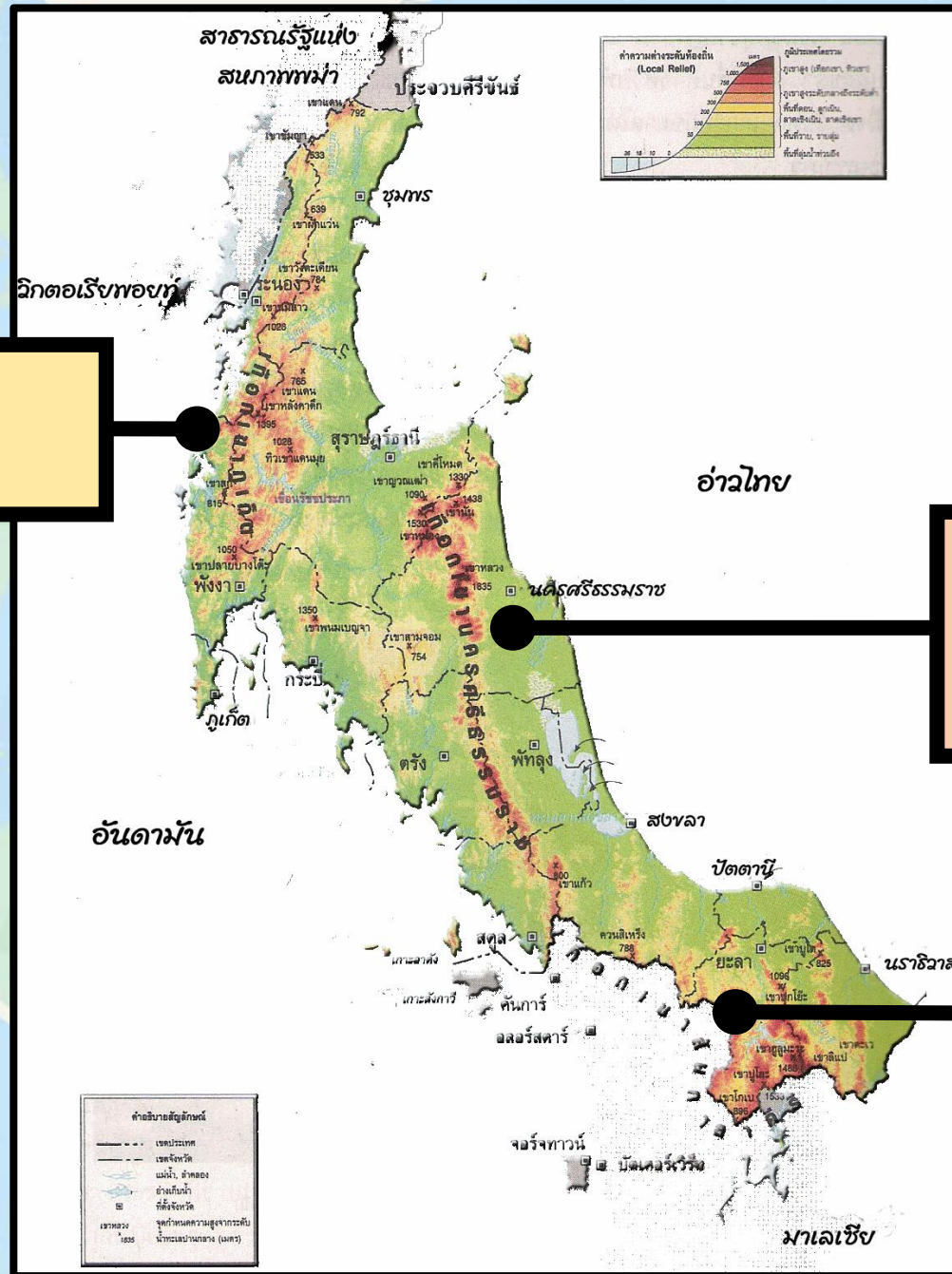
ทิวเขา ในภาคใต้




ทิวเขาภูเก็ต

ทิวเขานครศรีธรรมราช

ทิวเขาสันกาลาคีรี






เขาหลวง

แม่น้ำ ในภาคใต้







แม่น้ำตาปี

ที่ราบ ในภาคใต้



A wide-angle landscape photograph capturing a town at the foot of a mountain range during sunset. The sky is filled with soft, golden light breaking through scattered clouds. The mountains in the background are silhouetted against the bright sky. In the foreground, a town with various buildings and houses is visible, partially obscured by a yellow text box.

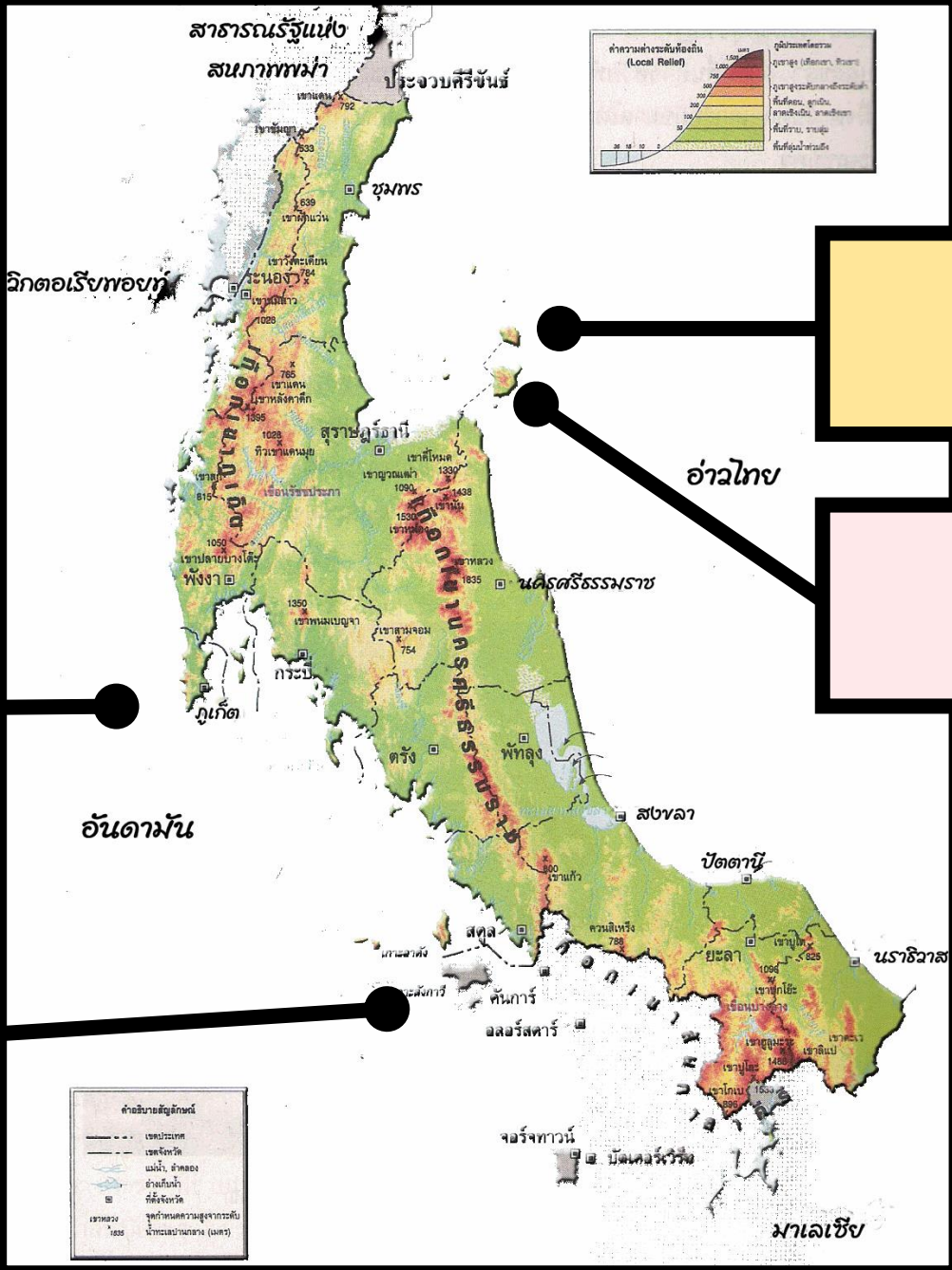
ที่ราบด้านชายฝั่งตะวันออก



ลุ่มทะเลสาบสงขลา

เกาะ ในภาคใต้





เกาะพังงัน

เกาะสมุย

เกาะภูเก็ต


เกาะตะรุเตา



เกาะภูเก็ต



เกาะสมุย



เกาะนางยวน

ภาพจาก <https://artralux.co.th/travel-guide/thailand-southern-sea>

“แฟนพันธุ์แท้ภาคใต้”

ครูนำเสนอภาพลักษณะภูมิประเทศ และวิถีชีวิตอื่น ๆ ของผู้คนในภาคใต้ จำนวน ๕ ภาพ และให้นักเรียนยกมือตอบคำถามว่าภาพดังกล่าวอยู่ในบริเวณจังหวัดใดของภาคใต้





หมู่บ้านคีรีวง

- พังงา
- ภูเก็ต
- นครศรีธรรมราช
- สงขลา



ทะเลน้อย


- สุราษฎร์ธานี
- พัทลุง
- นครศรีธรรมราช
- สงขลา




เขื่อนรัชชประภา




สุราษฎร์ธานี



นครศรีธรรมราช



ปัตตานี



สงขลา



วัดเจดีย์

- สุราษฎร์ธานี
- นครศรีธรรมราช
- ปัตตานี
- สงขลา



หาดสมิหลา

- สุราษฎร์ธานี
- พัทลุง
- ชุมพร
- สงขลา


คำถามชวนคิด?

ลักษณะทางกายภาพของภาคใต้
มีอิทธิพลต่อวิถีชีวิตของ
ผู้คนที่อาศัยอยู่อย่างไรบ้าง





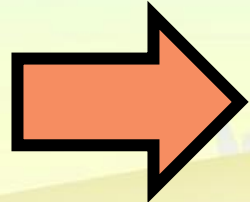
จาก <https://www.changonenumtang.com>



จาก <https://fonsuneerut0710.wordpress.com>

ที่ราบชายฝั่งทะเล

ประเพณีลอยเรือชาวเล



ที่ราบชายฝั่งทะเล

ยางพารา ปาล์มน้ำมัน

๕ ชั้นปฏิบัติ





คำชี้แจง
ในการทำกิจกรรมนักเรียน

นักเรียนทำใบงานที่ ๑๒
เรื่อง ภูมิประเทศภาคใต้



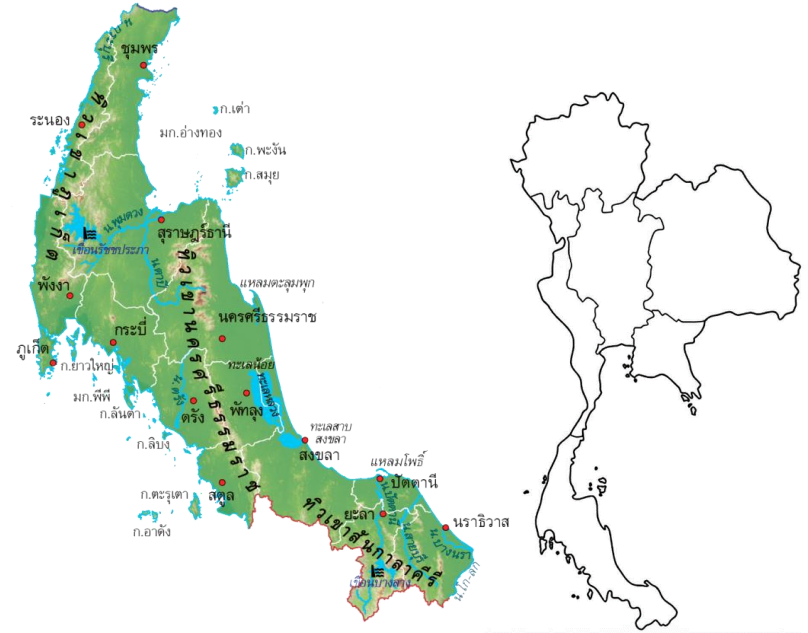
คำชี้แจง
บทบาทครูปลายทาง

๑. ครูให้นักเรียนทำใบงานที่ ๑๒
เรื่อง ภูมิประเทศภาคใต้
๒. ครูให้ความช่วยเหลือนักเรียน
ตามความเหมาะสม



ใบงานที่ ๑๒ เรื่อง ภูมิประเทศภาคใต้

คำชี้แจง ให้นักเรียนระบายสีแผนที่ภาคใต้ และตอบคำถามที่กำหนดให้



๑. ภาคใต้มีกี่จังหวัด ได้แก่จังหวัดอะไรบ้าง (ยกตัวอย่าง ๕ จังหวัด)

.....
.....

๒. ทิวเขาที่สำคัญในภาคใต้ คือทิวเขาใดบ้าง

.....
.....



ใบงานที่ ๑๒ เรื่อง ภูมิประเทศภาคใต้

คำชี้แจง ให้นักเรียนระบายสีแผนที่ภาคใต้ และตอบคำถามที่กำหนดให้

๓. แม่น้ำที่สำคัญในภาคใต้ คือแม่น้ำใดบ้าง

.....

๔. เกาะที่สำคัญในภาคใต้ มีเกาะอะไรบ้าง

.....

.....


๕. ลักษณะภูมิประเทศที่สำคัญเป็นแบบคาบสมุทร

.....

.....



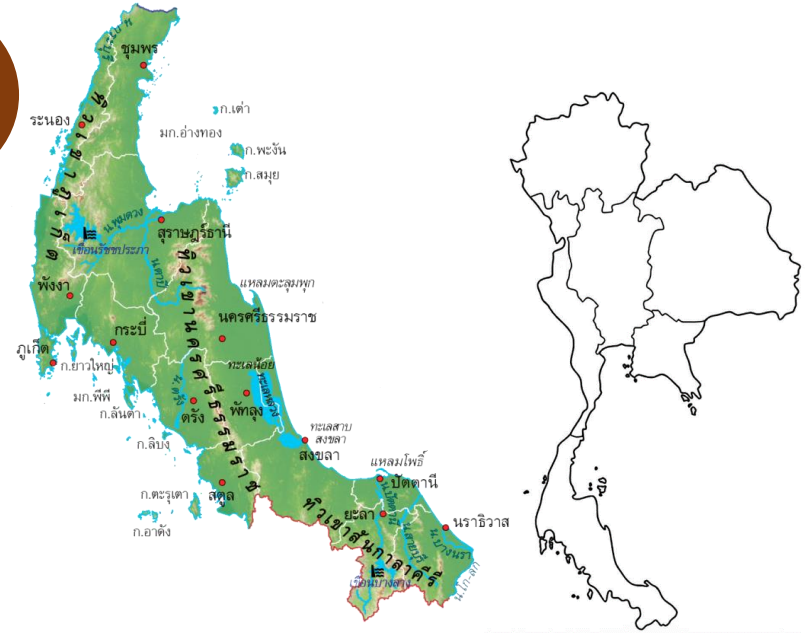
สรุปบทเรียน





เฉลยใบงานที่ ๑๒ เรื่อง ภูมิภาคภาคใต้

คำชี้แจง ให้นักเรียนระบายสีแผนที่ภาคใต้ และตอบคำถามที่กำหนดให้



๑. ภาคใต้มีกี่จังหวัด ได้แก่จังหวัดอะไรบ้าง (ยกตัวอย่าง ๕ จังหวัด)

มี ๑๔ จังหวัด เช่น นครศรีธรรมราช สงขลา กระบี่ ภูเก็ต สุราษฎร์ธานี

๒. ทิวเขาที่สำคัญในภาคใต้ คือทิวเขาใดบ้าง

ทิวเขานครศรีธรรมราช ทิวเขาภูเก็ต ทิวเขาสันกาลาศีรี



เฉลยใบงานที่ ๑๒ เรื่อง ภูมิประเทศภาคใต้

คำชี้แจง ให้นักเรียนระบายสีแผนที่ภาคใต้
และตอบคำถามที่กำหนดให้

๓. แม่น้ำที่สำคัญในภาคใต้ คือแม่น้ำใดบ้าง

เช่น แม่น้ำตาปี แม่น้ำโกลก

๔. เกาะที่สำคัญในภาคใต้ มีเกาะอะไรบ้าง

เกาะสมุย เกาะตะรุเตา เกาะพังงัน เกาะเต่า

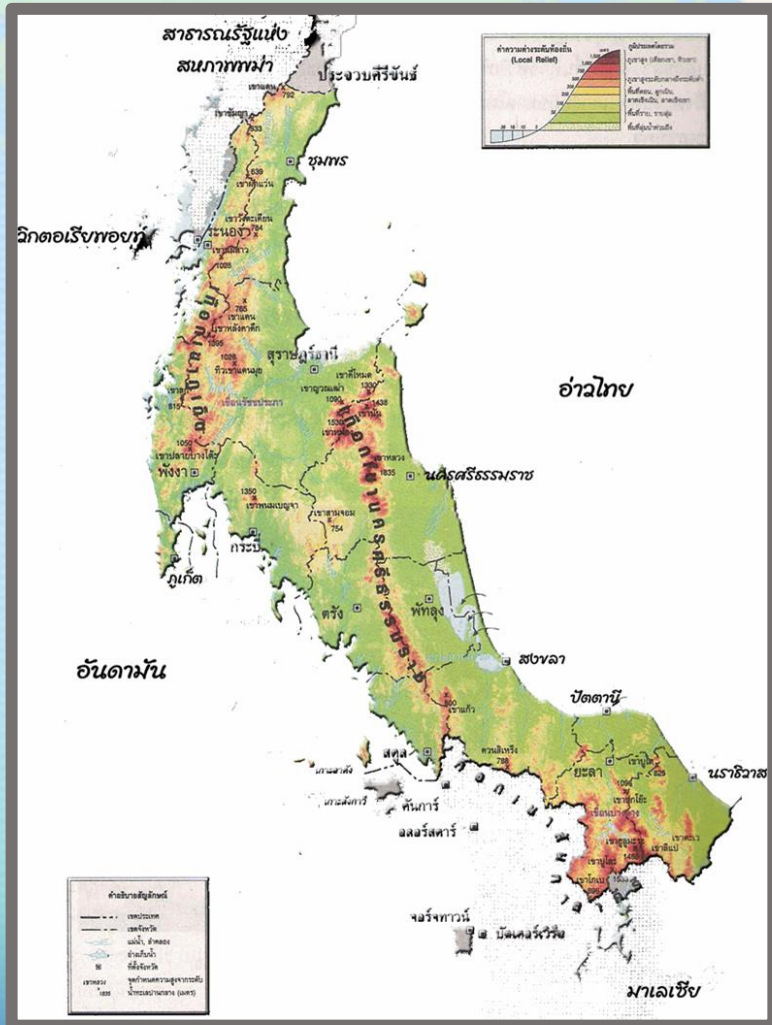
๕. ลักษณะภูมิประเทศที่สำคัญเป็นแบบคาบสมุทร

มีทิวเขาสูงอยู่ตรงกลาง และมีที่ราบชายฝั่งทะเลขนานอยู่ทั้ง ๒ ด้าน





สรุป



๑. ภาคใต้มีกี่จังหวัด อะไรบ้าง

ภาคใต้มี ๑๔ จังหวัด ได้แก่ จังหวัดกระบี่ จังหวัดชุมพร จังหวัดตรัง จังหวัดนครศรีธรรมราช จังหวัดนราธิวาส จังหวัดปัตตานี จังหวัดพังงา จังหวัดพัทลุง จังหวัดภูเก็ต จังหวัดระนอง จังหวัดสตูล จังหวัดสงขลา จังหวัดสุราษฎร์ธานี จังหวัดยะลา

๒. เทือกเขาที่สำคัญในภาคใต้ มีเทือกเขาอะไรบ้าง

เทือกเขาภูเก็ต เทือกเขานครศรีธรรมราช เทือกเขาสันกาลาศีรี

๓. แม่น้ำที่สำคัญในภาคใต้ มีแม่น้ำอะไรบ้าง

แม่น้ำตาปี แม่น้ำสายบุรี แม่น้ำปากพนัง แม่น้ำโกลก

๔. เกาะที่สำคัญในภาคใต้ มีเกาะอะไรบ้าง

เกาะภูเก็ต เกาะสมุย เกาะพังงัน เกาะตะรุเตา



บทเรียนครั้งต่อไป

ลักษณะทรัพยากรและ ภัยพิบัติของภาคใต้

สามารถดาวน์โหลดได้ที่ www.dltv.ac.th





สิ่งที่ต้องเตรียม

ใบงานที่ ๑๓

เรื่อง ลักษณะทรัพยากร
และภัยพิบัติของภาคใต้

สามารถดาวน์โหลดได้ที่ www.dltv.ac.th

