

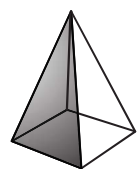
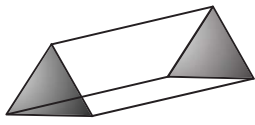

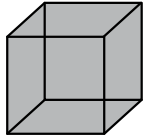




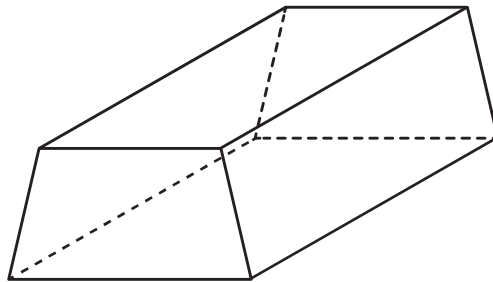
## แบบฝึกหัด 7.1

คำชี้แจง เขียนชื่อของรูปเรขาคณิตสามมิติที่กำหนดให้ พร้อมทั้งอธิบายลักษณะ  
ของรูปเรขาคณิตสามมิติ

รูปเรขาคณิต	ชื่อ	ลักษณะของรูปเรขาคณิตสามมิติ
		
		
		
		
		
		

คำชี้แจง พิจารณารูปเรขาคณิตสามมิติที่กำหนดให้ แล้วตอบคำถาม

1)



1.1 รูปนี้เป็นรูปเรขาคณิตสามมิติชนิดใด เพราะเหตุใด

.....

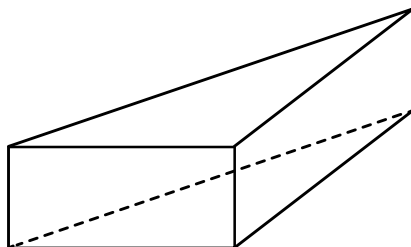
.....

1.2 รูปนี้มีหน้าข้างกี่หน้า หน้าข้างเป็นรูปเรขาคณิตสองมิติชนิดใด

.....

.....

2)



2.1 รูปนี้เป็นรูปเรขาคณิตสามมิติชนิดใด เพราะเหตุใด

.....

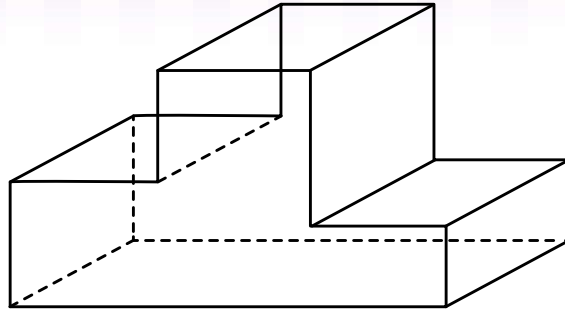
.....

2.2 รูปนี้มีหน้าข้างกี่หน้า หน้าข้างเป็นรูปเรขาคณิตสองมิติชนิดใด

.....

.....

3)



3.1 รูปนี้เป็นรูปเรขาคณิตสามมิติชนิดใด เพราะเหตุใด

---

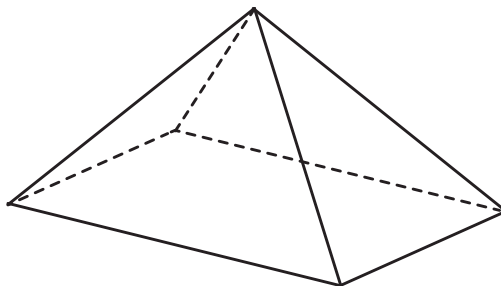
---

3.2 รูปนี้มีหน้าข้างกี่หน้า หน้าข้างเป็นรูปเรขาคณิตสองมิติชนิดใด

---

---

4)



4.1 รูปนี้เป็นรูปอะไร

---

---

4.2 มีฐานเป็นรูปอะไร

---

---

4.3 มีหน้าข้างกี่หน้า หน้าข้างเป็นรูปเรขาคณิตสองมิติชนิดใด

---

---

4.4 เป็นรูปเรขาคณิตสามมิติชนิดใด เพราะเหตุใด

---

---