

รายวิชา สังคมศึกษา

รหัสวิชา สด๖๑๐๑

ชั้นประถมศึกษาปีที่ ๖

ภูมิประเทศภาค ตะวันออกเฉียงเหนือ

ครูผู้สอน ครูวรัญญา แองสาย



ภูมิประเทศ

ภาคตะวันออกเฉียงเหนือ



จุดประสงค์

๑. อธิบายลักษณะภูมิประเทศในภาคตะวันออกเฉียงเหนือได้
๒. ใช้เครื่องมือทางภูมิศาสตร์ศึกษาภูมิศาสตร์ภาคตะวันออกเฉียงเหนือได้
๓. แสดงความคิดเห็นสะท้อนถึงประโยชน์ของการศึกษา
ภูมิศาสตร์ภาคตะวันออกเฉียงเหนือ







เกม คำใบ้ลับ

จังหวัดในอิสาน





เกม คำใบ้ลับ
จังหวัดในอีสาน

มีช่างแสนรู้และงานช่างที่ยิ่งใหญ่ทุกปี

เฉลย จังหวัด สุรินทร์



เกม คำไข้อยู่ลับ จังหวัดในอีสาน

แหล่งโบราณคดีสำคัญในประเทศไทย
มีเครื่องปั้นดินเผาหลายเขียนสี มีชื่อว่าบ้านเชียง

เฉลย จังหวัด อุดรธานี



เกม คำใบ้ลับ

จังหวัดในอีสาน

พระธาตุสำคัญคู่บ้านคู่เมือง ชื่อว่าพระธาตุพนม

เฉลย จังหวัด นครพนม



เกม คำใบ้ลับ

จังหวัดในอิสาน

มีฉายาว่าเป็นประตูสู่อีสาน

เฉลย จังหวัด นครราชสีมา




เกม คำไขลับ

จังหวัดในอิสาน

จังหวัดนี้มีผาแต้ม

และมีพระอาทิตย์ขึ้นก่อนใครในไทย

เฉลย จังหวัด อุบลราชธานี

A world map is shown with a magnifying glass over the Southeast Asian region. In the top right corner, there is an orange circle containing a white lightbulb icon. In the bottom left corner, there is a blue circle containing a white thumbs-up icon. A white circular frame surrounds the central text. Three small colored circles (green, yellow, and blue) are also present on the right side of the magnifying glass handle.


จังหวัดในภาค ตะวันออกเฉียงเหนือ



จังหวัดในภาคตะวันออกเฉียงเหนือ



๒๐ จังหวัด

A magnifying glass is positioned over a world map, focusing on Southeast Asia. The map shows various countries including Indonesia, Papua New Guinea, and the Philippines. A lightbulb icon is in the top right, and a thumbs up icon is in the bottom left. A white circle contains the text.

ทิวเขาในภาค ตะวันออกเฉียงเหนือ



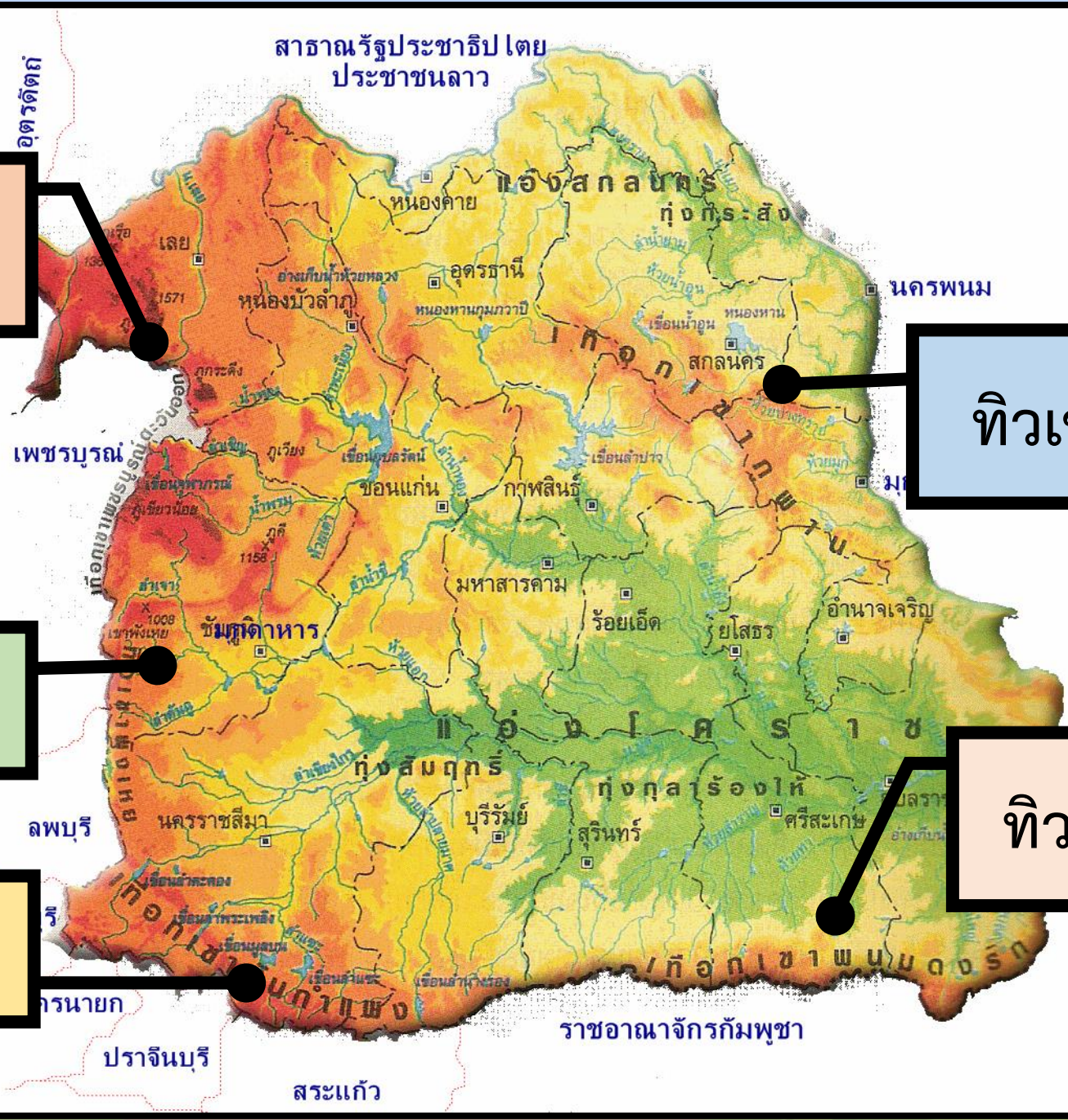
สาธารณรัฐประชาธิปไตย
ประชาชนลาว

อัตรัดถ

ทิวเขาเพชรบูรณ์

ทิวเขาดงพญาเย็น

ทิวเขาสันกำแพง



ทิวเขาภูพาน

ทิวเขาพนมดงรัก


ภาพแผนที่ จาก
<http://ratchadaporn5222.blogs.pot.com/p/blog-page.html>



ทิวเขาภูพาน



พระตำหนักภูพานราชนิเวศน์



ภูกระดึง


จาก <https://www.hellowinter.xn-->



ทิวเขาพนมดงรัก



ปราสาทเขาพระวิหาร

A magnifying glass is positioned over a world map, focusing on Southeast Asia. The map shows various countries including Indonesia, Papua New Guinea, and the Philippines. A lightbulb icon is in the top right, and a thumbs up icon is in the bottom left. The text is centered in a white circle.

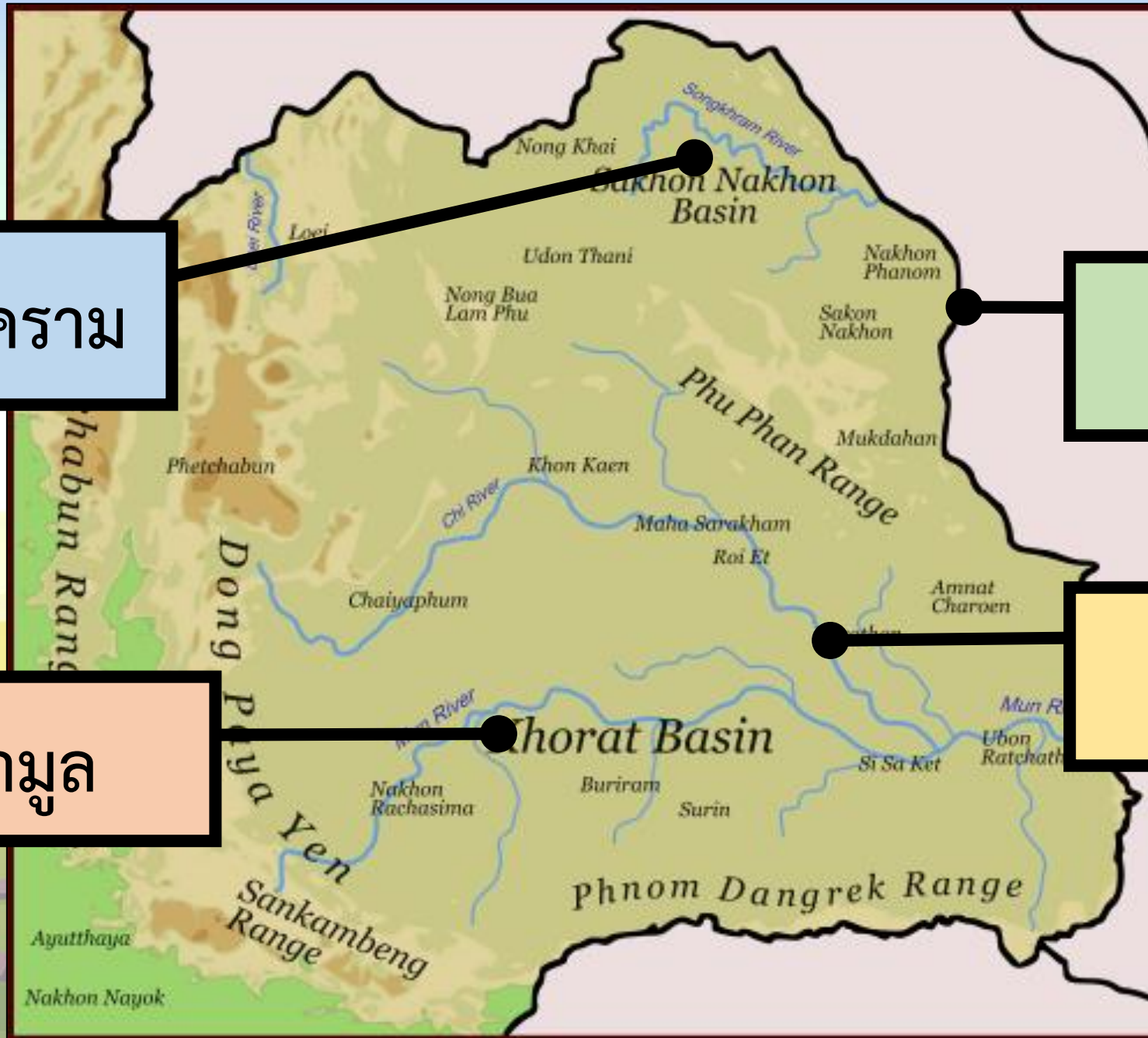
แม่น้ำในภาค ตะวันออกเฉียงเหนือ

แม่น้ำสงคราม

แม่น้ำโขง

แม่น้ำมูล


แม่น้ำชี



คำถามชวนคิด?

แม่น้ำสายที่ยาวที่สุด
ในประเทศไทย คือแม่น้ำใด






แม่น้ำชี

จาก https://www.khaosod.co.th/around-thailand/news_6655425



แม่น้ำโขง

A magnifying glass is positioned over a world map, focusing on Southeast Asia. The map shows various countries including Indonesia, Papua New Guinea, and the Philippines. A lightbulb icon is in the top right, and a thumbs up icon is in the bottom left. The text is centered in a white circle.

ที่ราบในภาค ตะวันออกเฉียงเหนือ

A wide-angle photograph of a savanna landscape. The foreground is a dry, grassy field with some patches of green. In the middle ground, several trees of varying sizes and species are scattered across the plain. The background shows a clear blue sky with a few wispy white clouds. The overall scene is bright and open.

ทุ่งกุลาร้องไห้

จาก <http://www.ampoljane.com/2009/03/18/tropical-savannah-climate/>

คำถามชวนคิด?

ภาคอีสานได้ชื่อว่าเป็นพื้นที่ ที่แห้งแล้ง
แต่ทำไมปลูกยางพาราได้





จาก <https://mgronline.com/china/detail/9600000116166>



จาก <https://www.posttoday.com/politic/news/535638>


“แฟนพันธุ์แท้ภาคอีสาน”

ครูนำเสนอภาพลักษณะภูมิประเทศ
และวิถีชีวิตอื่น ๆ ของผู้คนในภาคอีสาน
จำนวน ๑๐ ภาพ และให้นักเรียนยกมือ
ตอบคำถามว่าภาพดังกล่าวอยู่ในบริเวณ
จังหวัดใดของภาคอีสาน






ประเพณีแห่ผีตาโขน




นครพนม



อุดรธานี




เลย




สุรินทร์



สามพันโบก




นครพนม



นครราชสีมา



อุบลราชธานี




ขอนแก่น




ปราสาทหินพนมรุ้ง




บุรีรัมย์



เลย




อุดรธานี



ขอนแก่น




ปราสาทหินพิมาย




บุรีรัมย์




นครราชสีมา




อุดรธานี




กาฬสินธุ์




ประเพณีแห่ดาว



บึงกาฬ



นครราชสีมา




ชัยภูมิ




สกลนคร



มอหินขาว




บึงกาฬ




นครราชสีมา




ชัยภูมิ




สกลนคร



ผาแต้ม




บึงกาฬ



นครราชสีมา




อุบลราชธานี




สกลนคร




ประเพณีแห่งปราสาทผิง



บึงกาฬ



นครราชสีมา



อุบลราชธานี




สกลนคร




พระธาตุพนม




นครพนม



นครราชสีมา



อุบลราชธานี




สกลนคร




คำชะโนด




อุดรธานี



นครราชสีมา



อุบลราชธานี



สกลนคร

คำถามชวนคิด?

ลักษณะทางกายภาพของภาคอีสาน
มีอิทธิพลต่อวิถีชีวิต
ของผู้คนที่อาศัยอยู่ อย่างไรบ้าง





จาก <http://118.172.227.194:7001/nfenongyi>



อากาศแห้งแล้ง

ประเพณีห่มนางแมว



จาก <http://118.172.227.194:7001/nfenongyi>



จาก <https://duangjaiblog.wordpress.com>

อากาศแห้งแล้ง

ประเพณีบุญบั้งไฟ

โครงการฝนหลวง



พระบาทสมเด็จพระปรมินทรมหาภูมิพลอดุลยเดชมหาราช บรมนาถบพิตร (รัชกาลที่ ๙) ทรงริเริ่มขึ้นเมื่อปี พ.ศ. ๒๕๑๘ เพื่อช่วยเหลือเกษตรกรและแก้ไขปัญหาภัยแล้งที่ส่งผลกระทบต่อเกษตรกรและการดำรงชีวิตของประชาชน การดัดแปรสภาพอากาศ โดยการโปรยสารเคมีที่ปลอดภัย ช่วยเหลือพื้นที่แล้งน้ำ ทั้งเพื่อการเกษตร การอุปโภคบริโภค และการบริหารจัดการน้ำ ในอ่างเก็บน้ำ

โครงการฝนหลวงถือเป็นหนึ่งในพระอัจฉริยภาพด้านการบริหารจัดการทรัพยากรน้ำ และเป็นพระราชกรณียกิจที่แสดงถึงความห่วงใยต่อประชาชนและความยั่งยืนของประเทศ

๕ งานปฏิบัติ





คำชี้แจง
ในการทำกิจกรรมนักเรียน

นักเรียนทำใบงานที่ ๖
เรื่อง ภูมิประเทศภาค
ตะวันออกเฉียงเหนือ



คำชี้แจง
บทบาทครูปลายทาง

๑. ครูให้นักเรียนทำใบงานที่ ๖
เรื่อง ภูมิประเทศภาค
ตะวันออกเฉียงเหนือ
๒. ครูให้ความช่วยเหลือนักเรียน
ตามความเหมาะสม



ใบงานที่ ๖ เรื่อง ภูมิประเทศภาคตะวันออกเฉียงเหนือ

คำชี้แจง ให้นักเรียนระบายสีแผนที่ภาคตะวันออกเฉียงเหนือ และตอบคำถามที่กำหนดให้



๑. ภาคตะวันออกเฉียงเหนือมีกี่จังหวัด ได้แก่จังหวัดอะไรบ้าง (ยกตัวอย่าง ๕ จังหวัด)

.....
.....

๒. เทือกเขาที่สำคัญในภาคตะวันออกเฉียงเหนือ คือเทือกเขาใดบ้าง

.....
.....



ใบงานที่ ๖ เรื่อง ภูมิประเทศภาคตะวันออกเฉียงเหนือ

คำชี้แจง ให้นักเรียนระบายสีแผนที่ภาคตะวันออกเฉียงเหนือ และตอบคำถามที่กำหนดให้




๓ .แม่น้ำที่สำคัญในภาคตะวันออกเฉียงเหนือ คือแม่น้ำใดบ้าง

.....
.....

๔. การศึกษา เรื่อง ลักษณะภูมิประเทศภาคตะวันออกเฉียงเหนือ มีความสำคัญอย่างไร

.....
.....

สรุปบทเรียน





เฉลย ใบงานที่ ๖ เรื่อง ภูมิประเทศภาคตะวันออกเฉียงเหนือ

คำชี้แจง ให้นักเรียนระบายสีแผนที่ภาคตะวันออกเฉียงเหนือ และตอบคำถามที่กำหนดให้



๑. ภาคตะวันออกเฉียงเหนือมีกี่จังหวัด ได้แก่จังหวัดอะไรบ้าง (ยกตัวอย่าง ๕ จังหวัด)

นครราชสีมา ขอนแก่น อุดรธานี สุรินทร์ เลย ฯลฯ

๒. เทือกเขาที่สำคัญในภาคตะวันออกเฉียงเหนือ คือเทือกเขาใดบ้าง

ทิวเขาสันกำแพง ทิวเขาพนมดงรัก ทิวเขาภูพาน

ทิวเขาตงพญาเย็น ทิวเขาเพชรบูรณ์



เฉลย ใบงานที่ ๖ เรื่อง ภูมิประเทศภาคตะวันออกเฉียงเหนือ

คำชี้แจง ให้นักเรียนระบายสีแผนที่ภาคตะวันออกเฉียงเหนือ และตอบคำถามที่กำหนดให้



๓. แม่น้ำที่สำคัญในภาคตะวันออกเฉียงเหนือ คือแม่น้ำใดบ้าง
แม่น้ำมูล แม่น้ำโขง แม่น้ำชี แม่น้ำสงคราม.....

๔. การศึกษา เรื่อง ลักษณะภูมิประเทศภาคตะวันออกเฉียงเหนือ มีความสำคัญอย่างไร

ทำให้ทราบลักษณะทางภูมิศาสตร์ของภาคตะวันออกเฉียงเหนือ.....

เหตุผลในการดำเนินชีวิตของผู้คน เข้าใจความแตกต่าง.....

ตลอดจนวางแผนในการดำเนินชีวิต เช่น การประกอบอาชีพ.....

การท่องเที่ยว เป็นต้น.....



บทเรียนครั้งต่อไป

ลักษณะทรัพยากรและภัยพิบัติ
ของภาคตะวันออกเฉียงเหนือ

สามารถดาวน์โหลดได้ที่ www.dltv.ac.th





สิ่งที่ต้องเตรียม

ใบงานที่ ๗

เรื่อง ลักษณะทรัพยากรและภัยพิบัติ
ของภาคตะวันออกเฉียงเหนือ

สามารถดาวน์โหลดได้ที่ www.dltv.ac.th

