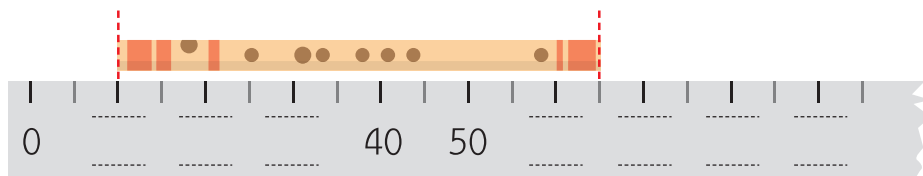


แบบฝึกหัด 8.4

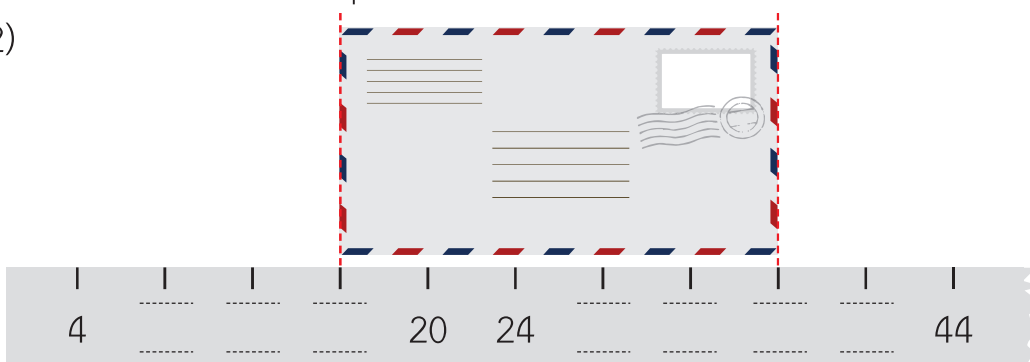
1) เขียนตัวเลขบนไม้บรรทัด และเขียนคำตอบในช่องว่าง

1)



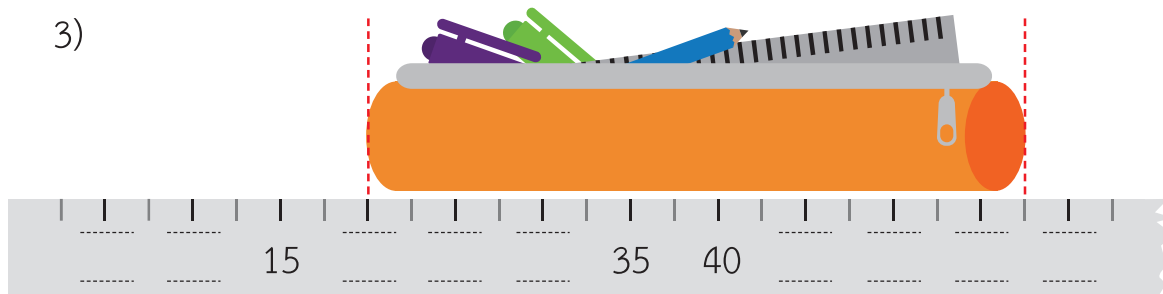
ขลุ่ยยาว เซนติเมตร

2)



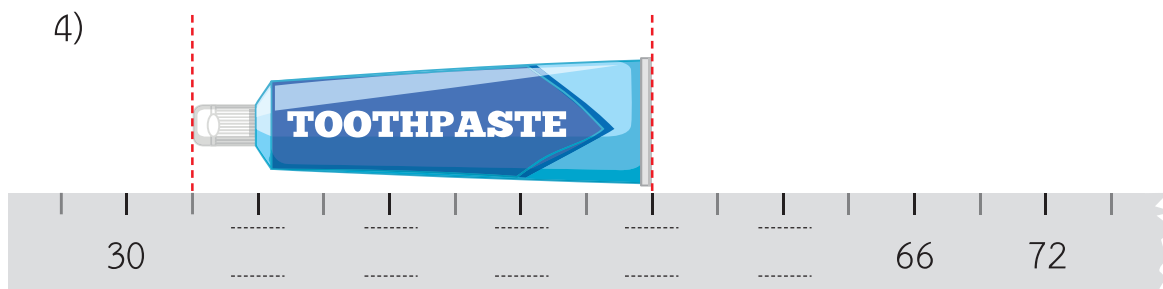
ซองจดหมายยาว เซนติเมตร

3)



กระเป๋าดินสอยยาว เซนติเมตร มิลลิเมตร

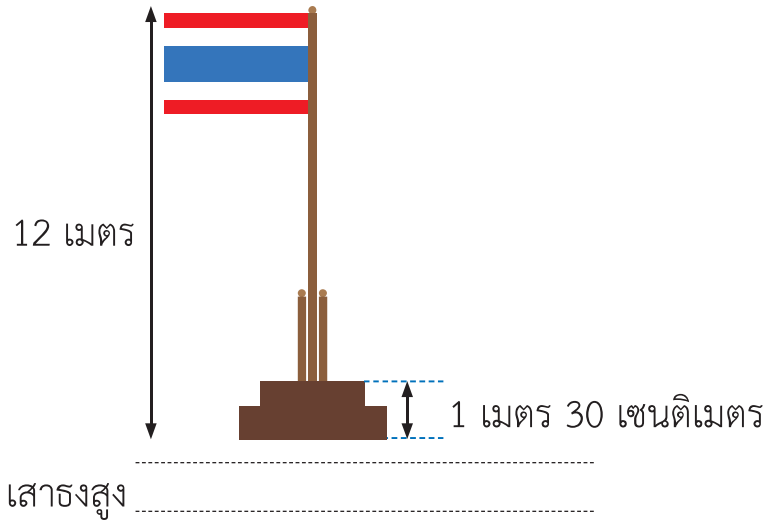
4)




หลอดยาสีฟันยาว เซนติเมตร มิลลิเมตร

2 เขียนคำตอบในช่องว่าง

1)



2) วายุสูง 175 เซนติเมตร ต้นมะพร้าวสูงเท่าไร



3) ดินสอยาว 15 เซนติเมตร เชือกยาวเท่าไร

