

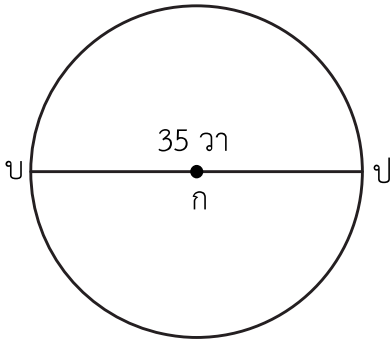


แบบฝึกหัด 6.42

คำชี้แจง หาพื้นที่ของวงกลมต่อไปนี้

1)

กำหนด $\pi = \frac{22}{7}$



.....

.....

.....

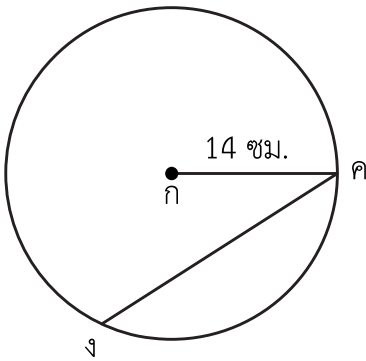
.....

.....

.....

2)

กำหนด $\pi = \frac{22}{7}$



.....

.....

.....

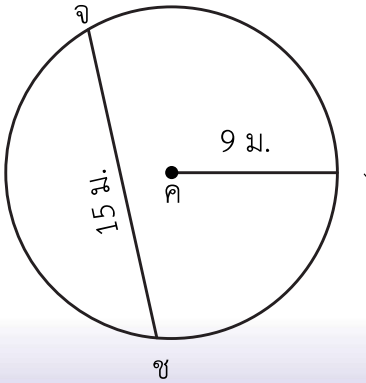
.....

.....

.....

3)

กำหนด $\pi = \frac{22}{7}$



.....

.....

.....

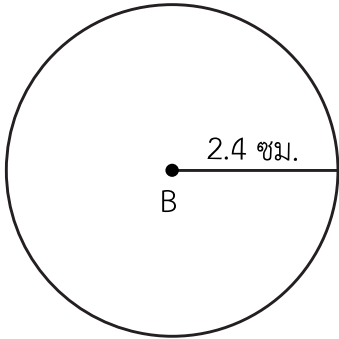
.....

.....

.....

4)

กำหนด $\pi = 3.14$



.....

.....

.....

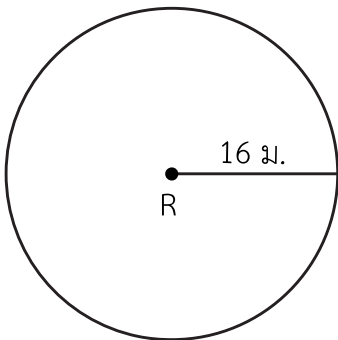
.....

.....

.....

5)

กำหนด $\pi = 3.14$



.....

.....

.....

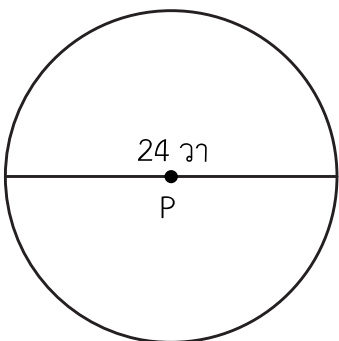
.....

.....

.....

6)

กำหนด $\pi = 3.14$



.....

.....

.....

.....

.....

.....

7) วงกลม U มีเส้นผ่านศูนย์กลางยาว 40 เซนติเมตร วงกลมนี้มีพื้นที่เท่าไร (กำหนด $\pi = \frac{22}{7}$)

8) วงกลม A มีรัศมียาว 2.5 เซนติเมตร วงกลมนี้มีพื้นที่เท่าไร (กำหนด $\pi = 3.14$)
