





แบบฝึกหัด 5.11




1. โยงเส้นจับคู่ลักษณะของรูปสี่เหลี่ยม



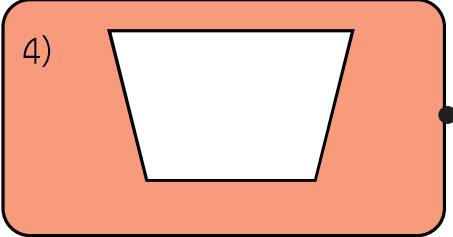
ด้านตรงข้ามยาวเท่ากัน และขนานกันสองคู่ มุมทุกมุมไม่เป็นมุมฉาก




ด้านที่อยู่ติดกันยาวเท่ากัน สองคู่ และมุมที่อยู่ตรงข้ามเท่ากันหนึ่งคู่



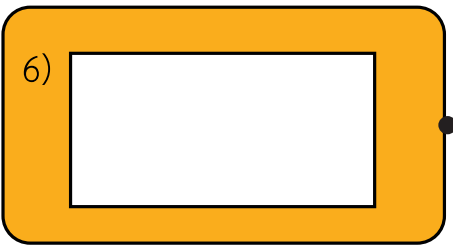
ด้านตรงข้ามขนานกัน เพียงหนึ่งคู่



ด้านทุกด้านยาวเท่ากัน มุมทุกมุมเป็นมุมฉาก



มุมทุกมุมเป็นมุมฉาก ด้านตรงข้ามยาวเท่ากัน แต่ด้านที่อยู่ติดกันยาวไม่เท่ากัน



ด้านทุกด้านยาวเท่ากัน มุมทุกมุมไม่เป็นมุมฉาก



2. รูปสี่เหลี่ยมต่อไปนี้ มีชื่อเรียกว่าอย่างไร

1)



รูปสี่เหลี่ยม.....

2)



รูปสี่เหลี่ยม.....

3)



รูปสี่เหลี่ยม.....

4)



รูปสี่เหลี่ยม.....

5)



รูปสี่เหลี่ยม.....

6)



รูปสี่เหลี่ยม.....



3. **ตอบคำถาม**

1) รูปสี่เหลี่ยมผืนผ้าเป็นรูปสี่เหลี่ยมด้านขนานหรือไม่
เพราะเหตุใด

ตอบ

2) รูปสี่เหลี่ยมจัตุรัสเป็นรูปสี่เหลี่ยมด้านขนานหรือไม่
เพราะเหตุใด

ตอบ

3) รูปสี่เหลี่ยมขนมเปียกปูนเป็นรูปสี่เหลี่ยมด้านขนานหรือไม่
เพราะเหตุใด

ตอบ

4) คำกล่าวที่ว่า “รูปสี่เหลี่ยมด้านขนานทุกรูปเป็นรูปสี่เหลี่ยมผืนผ้า”
เป็นจริงหรือไม่ เพราะเหตุใด

ตอบ