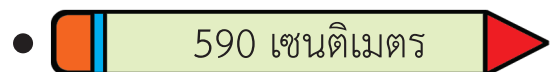
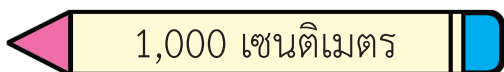
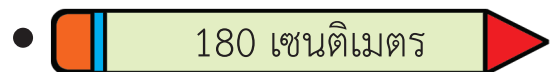
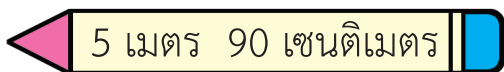
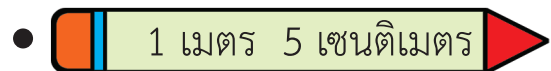
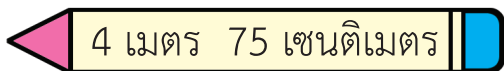
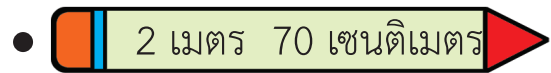
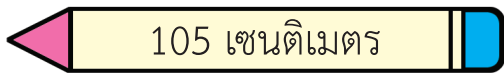
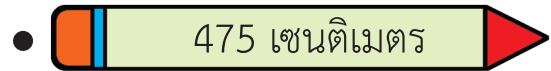
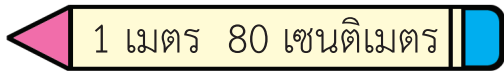
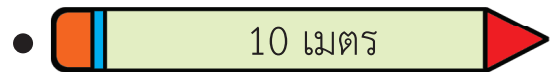
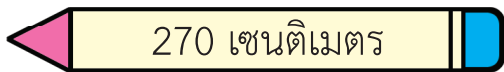


แบบฝึกหัด 6.5

1 โยงเส้นจับคู่ความยาวที่เท่ากัน



2 เขียนคำตอบในช่องว่าง

1) 480 เซนติเมตร เท่ากับ เมตร เซนติเมตร

2) 325 เซนติเมตร เท่ากับ เมตร เซนติเมตร

3) 5 เมตร 40 เซนติเมตร เท่ากับ เซนติเมตร

4) 2 เมตร 50 เซนติเมตร เท่ากับ เซนติเมตร

3 เขียนความยาวที่เท่ากับความยาวที่กำหนดให้

1) ราวตากผ้ายาว 550 เซนติเมตร ยาวเท่ากับกี่เมตร กี่เซนติเมตร

.....
.....

2) พ่อสูง 175 เซนติเมตร สูงเท่ากับกี่เมตร กี่เซนติเมตร

.....
.....

3) ยีราฟสูง 4 เมตร สูงเท่ากับกี่เซนติเมตร

.....
.....

4) จระเข้ยาว 1 เมตร 80 เซนติเมตร ยาวเท่ากับกี่เซนติเมตร

.....
.....