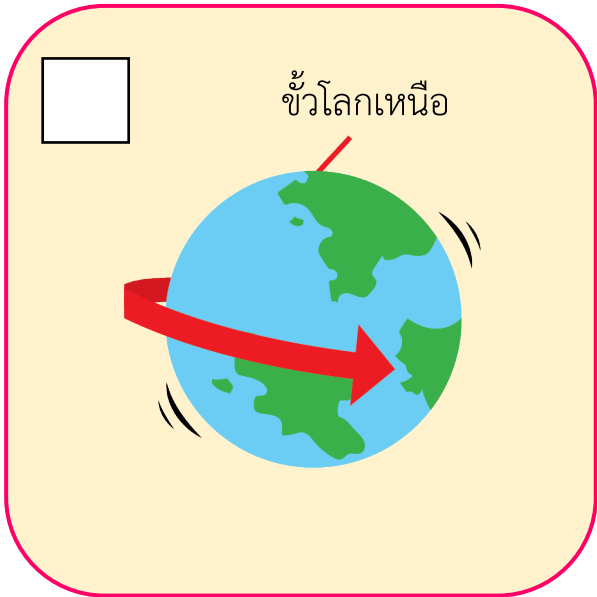
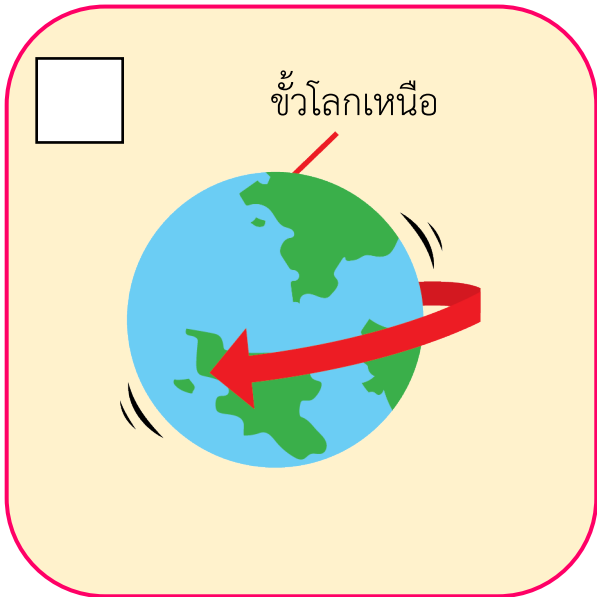
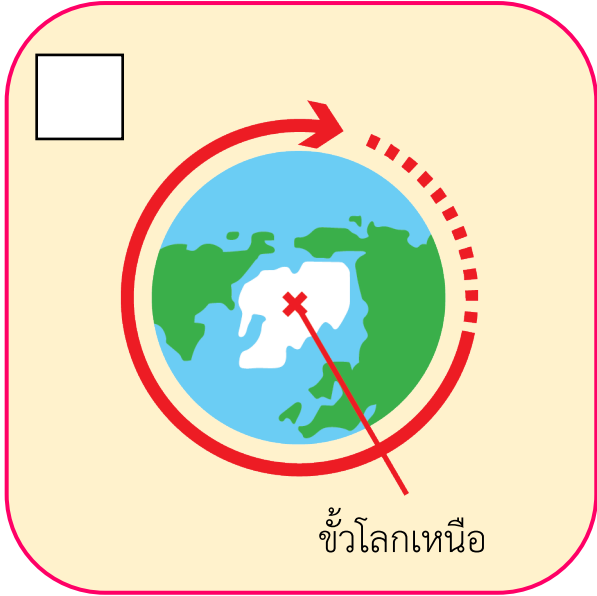


แบบฝึกหัด เรื่องการเกิดกลางวัน กลางคืน

ตอบคำถามต่อไปนี้ให้ถูกต้อง

1. ข้อใดแสดงทิศทางการหมุนรอบตัวเองของโลกได้ถูกต้อง

ขีด ✓ ใน □ ที่เลือก
(เลือกได้มากกว่า 1 คำตอบ)



2. หากนักเรียนมีเพื่อนอยู่ประเทศ A แล้วตัวนักเรียนอยู่ประเทศ B ดังรูป ขณะนี้ประเทศ A เป็นเวลากลางคืน ส่วนประเทศ B เป็นเวลากลางวัน เพื่อนสงสัยว่าเพราะเหตุใดขณะนี้ประเทศ B จึงไม่ได้เป็นเวลากลางคืนเหมือนกับประเทศ A นักเรียนจะอธิบายโดยใช้ความรู้เกี่ยวกับการเกิดกลางวัน กลางคืนได้อย่างไร

วาดรูปตำแหน่งของดวงอาทิตย์ และเขียนเหตุผล



ประเทศ A เป็นเวลากลางคืน

ประเทศ B เป็นเวลากลางวัน

ประเทศ B ไม่ได้เป็นเวลากลางคืนเหมือนกับประเทศ A เพราะ.....

.....

.....

.....

.....