

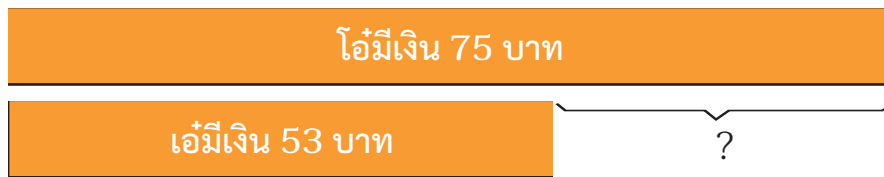
แบบฝึกหัด 2.28

1 เขียนประโยคสัญลักษณ์และหาคำตอบ

1) โไอ้มีเงิน 75 บาท เอ้มีเงิน 53 บาท เอ้มีเงินน้อยกว่าโไอ้กี่บาท

โไอ้ถาม เอ้มีเงินน้อยกว่าโไอ้กี่บาท

โไอ้บอก โไอ้มีเงิน 75 บาท เอ้มีเงิน 53 บาท



ประโยคสัญลักษณ์ .....

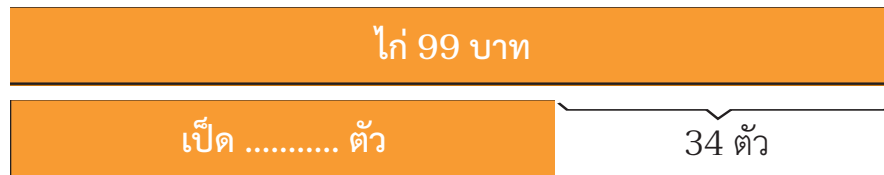
ตอบ เอ้มีเงินน้อยกว่าโไอ้ ..... บาท

2) ลุงดินเลี้ยงไก่ 99 ตัว ลุงดินเลี้ยงเป็ดน้อยกว่าไก่ 34 ตัว

ลุงดินเลี้ยงเป็ดกี่ตัว

โไอ้ถาม ลุงดินเลี้ยงเป็ดกี่ตัว

โไอ้บอก ลุงดินเลี้ยงไก่ 99 ตัว ลุงดินเลี้ยงเป็ดน้อยกว่าไก่ 34 ตัว



ประโยคสัญลักษณ์ .....

ตอบ ลุงดินเลี้ยงเป็ด ..... ตัว

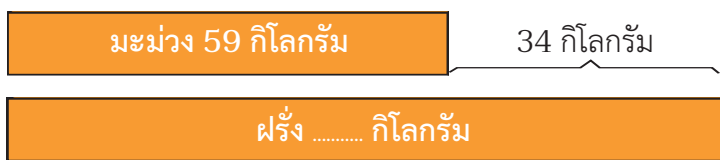




3) แม่ค้าขายมะม่วงได้ 59 กิโลกรัม แม่ค้าขายมะม่วงได้น้อยกว่าฝรั่ง 34 กิโลกรัม แม่ค้าขายฝรั่งได้กี่กิโลกรัม

โจทย์ถาม แม่ค้าขายฝรั่งได้กี่กิโลกรัม

โจทย์บอก แม่ค้าขายมะม่วงได้ 59 กิโลกรัม แม่ค้าขายมะม่วงได้น้อยกว่าฝรั่ง 34 กิโลกรัม



ประโยคสัญลักษณ์ .....

ตอบ แม่ค้าขายฝรั่งได้ ..... กิโลกรัม

4) ชั้น ป.1 มีนักเรียน 67 คน ชั้น ป.1 มีนักเรียนน้อยกว่าชั้น ป.2 14 คน ชั้น ป.2 มีนักเรียนกี่คน

โจทย์ถาม ชั้น ป.2 มีนักเรียนกี่คน

โจทย์บอก ชั้น ป.1 มีนักเรียน 67 คน ชั้น ป.1 มีนักเรียนน้อยกว่าชั้น ป.2 14 คน



ประโยคสัญลักษณ์ .....

ตอบ ชั้น ป.2 มีนักเรียน ..... คน



5) กุ้งทำคุกกี้ได้ 45 ชิ้น กุ้งทำเค้กได้น้อยกว่าทำคุกกี้ 18 ชิ้น กุ้งทำเค้กได้กี่ชิ้น

โจทย์ถาม กุ้งทำเค้กได้กี่ชิ้น

โจทย์บอก กุ้งทำคุกกี้ได้ 45 ชิ้น กุ้งทำเค้กได้น้อยกว่าทำคุกกี้ 18 ชิ้น

ประโยคสัญลักษณ์ .....

ตอบ กุ้งทำเค้กได้ ..... ชิ้น

6) วันนี้เก็บไข่เป็ดได้ 72 ฟอง เก็บได้น้อยกว่าเมื่อวาน 18 ฟอง เมื่อวานเก็บไข่เป็ดได้กี่ฟอง

โจทย์ถาม เมื่อวานเก็บไข่เป็ดได้กี่ฟอง

โจทย์บอก วันนี้เก็บไข่เป็ดได้ 72 ฟอง เก็บได้น้อยกว่าเมื่อวาน 18 ฟอง

ประโยคสัญลักษณ์ .....

ตอบ เมื่อวานเก็บไข่เป็ดได้ ..... ฟอง

7) ในหนึ่งสัปดาห์ พรานออมเงินได้ 58 บาท พรานออมเงินได้น้อยกว่าพิม 17 บาท พิมออมเงินได้กี่บาท

โจทย์ถาม พิมออมเงินได้กี่บาท

โจทย์บอก ในหนึ่งสัปดาห์ พรานออมเงินได้ 58 บาท

พรานออมเงินได้น้อยกว่าพิม 17 บาท

ประโยคสัญลักษณ์ .....

ตอบ พิมออมเงินได้ ..... บาท

