

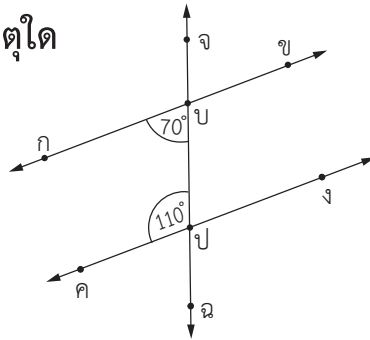


แบบฝึกหัด 5.5



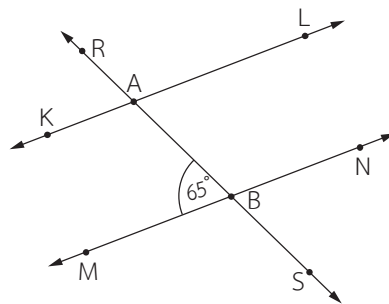
ตอบคำถาม

1. กำหนด $\overleftrightarrow{กข}$ กับ $\overleftrightarrow{คง}$ และ $\widehat{กปจ}$ มีขนาด 70° กับ $\widehat{คปจ}$ มีขนาด 110° $\overleftrightarrow{กข}$ ขนานกับ $\overleftrightarrow{คง}$ หรือไม่ เพราะเหตุใด



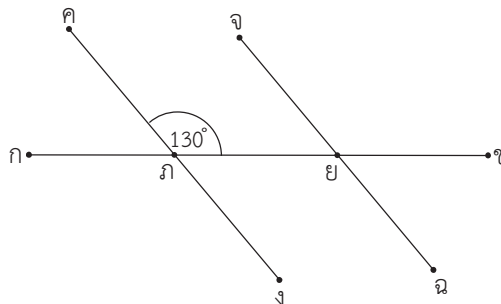
ตอบ.....

2. กำหนด $\overleftrightarrow{KL} \parallel \overleftrightarrow{MN}$ และ \widehat{MBR} มีขนาด 65° \widehat{KAS} มีขนาดเท่าใด เพราะเหตุใด



ตอบ.....

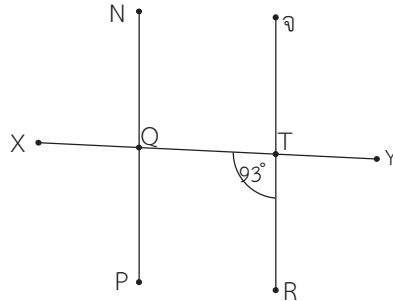
3. กำหนดให้ $\overleftrightarrow{คจ} \parallel \overleftrightarrow{จฉ}$ และ $\widehat{ขกค}$ มีขนาด 130° $\widehat{ขยฉ}$ มีขนาดเท่าใด เพราะเหตุใด



ตอบ.....

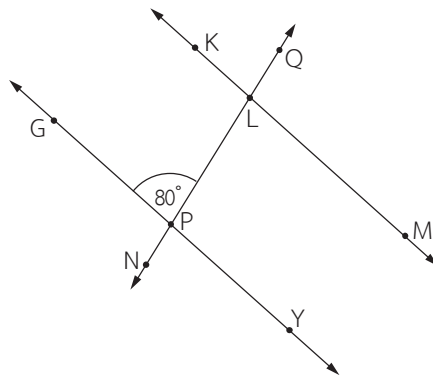


4. กำหนด $\overleftrightarrow{PN} \parallel \overleftrightarrow{RS}$ และ \hat{RTX} มีขนาด 93° \hat{PQY} มีขนาดเท่าใด เพราะเหตุใด



ตอบ.....

5. กำหนด $\overleftrightarrow{KM} \parallel \overleftrightarrow{GY}$ และ \hat{GPQ} มีขนาด 80° \hat{KLN} มีขนาดเท่าใด เพราะเหตุใด



ตอบ.....