

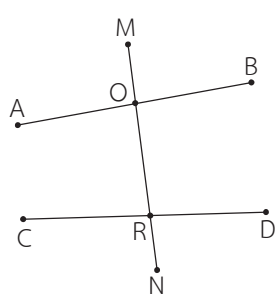


แบบฝึกหัด 5.4



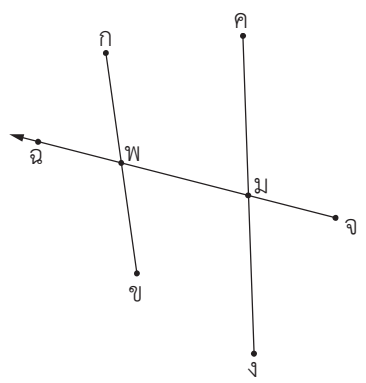
1. เส้นตรง รังสี หรือส่วนของเส้นตรงใดเป็นเส้นตัดขวาง

1)



.....

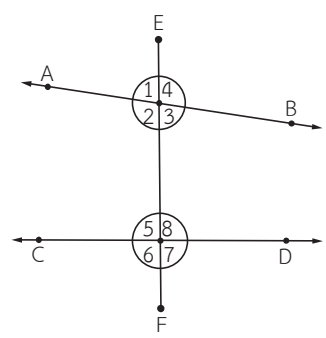
2)



.....

2. มุมใดบ้างเป็นมุมที่อยู่บนข้างเดียวกันของเส้นตัดขวาง

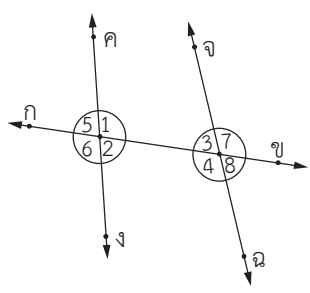
1)



มุมที่อยู่บนข้างเดียวกันของเส้นตัดขวาง

.....
.....

2)



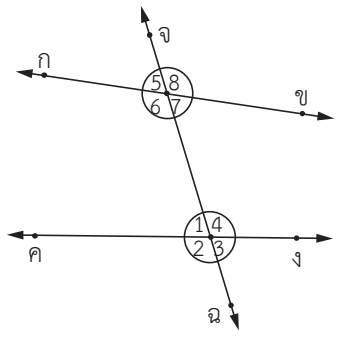
มุมที่อยู่บนข้างเดียวกันของเส้นตัดขวาง

.....
.....



3. มุมใดบ้างเป็นมุมภายใน และมุมใดบ้างเป็นมุมภายนอก

1)



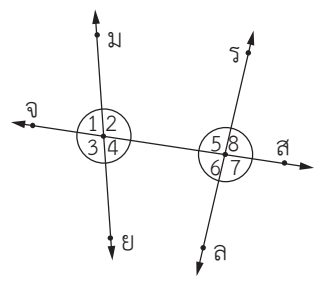
มุมภายใน

.....

มุมภายนอก

.....

2)



มุมภายใน

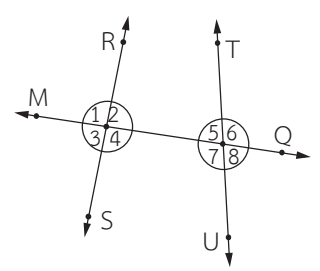
.....

มุมภายนอก

.....

4. มุมใดบ้างเป็นมุมภายในที่อยู่บนข้างเดียวกันของเส้นตัดขวาง และมุมใดบ้างเป็นมุมภายในที่อยู่คนละข้างของเส้นตัดขวาง

1)



มุมภายในที่อยู่บนข้างเดียวกันของเส้นตัดขวาง

.....

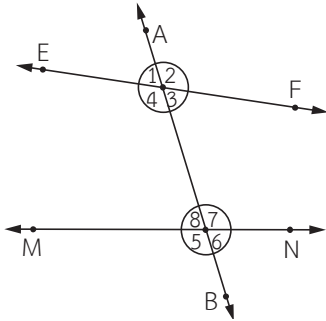
.....

มุมภายในที่อยู่คนละข้างของเส้นตัดขวาง

.....

.....

2)



มุมภายในที่อยู่บนข้างเดียวกันของเส้นตัดขวาง

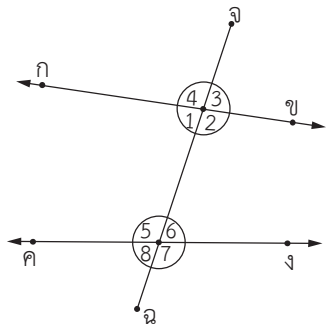
.....

มุมภายในที่อยู่คนละข้างของเส้นตัดขวาง

.....

5. มุมใดบ้างเป็นมุมแย้งภายใน และมุมใดบ้างเป็นมุมแย้งภายนอก

1)



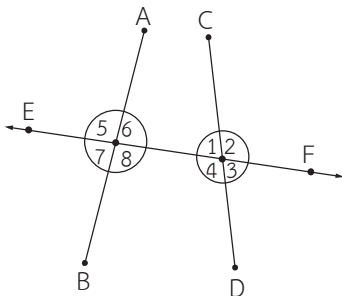
มุมแย้งภายใน

.....

มุมแย้งภายนอก

.....

2)



มุมแย้งภายใน

.....

มุมแย้งภายนอก

.....
