

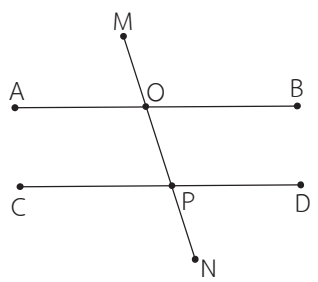


แบบฝึกหัด 5.3



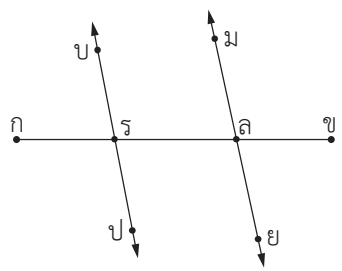
1. เส้นตรง รังสี หรือส่วนของเส้นตรงใดเป็นเส้นตัดขวาง

1)



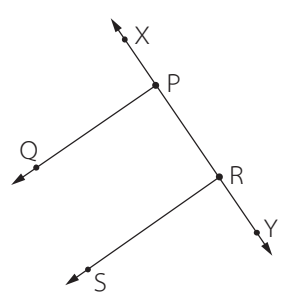
.....

2)



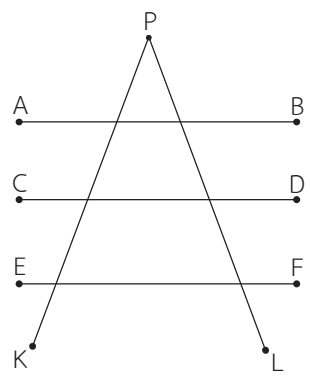
.....

3)



.....

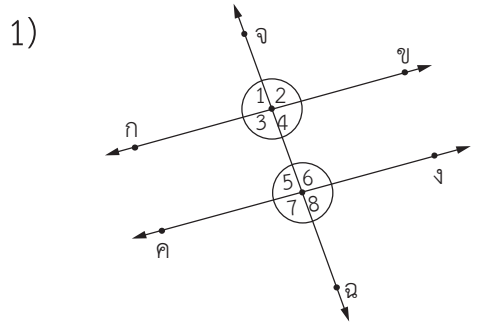
4)



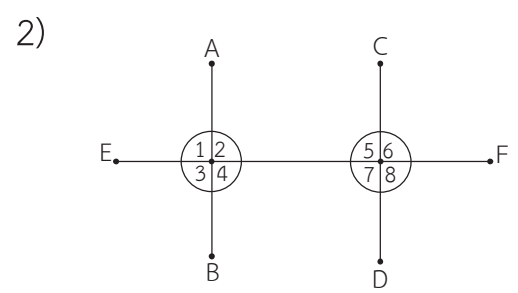
.....



2. มุมใดบ้างเป็นมุมที่อยู่บนข้างเดียวกันของเส้นตัดขวาง

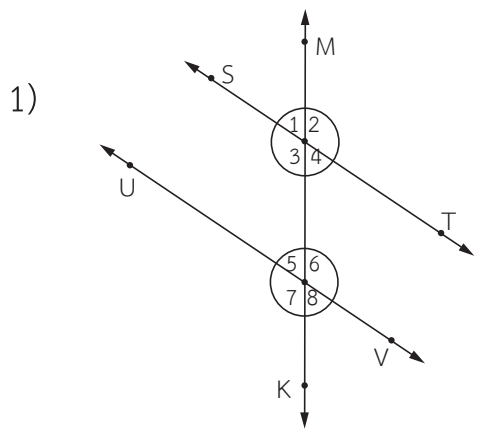


.....

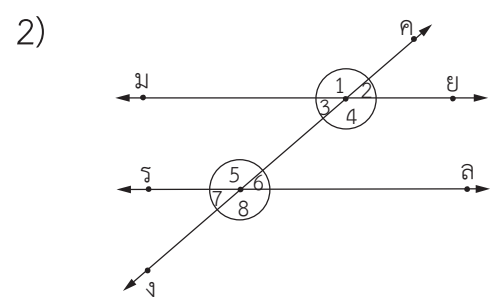


.....

3. มุมใดบ้างเป็นมุมภายใน และมุมใดบ้างเป็นมุมภายนอก



มุมภายใน.....
 มุมภายนอก.....

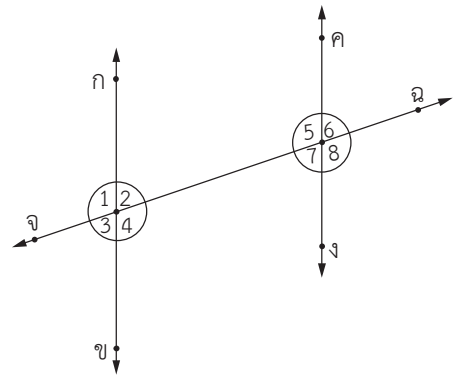


มุมภายใน.....
 มุมภายนอก.....



4. มุมใดบ้างเป็นมุมภายในที่อยู่บนข้างเดียวกันของเส้นตัดขวาง และมุมใดบ้างเป็นมุมภายในที่อยู่คนละข้างของเส้นตัดขวาง

1)



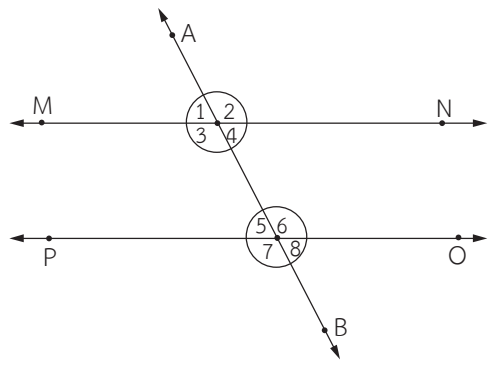
มุมภายในที่อยู่บนข้างเดียวกันของเส้นตัดขวาง

.....
.....

มุมภายในที่อยู่คนละข้างของเส้นตัดขวาง

.....
.....

2)



มุมภายในที่อยู่บนข้างเดียวกันของเส้นตัดขวาง

.....
.....

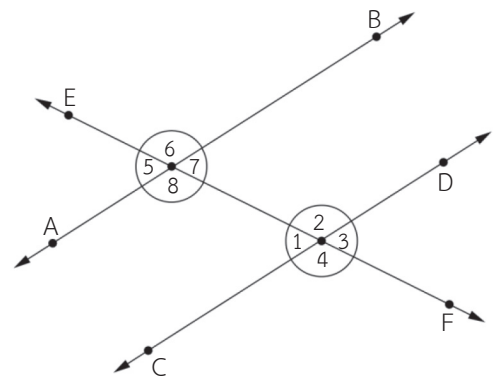
มุมภายในที่อยู่คนละข้างของเส้นตัดขวาง

.....
.....



5. มุมใดบ้างเป็นมุมแย้งภายใน และมุมใดบ้างเป็นมุมแย้งภายนอก

1)



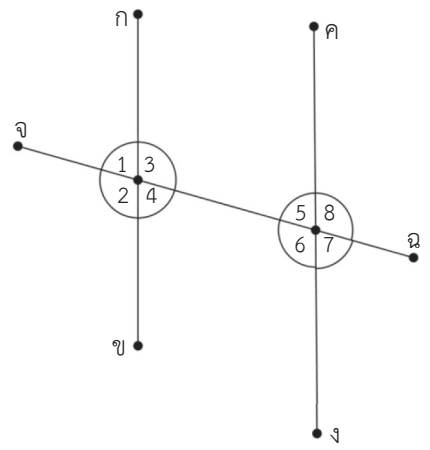
มุมแย้งภายใน

.....
.....

มุมแย้งภายนอก

.....
.....

2)



มุมแย้งภายใน

.....
.....

มุมแย้งภายนอก

.....
.....