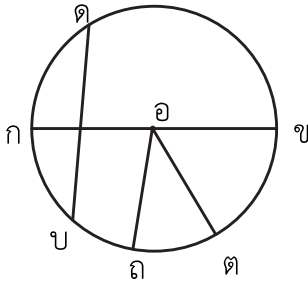




## แบบฝึกหัด 6.35

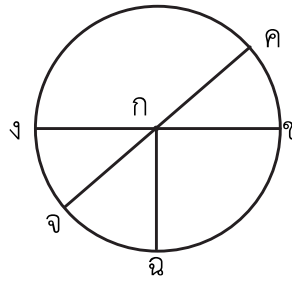
คำชี้แจง บอกชื่อของส่วนต่าง ๆ ของวงกลมที่กำหนดให้

1)



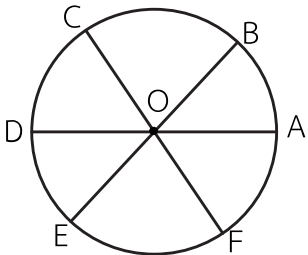
จุดศูนย์กลาง .....  
 รัศมี .....  
 เส้นผ่านศูนย์กลาง .....

2)



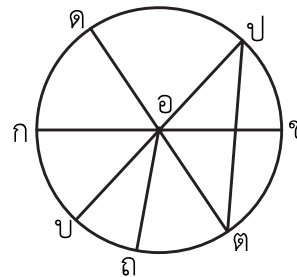
จุดศูนย์กลาง .....  
 รัศมี .....  
 เส้นผ่านศูนย์กลาง .....

3)



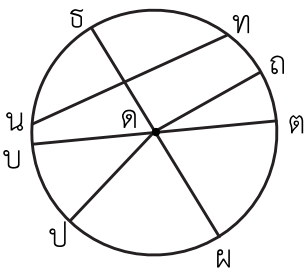
จุดศูนย์กลาง .....  
 รัศมี .....  
 เส้นผ่านศูนย์กลาง .....

4)



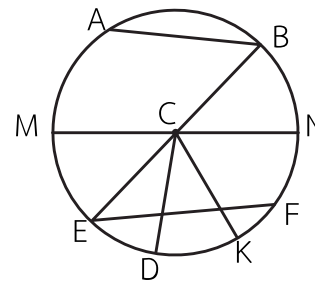
จุดศูนย์กลาง .....  
 รัศมี .....  
 เส้นผ่านศูนย์กลาง .....

5)



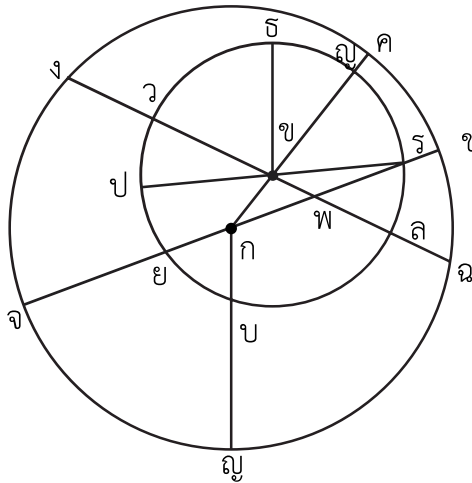
จุดศูนย์กลาง .....  
 รัศมี .....  
 เส้นผ่านศูนย์กลาง .....

6)



จุดศูนย์กลาง .....  
 รัศมี .....  
 เส้นผ่านศูนย์กลาง .....

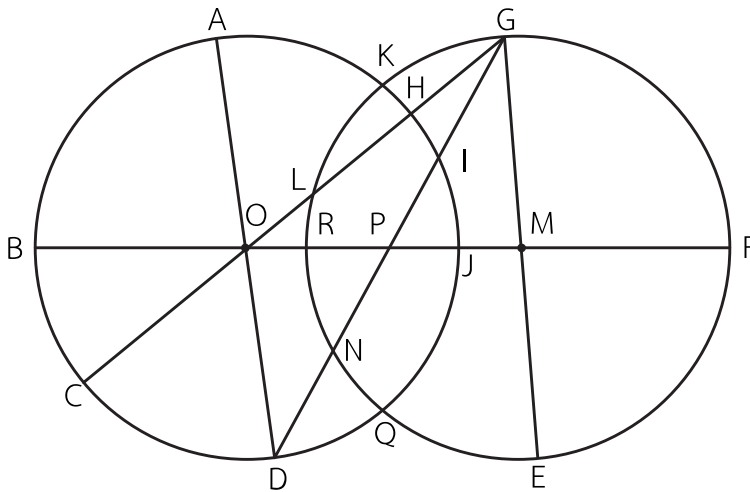
7)



วงกลม ก  
 จุดศูนย์กลาง .....  
 รัศมี .....  
 เส้นผ่านศูนย์กลาง .....

วงกลม ข  
 จุดศูนย์กลาง .....  
 รัศมี .....  
 เส้นผ่านศูนย์กลาง .....

8)




วงกลม O  
 จุดศูนย์กลาง .....  
 รัศมี .....  
 เส้นผ่านศูนย์กลาง .....

วงกลม M  
 จุดศูนย์กลาง .....  
 รัศมี .....  
 เส้นผ่านศูนย์กลาง .....

คำชี้แจง ให้นักเรียนปฏิบัติตามข้อกำหนดต่อไปนี้

- กำหนดชื่อจุดศูนย์กลางและลากรัศมี 5 เส้น พร้อมกำหนดชื่อ



- กำหนดชื่อจุดศูนย์กลางและลากเส้นผ่านศูนย์กลาง 2 เส้น พร้อมกำหนดชื่อ

