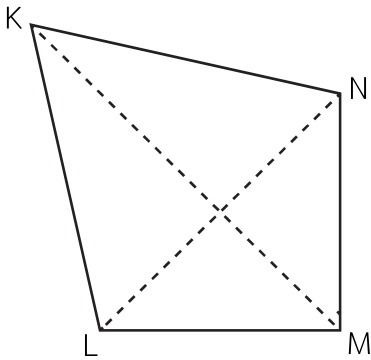




แบบฝึกหัด 6.26

คำชี้แจง หาพื้นที่ของรูปสี่เหลี่ยมรูปว่าว

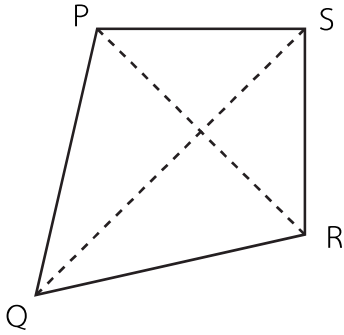
1.



กำหนดให้  $\square$  KLMN เป็นรูปสี่เหลี่ยมรูปว่าว  
 $\overline{KM}$  ยาว 9 เซนติเมตร และ  $\overline{LN}$  ยาว 6 เซนติเมตร  
หาพื้นที่ของ  $\square$  KLMN

Handwriting practice lines consisting of multiple horizontal dashed lines.

2.



กำหนดให้  $\square PQRS$  เป็นรูปสี่เหลี่ยมรูปว่าว  
 $\overline{QS}$  ยาว 15 เมตร และ  $\overline{PR}$  ยาว 10 เมตร  
 หาพื้นที่ของ  $\square PQRS$

---

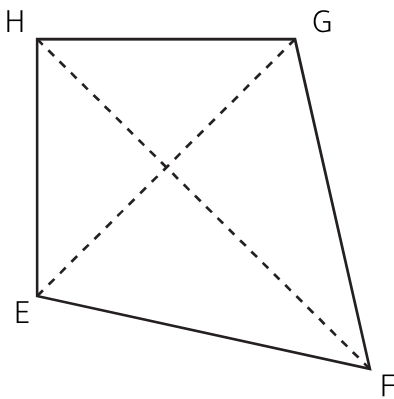
---

---

---

---

3.



กำหนดให้  $\square EFGH$  เป็นรูปสี่เหลี่ยมรูปว่าว  
 $\overline{HF}$  ยาว 18 วา และ  $\overline{EG}$  ยาว 13 วา  
 หาพื้นที่ของ  $\square EFGH$

---

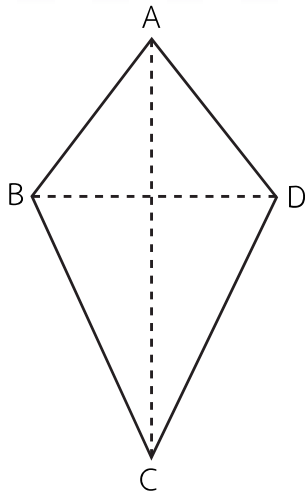
---

---

---

---

4.



กำหนดให้  $\square$  ABCD เป็นรูปสี่เหลี่ยมรูปว่าว  
 $\overline{AC}$  ยาว 7 เซนติเมตร และ  $\overline{BD}$  ยาว 5 เซนติเมตร  
หาพื้นที่ของ  $\square$  ABCD

---

---

---

---

---

---

---

---

---

---