


รายวิชา คณิตศาสตร์ รหัสวิชา ค14101

ชั้นประถมศึกษาปีที่ 4

เรื่อง **การบวกทศนิยมไม่เกิน 2 ตำแหน่ง**
ที่มีการทด

ครูผู้สอน ครูสุภัทสร จารุ่งเจริญ





**การบวกทศนิยม
ไม่เกิน 2 ตำแหน่ง
ที่มีการทด**



จุดประสงค์การเรียนรู้



หาผลบวกทศนิยมไม่เกิน 2 ตำแหน่ง
ที่มีการทดได้



$$5.43 + 3.52 = \square$$

$$\begin{array}{r} 5.43 \\ + 3.52 \\ \hline 8.95 \end{array}$$


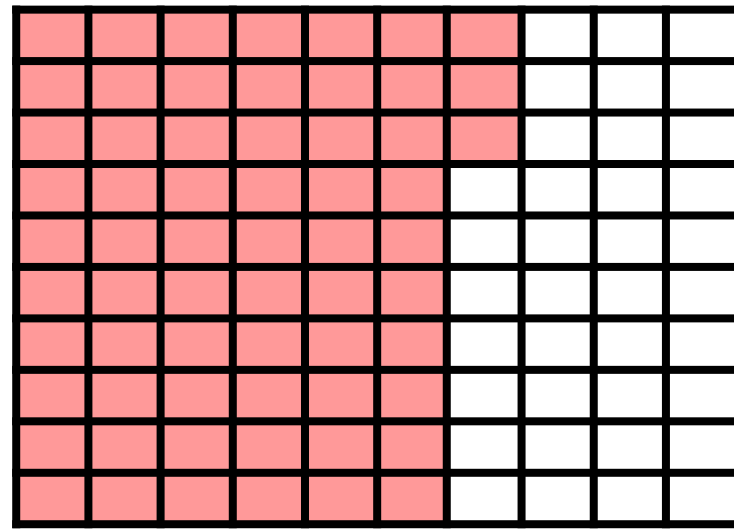


$$1.07 + 4.31 = \square$$

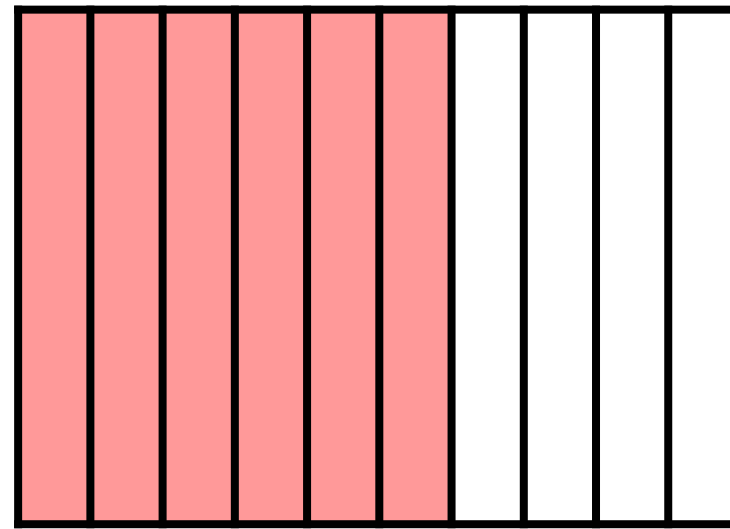
$$\begin{array}{r} 1.07 \\ + 4.31 \\ \hline 5.38 \end{array}$$




0.63





0.6



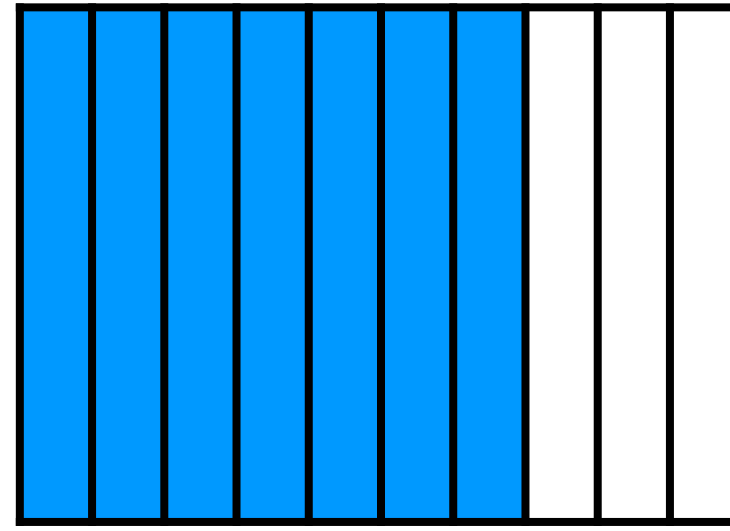
0.03




0.71




0.7



0.01




1.0


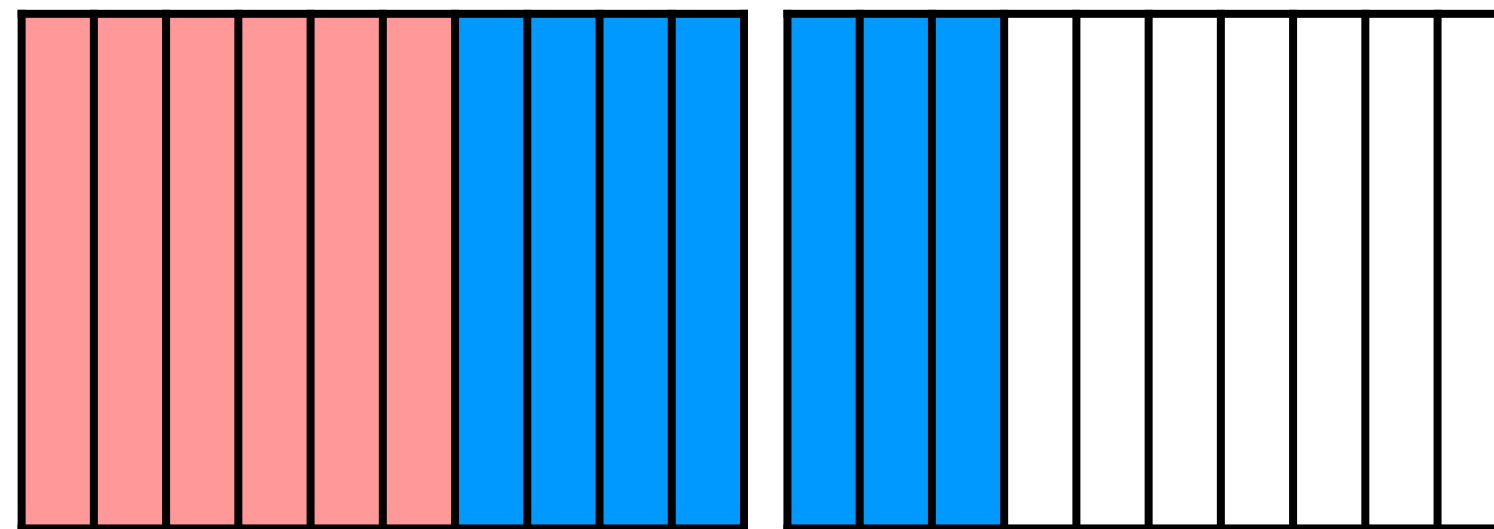



0.3

0.04



1.34



$$0.63 + 0.71 = \square$$

$$\begin{array}{r} 1 \\ 0.63 \\ + \\ \hline 0.71 \\ \hline \hline 1.34 \end{array}$$



$$2.95 + 3.77 = \square$$


$$\begin{array}{r} \overset{1}{2} . \overset{1}{9} 5 \\ 3 . 7 7 \\ \hline 6 . 7 2 \end{array} +$$




การบวกทศนิยมไม่เกิน 2 ตำแหน่ง

ใช้หลักการเดียวกันกับการบวกจำนวนนับ โดยนำ
จำนวนในหลักเดียวกันมาบวกกัน และบวกจำนวนใน
หลักขวาสุดก่อน ถ้าผลบวกครบสิบหรือมากกว่าสิบ
ให้ทดในหลักถัดไปทางซ้าย





แสดงวิธีทำต่อไปนี่



$$1) \quad 0.85 + 0.63 = \square$$

วิธีทำ

$$\begin{array}{r} 1 \\ 0.85 \\ + \\ \underline{0.63} \\ \hline 1.48 \end{array}$$

ตอบ ๑.๔๘



$$2) \quad 1.54 + 1.85 = \square$$

วิธีทำ

$$\begin{array}{r} 1 \\ 1.54 \\ + \\ \hline 1.85 \\ \hline \hline 3.39 \end{array}$$

ตอบ ๓.๓๙



$$3) \quad 21.34 + 45.71 = \square$$

วิธีทำ

$$\begin{array}{r} 21.34 \\ 45.71 \\ \hline 67.05 \end{array} +$$

ตอบ ๖๗.๐๕



แบบฝึกหัด 4.7

1. แสดงวิธีทำ

1) $0.8 + 0.91 = \square$

วิธีทำ

ตอบ

2) $1.67 + 0.14 = \square$

วิธีทำ

ตอบ

3) $2.05 + 1.79 = \square$

วิธีทำ

ตอบ



แบบฝึกหัดที่ 4.7

ข้อ 1



1. แสดงวิธีทำ

1) $0.8 + 0.91 = \square$

วิธีทำ

.....

.....

.....

ตอบ

.....

$$1) \quad 0.8 + 0.91 = \square$$

วิธีทำ

$$\begin{array}{r} 1 \\ 0.80 \\ + \\ \hline 0.91 \\ \hline \hline 1.71 \end{array}$$

ตอบ ๑.๗๑



การบวกทศนิยมไม่เกิน 2 ตำแหน่ง

ถ้าผลบวกครบสิบหรือมากกว่าสิบต้องทำอย่างไร

คำถามชวนคิด

(ถ้าผลบวกครบสิบหรือมากกว่าสิบ
ให้ทด 1 สิบ ในหลักถัดไปทางซ้าย)





สรุปบทเรียน

การบวกทศนิยม ใช้หลักการเดียวกันกับการบวกจำนวนนับ โดยนำจำนวนในหลักเดียวกันมาบวกกัน และบวกจำนวนในหลักขวาสุดก่อน ถ้าผลบวกครบสิบหรือมากกว่าสิบ ให้ทดในหลักถัดไปทางซ้ายมือ





หน่วยที่ ๔ ทศนิยม และการบวก การลบ การคูณ การหารทศนิยม

พ.ศ.๗/พ.ศ

แบบฝึกหัด 4.7

1. แสดงวิธีทำ

1) $0.8 + 0.91 = \square$

วิธีทำ _____

ตอบ _____

2) $1.67 + 0.14 = \square$

วิธีทำ _____

ตอบ _____

3) $2.05 + 1.79 = \square$

วิธีทำ _____

ตอบ _____



แบบฝึกหัดที่ 4.7

ข้อ 2 - 3



ใบงาน

เรื่อง การบวกทศนิยมไม่เกิน 2 ตำแหน่ง ที่มีการทด



คำชี้แจงบทบาทครูปลายทาง

1. แจกแบบฝึกหัด 4.7 ให้นักเรียน
2. ครูอธิบายคำชี้แจงแต่ละข้อ
3. ครูตรวจสอบความถูกต้องและให้ความช่วยเหลือตามความเหมาะสม



คำชี้แจงกิจกรรมนักเรียน

ให้นักเรียนทำแบบฝึกหัด 4.7



1. แสดงวิธีทำ

2) $1.67 + 0.14 = \square$

วิธีทำ

.....

.....

.....

ตอบ

.....

1. แสดงวิธีทำ

$$3) \quad 2.05 + 1.79 = \square$$

วิธีทำ

.....

.....

.....

ตอบ

.....



บทเรียนครั้งต่อไป

เรื่อง การบวกทศนิยม

ไม่เกิน 3 ตำแหน่ง

สิ่งที่ต้องเตรียม



แบบฝึกหัด 4.8

(สามารถดาวน์โหลดได้ที่ www.dltv.ac.th)

