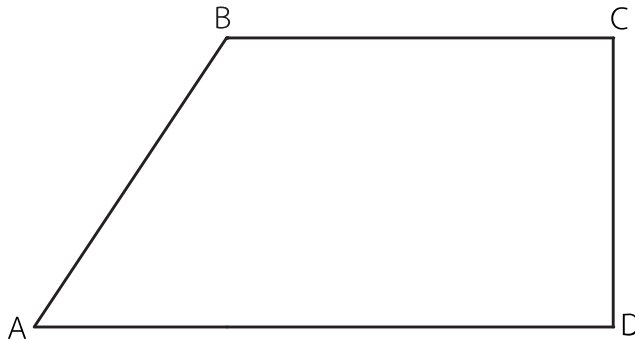




แบบฝึกหัด 6.24

คำชี้แจง หาพื้นที่รูปสี่เหลี่ยมคางหมูที่กำหนดให้

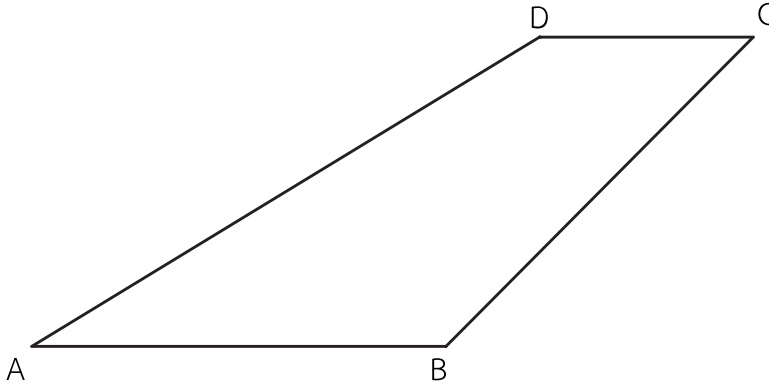
1.



กำหนดให้ \overline{AB} ยาว 6 หน่วย \overline{BC} ยาว 4 หน่วย และเส้นขนานห่างกัน 3 หน่วย

Handwriting practice lines (dotted lines)

2.



กำหนดให้ \overline{AB} ยาว 8 เซนติเมตร \overline{CD} ยาว 4 เซนติเมตร และเส้นขนานห่างกัน 6 เซนติเมตร

.....

.....

.....

.....

.....

.....

.....

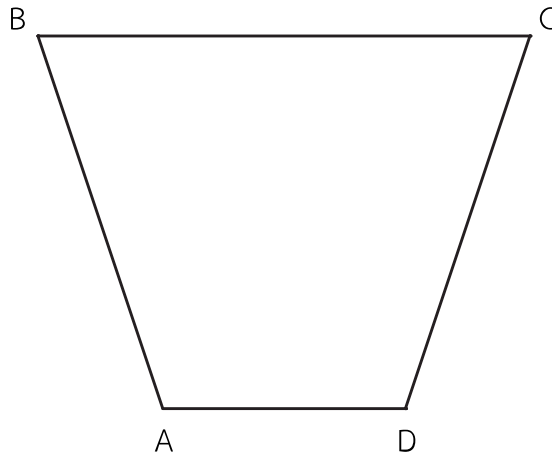
.....

.....

.....

.....

3.



กำหนดให้ \overline{AD} ยาว 4 เมตร \overline{BC} ยาว 9 เมตร และเส้นขนานห่างกัน 8 เมตร

.....

.....

.....

.....

.....

.....

.....

.....

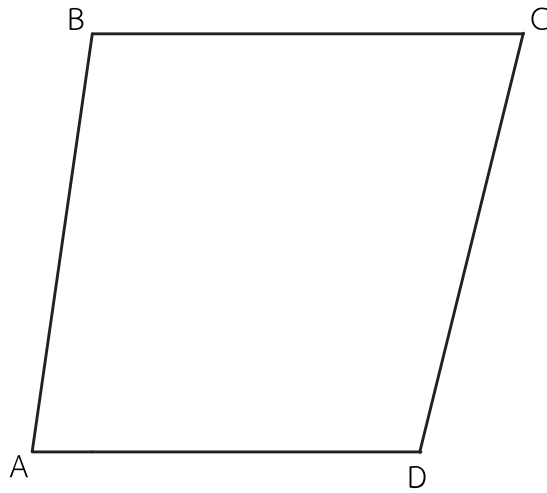
.....

.....

.....

.....

4.



กำหนดให้ \overline{AD} ยาว 2 เมตร \overline{BC} ยาว 2.2 เมตร และเส้นขนานห่างกัน 3 เมตร

.....

.....

.....

.....

.....

.....

.....

.....

.....

.....

.....