


แบบฝึกหัด 2.28

เขียนวงล้อมรอบส่วนที่โจทย์ถาม ชิดเส้นใต้ส่วนที่โจทย์บอก เขียนประโยคสัญลักษณ์ เขียนแสดงวิธีทำและคำตอบในช่องว่าง

1) น้อยชายขนมเค้กได้เงิน 328 บาท ขนมเค้กราคาชิ้นละ 8 บาท



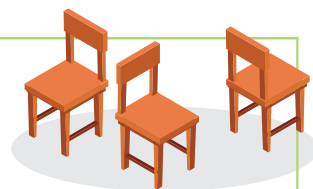
น้อยชายขนมเค้กได้กี่ชิ้น

ประโยคสัญลักษณ์

วิธีทำ

ตอบ น้อยชายขนมเค้กได้

2) นักเรียนจัดเก้าอี้ 558 ตัว เป็นแถว 9 แถว แถวละเท่า ๆ กัน



นักเรียนจัดเก้าอี้ได้แถวละกี่ตัว

ประโยคสัญลักษณ์

วิธีทำ

ตอบ นักเรียนจัดเก้าอี้ได้แถวละ



3) แม่มีนมกระป๋อง 432 กระป๋อง จัดใส่กล่อง กล่องละ 6 กระป๋อง
แม่จัดนมกระป๋องได้ทั้งหมดกี่กล่อง

ประโยคสัญลักษณ์

วิธีทำ

ตอบ แม่จัดนมกระป๋องได้ทั้งหมด

4) แม่ค้าซื้อแก้ว 7 โหล ราคาโหลละเท่า ๆ กัน เป็นเงิน 2,422 บาท
แก้วราคาโหลละกี่บาท

ประโยคสัญลักษณ์

วิธีทำ

ตอบ แก้วราคาโหลละ




5) ชนมรมแม่บ้านทำไม้กวาดดอกหญ้าได้ 1,962 อัน จัดส่งให้ร้านค้า 9 ร้าน
ร้านละเท่า ๆ กัน ร้านค้าแต่ละร้านได้ไม้กวาดดอกหญ้างี่อัน

ประโยคสัญลักษณ์

วิธีทำ

ตอบ ร้านค้าแต่ละร้านได้ไม้กวาดดอกหญ้า



6) พ่อมีกล้าต้นสัก 1,000 ต้น นำไปปลูก 8 แถว แถวละเท่า ๆ กัน
พ่อปลูกกล้าต้นสักแถวละกี่ต้น

ประโยคสัญลักษณ์

วิธีทำ

ตอบ พ่อปลูกกล้าต้นสัก แถวละ

