



แบบฝึกหัด 2.14

๑ ทาผลลบ

1)  $50 - 37 = \square$

$50 - 37 = \underline{\hspace{2cm}}$

2)  $40 - 12 = \square$

$40 - 12 = \underline{\hspace{2cm}}$

3)  $35 - 17 = \square$

$35 - 17 = \underline{\hspace{2cm}}$

4)  $33 - 29 = \square$

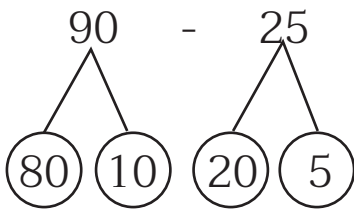
$33 - 29 = \underline{\hspace{2cm}}$





๒ เติมตัวเลขแสดงจำนวน

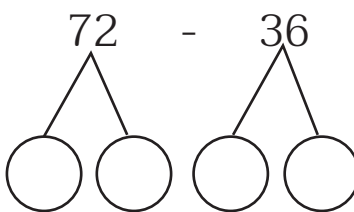
1)  $90 - 25 = \square$



ขั้นที่ 1	_____	-	_____	=	_____
ขั้นที่ 2	_____	-	_____	=	_____
ขั้นที่ 3	_____	+	_____	=	_____

$90 - 25 =$  \_\_\_\_\_

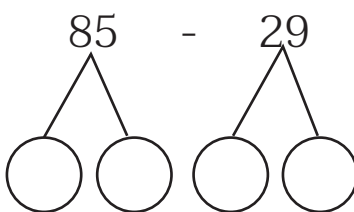
2)  $72 - 36 = \square$



ขั้นที่ 1	_____	-	_____	=	_____
ขั้นที่ 2	_____	-	_____	=	_____
ขั้นที่ 3	_____	+	_____	=	_____

$72 - 36 =$  \_\_\_\_\_

3)  $85 - 29 = \square$



ขั้นที่ 1	_____	-	_____	=	_____
ขั้นที่ 2	_____	-	_____	=	_____
ขั้นที่ 3	_____	+	_____	=	_____

$85 - 29 =$  \_\_\_\_\_





๓ ทหาผลลบ

1)  $70 - 34 = \square$

2)  $40 - 12 = \square$

3)  $33 - 16 = \square$

4)  $88 - 29 = \square$

5)  $51 - 22 = \square$

6)  $92 - 55 = \square$

7)  $85 - 48 = \square$

8)  $64 - 38 = \square$

9)  $76 - 59 = \square$

10)  $80 - 61 = \square$

