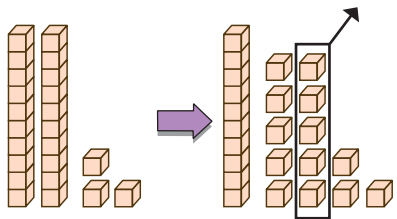


แบบฝึกหัด 2.13

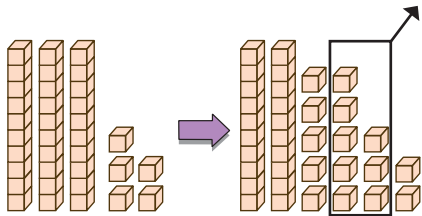
๑ ทาผลลบ

1) $23 - 5 = \square$



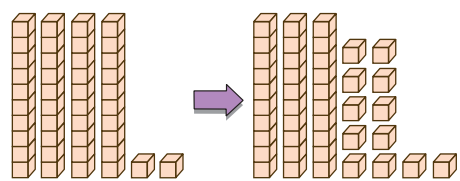
$23 - 5 =$ _____

2) $35 - 8 = \square$



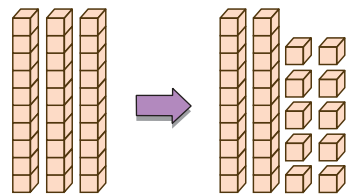
$35 - 8 =$ _____

3) $42 - 7 = \square$



$42 - 7 =$ _____

4) $30 - 5 = \square$

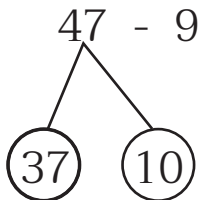


$30 - 5 =$ _____



๒) เติมตัวเลขแสดงจำนวน

1) $47 - 9 = \square$

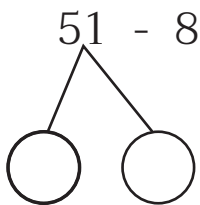


ขั้นที่ 1 _____ - _____ = _____

ขั้นที่ 2 _____ + _____ = _____

$47 - 9 =$ _____

2) $51 - 8 = \square$



ขั้นที่ 1 _____ - _____ = _____

ขั้นที่ 2 _____ + _____ = _____

$51 - 8 =$ _____

3) $72 - 4 = \square$

นับถอยหลังทีละ 1 จาก _____ ไป _____ ครั้ง



$72 - 4 =$ _____

4) $90 - 3 = \square$

นับถอยหลังทีละ 1 จาก _____ ไป _____ ครั้ง



$90 - 3 =$ _____





๓ ทาผลลบ

$$1) 42 - 5 = \square$$

$$2) 95 - 9 = \square$$

$$3) 50 - 7 = \square$$

$$4) 28 - 9 = \square$$

$$5) 31 - 2 = \square$$

$$6) 73 - 6 = \square$$

$$7) 87 - 8 = \square$$

$$8) 66 - 7 = \square$$

$$9) 60 - 4 = \square$$

$$10) 22 - 3 = \square$$

