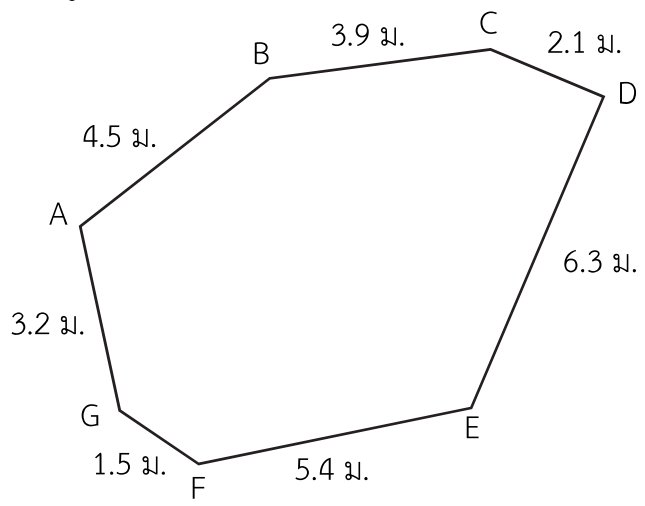




# แบบฝึกหัด 6.23

คำชี้แจง หาคความยาวรอบรูปของรูปหลายเหลี่ยม

1. หาคความยาวรอบรูปของรูปเจ็ดเหลี่ยม ABCDEFG




---

---

---

---

---

---

---

---

---

---

---

---

---

---

---

---

---

---

---

---

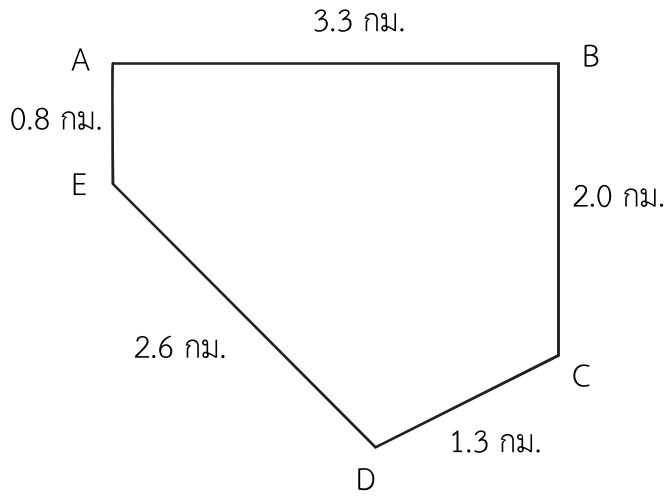
---

---

---

---

2. หาคความยาวรอบรูปของรูปห้าเหลี่ยม ABCDE



.....

.....

.....

.....

.....

.....

.....

.....

.....

.....

.....

.....

.....

.....

.....

.....

.....

.....

.....

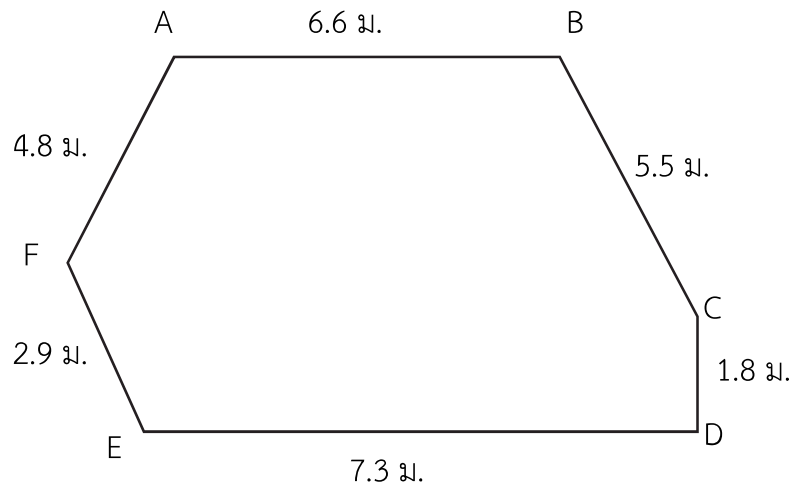
.....

.....

.....

.....

3. หาคความยาวรอบรูปของรูปหกเหลี่ยม ABCDEF



.....

.....

.....

.....

.....

.....

.....

.....

.....

.....

.....

.....

.....

.....

.....

.....

.....

.....

.....

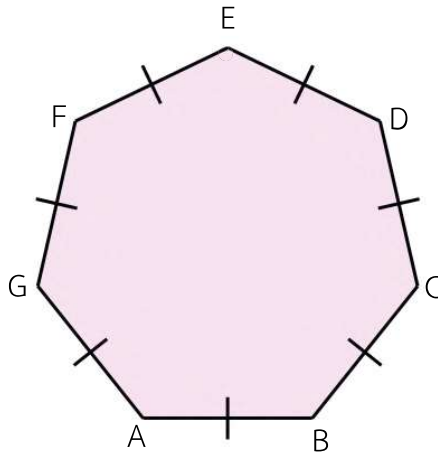
.....

.....

.....

.....

4. หาคความยาวรอบรูปของรูปเจ็ดเหลี่ยมด้านเท่า ABCDEFG เมื่อกำหนดให้  $\overline{AB}$  ยาว 4 ซม.



.....

.....

.....

.....

.....

.....

.....

.....

.....

.....

.....

.....

.....

.....

.....

.....

.....

.....

.....

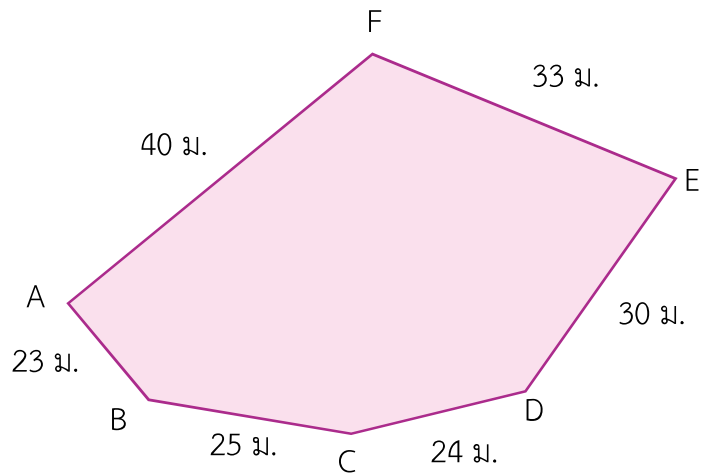
.....

.....

.....

.....

5. หาคความยาวรอบรูปของรูปหกเหลี่ยม ABCDEF



.....

.....

.....

.....

.....

.....

.....

.....

.....

.....

.....

.....

.....

.....

.....

.....

.....

.....

.....

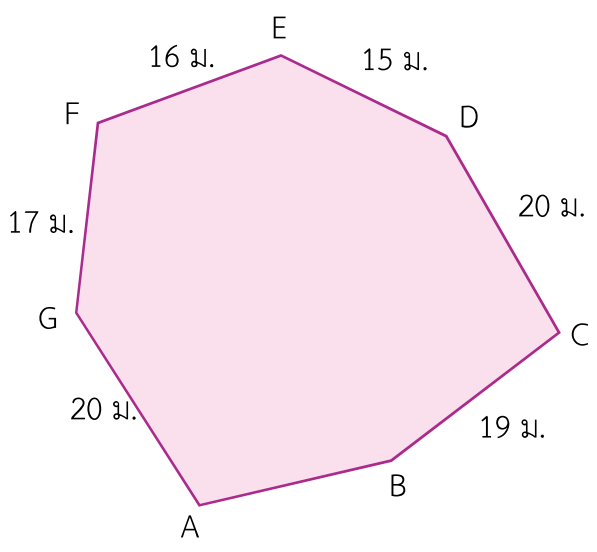
.....

.....

.....



7. รูปเจ็ดเหลี่ยม ABCDEFG มีความยาวรอบรูป 125 เมตร ด้าน AB ยาวเท่าใด



.....

.....

.....

.....

.....

.....

.....

.....

.....

.....

.....

.....

.....

.....

.....

.....

.....

.....

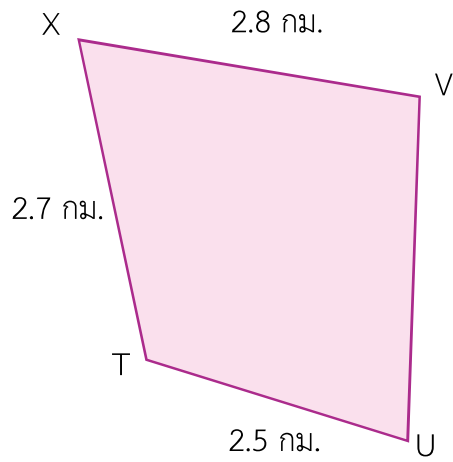
.....

.....

.....

.....

8. รูปสี่เหลี่ยม TUVX มีความยาวรอบรูป 10.9 กิโลเมตร ด้าน UV ยาวเท่าใด



.....

.....

.....

.....

.....

.....

.....

.....

.....

.....

.....

.....

.....

.....

.....

.....

.....

.....

.....

.....

.....

.....

.....