

แบบฝึกหัด 2.27

1) เขียนคำตอบในช่องว่าง และเขียน ✓ ใน

1) $13 \div 4 = \square$



จัดตัวนับ 13 อัน เป็นกลุ่ม กลุ่มละ 4 อัน ได้ กลุ่ม เหลือ อัน

$13 \div 4$ เป็นการหาร ลงตัว ไม่ลงตัว

2) $12 \div 2 = \square$



จัดตัวนับ 12 อัน เป็นกลุ่ม กลุ่มละ 2 อัน ได้ กลุ่ม เหลือ อัน

$12 \div 2$ เป็นการหาร ลงตัว ไม่ลงตัว



3) $14 \div 5 = \square$





จัดตัวนับ 14 อัน เป็นกลุ่ม กลุ่มละ 5 อัน ได้ กลุ่ม เหลือ อัน

$14 \div 5$ เป็นการหาร ลงตัว ไม่ลงตัว


๒ เขียนคำตอบและเขียนในรูปการหาร

1) 



จัดตัวนับ 7 อัน เป็น 2 กลุ่ม กลุ่มละเท่า ๆ กัน ได้กลุ่มละ อัน เหลือ อัน
 เขียนในรูปการหาร

2) 


จัดตัวนับ 14 อัน เป็น 3 กลุ่ม กลุ่มละเท่า ๆ กัน ได้กลุ่มละ อัน เหลือ อัน
 เขียนในรูปการหาร

3) 

จัดตัวนับ 16 อัน เป็นกลุ่ม กลุ่มละ 6 อัน ได้ กลุ่ม เหลือ อัน
 เขียนในรูปการหาร

4) 

จัดตัวนับ 15 อัน เป็นกลุ่ม กลุ่มละ 4 อัน ได้ กลุ่ม เหลือ อัน
 เขียนในรูปการหาร